
二年级第二学期数学名校期末测试卷

一、填一填。(8题4分，其余每空1分，共26分)

1. $54 \div 6 = (\quad)$ ，表示54里面有(\quad)个6，也表示把54平均分成(\quad)份，每份是(\quad)。

2. 一个四位数，个位上是6，最高位上是最大的一位数，其余各位上都是0，这个数是(\quad)，读作(\quad)。

3. 2014年仁川亚运会中，中国代表团总人数是1328人，其中运动员有897人，约(\quad)人；工作人员有401人，约(\quad)人。

4. “神舟八号”飞船发射升空是(\quad)现象，螺旋桨工作是(\quad)现象。(填“平移”或“旋转”)

5. 一头小牛约重40(\quad)。

一支圆珠笔重约10(\quad)。

欢欢体重28(\quad)，身高128(\quad)。

6. 63里面有(\quad)个7，55里面最多有(\quad)个8。

7. “我爱祖国我爱祖国我爱……”按这样排下去，第21个字是(\quad)。

), 第 34 个字是()。

8. 按要求排一排。

(1) 4508 5048 3999 6045 9993

() > () > () > () > ()

(2) 2 千克 1600 克 800 克 5 千克 4999 克

() < () < () < () < ()

9. 3800 里面有()个百; 56 个十是(); 由 7 个千、2 个十和 6 个一组成的数是(), 约是()千。

二、判断。(每题 1 分, 共 5 分)

1. 在有余数的除法里, 余数一定要比商小。 ()

2. 一个四位数的最高位是万位。 ()

3. $66 - 27 - 18$ 与 $66 - (27 + 18)$ 的运算顺序不相同, 但结果相同。()

4. 2 千克白糖和 2 千克西瓜一样重。 ()

5. 汽车方向盘的转动是旋转现象。 ()

三、选一选。(每题 1 分, 共 5 分)

1. 计算 $36 \div 4$ 所用的口诀是()。

① 六六三十六

② 四九三十六

③ 四四十六

2. 下列数中, 比 6000 小, 比 3500 大的是()。

① 5098

② 6001

③ 3050

3. 一个盒子的质量是 200 克, 在盒子里放入 800 克的点心后, 盒子和点心一共重()。

① 600 克

② 10000 克

③ 1 千克



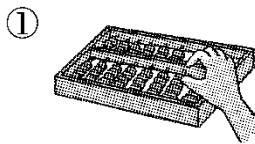
4. 下列各数中一个零都不读的是()。

① 4500

② 4005

③ 4050

5. 下列运动中, 不是旋转的是()。



四、算一算。(1 题 6 分, 其余每题 8 分, 共 22 分)

1. 直接写结果。

$9 \times 9 =$

$600 + 3000 =$

$64 \div 8 =$

$2000 - 100 =$

$60 - 24 =$

$72 \div 9 =$

$720 + 80 =$

$40 \div 5 =$

$6 \div 6 =$

$18 \div 2 =$

$1700 + 300 =$

$9000 + 1000 =$

2. 列竖式计算。

$72 \div 8 =$

$60 \div 7 =$

$39 \div 6 =$

$43 \div 9 =$

3. 计算下面各题。

$49 \div (26 - 19)$

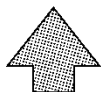
$67 - 7 \times 9$

$18 + 36 \div 6$

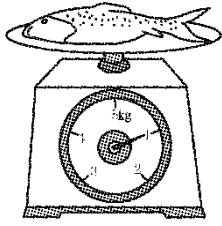
$(60 - 18) \div 7$

五、连一连，填一填。(每题4分，共8分)


1. 下面的图案分别是哪张纸上对折后剪出来的？连一连。



2. 有多重？



一条鱼重_____。



小朋友的体重是_____。


六、解决问题。(1题6分,2题12分,其余每题8分,共34分)

1. 同学们进行古诗文诵读表演。有6个小组参加,每个小组有8名同学,其中有两个小组的同学表演完了,还有多少名同学没有表演?

2. 有36枝花。



限插5枝



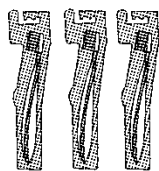
限插8枝

(1)全部插进小花瓶,至少要多少个花瓶?

(2)全部插进大花瓶，至少要多少个花瓶？

(3)如果大花瓶和小花瓶共同搭配，要多少个花瓶？

3. 买牙刷。



①

21元



②

16元



③

9元

(1)你认为买哪一种牙刷最划算？

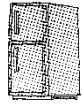
(2)妈妈想买6把牙刷，你建议买哪种？要花多少元？

4. 购物。

(1) 买一台洗衣机和一台冰箱一共要多少元？



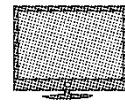
2800元



5000元



528元



3098元

(2) 爸爸想买一台电扇和一台电视机，带 3500 元够吗？

答案

一、1.9 9 6 9 2.9006 九千零六 3.900 400

4. 平移 旋转 5.千克 克 千克 厘米 6.9 6 7.我 爱

8. (1) $9993 > 6045 > 5048 > 4508 > 3999$

(2) $800 \text{ 克} < 1600 \text{ 克} < 2 \text{ 千克} < 4999 \text{ 克} < 5 \text{ 千克}$

9. 38 560 7026 七


二、1.× 2.× 3.√ 4.√ 5.√

三、1.② 2.① 3.③ 4.① 5.①

四、1.81 3600 8 1900 36 8 800 8 1 9 2000 10000

2. 9 8.....4 6.....3 4.....7 3.7 4 24 6

五、1.



2. 1 kg 25 kg

六、1. $(6 - 2) \times 8 = 32$ (名)或 $6 \times 8 - 2 \times 8 = 32$ (名)

2. (1) $36 \div 5 = 7$ (个).....1(枝) 小瓶: $7 + 1 = 8$ (个)

(2) $36 \div 8 = 4(\text{个}) \dots\dots 4(\text{枝})$ 大瓶 : $4 + 1 = 5(\text{个})$

(3) $4 \times 5 + 2 \times 8 = 36(\text{枝})$

大瓶要 2 个 , 小瓶要 4 个。(答案不唯一)

3 . (1) $21 \div 3 = 7(\text{元})$ $16 \div 2 = 8(\text{元})$

买①最划算。

(2) 买①。 $6 \times 7 = 42(\text{元})$

4 . (1) $2800 + 5000 = 7800(\text{元})$

(2) $528 > 500$ $3098 > 3000$ $528 + 3098 > 3500$ 不够。