

## 2.31 十几减5、4、3、2


一、看图列式计算。



$$\square \bigcirc \square = \square$$

$$\square \bigcirc \square = \square$$

二、我会连。(连一连)



三、看图列式计算。



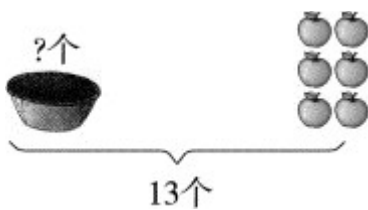
$$\square \bigcirc \square = \square$$



$$\square \bigcirc \square = \square$$







$$\square \bigcirc \square = \square$$



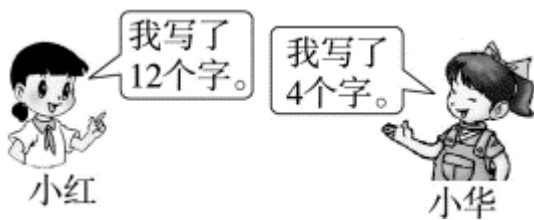
$$\square \bigcirc \square = \square$$

四、购物。

				
原有	14个	17盒	( )辆	11个
卖出	5个	( )盒	3辆	( )个
还剩	( )个	9盒	8辆	2个

五、解决问题。

写字比赛。



小红比小华多写几个字？

六、把5、6、7、8分别填入□中（每个数只能用一次），使等式成立。

$$\square + \square - \square = \square$$

答案：

一、 $12 - 5 = 7$   $11 - 3 = 8$

二、略

三、 $11 - 3 = 8$   $12 - 4 = 8$   $13 - 5 = 8$   $13 - 6 = 7$

四、9 8 11 9

五、 $12 - 4 = 8$  (个)

六、 $5 + 8 - 6 = 7$  (答案不唯一)