

周测培优卷 8

一、圈一圈，算一算。(每题 8 分，共 16 分)



$$36 + 5 = \square$$

先算 $\square + \square = \square$

再算 $\square + \square = \square$



$$34 - 6 = \square$$

先算 $\square - \square = \square$

再算 $\square + \square = \square$

二、计算挑战。(共 52 分)

1. 看谁算得又对又快。(每题 1 分，共 14 分)

$40 + 25 =$ $75 + 6 =$ $93 - 60 =$ $81 - 7 =$

$7 + 76 =$ $85 - 50 =$ $56 - 9 =$ $8 + 38 =$

$35 + 30 - 5 =$ $56 - (12 + 8) =$ $18 + (35 + 5) =$

$95 - 7 - 50 =$ $74 - (47 - 7) =$ $62 - (27 + 3) =$

2. 在 里填上“+”或“-”。(每题 1 分，共 6 分)

$27 \text{ } 3 = 30$ $48 \text{ } 2 = 46$ $75 \text{ } 50 = 25$

$40 \text{ } 5 = 35$ $18 \text{ } 6 = 24$ $53 \text{ } 3 = 50$

3. 在 \bigcirc 里填上“>”“<”或“=”。(每题 2 分，共 12 分)

$42 - 6 \bigcirc 34$ $85 - 60 \bigcirc 34 - 7$ $27 + 8 \bigcirc 33$

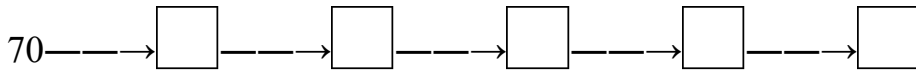
$38 + 5 \bigcirc 75 - 30$ $40 + 27 \bigcirc 72$ $63 - 7 \bigcirc 20 + 36$

4. 连续算一算。(每空 2 分，共 20 分)
















(1) 16 连续加 8，写出每次加得的和。

$16 \longrightarrow \square \longrightarrow \square \longrightarrow \square \longrightarrow \square \longrightarrow \square$

(2) 70 连续减 8，写出每次减得的差。



三、连一连。(10分)

 54-8	 20+34	 57+6	 72-8	 66+20
 46	 63	 54	 86	 64
 84-30	 37+9	 58+6	 68-5	 89-3

四、走进生活，解决问题。(1题6分，其余每题8分，共22分)


1. 搬走了多少盆花？



2. 一共有多少个苹果？



3. 还剩多少页没有看？(用两种方法解答)



答案

一、圈略 41 6 5 11 30 11 41 28 14 6 8 20 8 28

二、1. 65 81 33 74 83 35 47 46 60 36 58 38 34
32

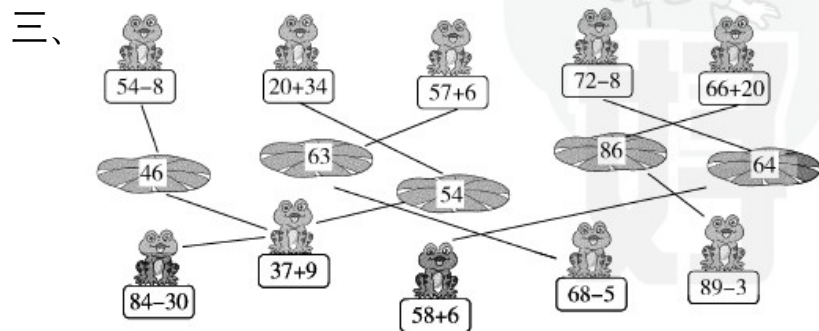
2. + - - - + -

3. > < > < < =

4. (1) 24 32 40 48 56

(2) 62 54 46 38 30

[点拨] 计算每步不要错，前面一步错了，后面步步错。



四、1. $61 - 8 = 53$ (盆) 口答：搬走了 53 盆花。

2. $20 + 20 + 20 + 20 = 80$ (个) 口答：一共有 80 个苹果。

3. 第一种方法： $58 - 20 - 30 = 8$ (页)

第二种方法： $20 + 30 = 50$ (页) $58 - 50 = 8$ (页)

口答：还剩 8 页没有看。