



第二单元达标测试卷

一、小动物回家。(12分)



二、填一填。(1题9分，2题4分，3题5分，共18分)

1.比一比。



$11 - 7 \bigcirc 5$

$14 - 6 \bigcirc 7$

$13 - 5 \bigcirc 8$

$14 - 5 \bigcirc 9$

$13 - 9 \bigcirc 4$

$14 - 7 \bigcirc 6$

$12 - 7 \bigcirc 15 - 9$

$16 - 7 \bigcirc 12 - 4$

$11 - 6 \bigcirc 13 - 8$


2.填表格。

被减数	13	11	15	17	11		12	16
减数	4	2				9		8
差			9	9	4	9	3	

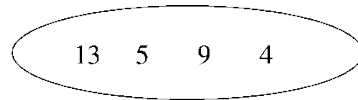
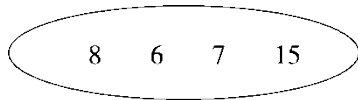
3.排一排。

$$\square < \square < \square < \square < \square$$

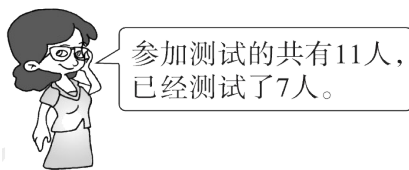
三、小猫钓的可能是哪两条鱼？连一连。(6分)



四、从圈里选出三个数写出一道加法算式和两道减法算式。(6分)



五、还有多少人没有测(cè)试(shì)? (5分)



$$\square \bigcirc \square = \square \quad ()$$


六、在()里填上合适的数。(6分)

$$() + 8 = 13 \quad () - 6 = 12$$

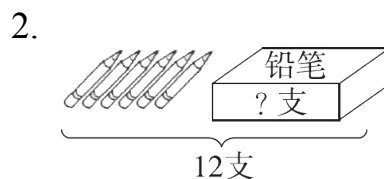
$$() - 8 = 8 \quad 7 + () = 15$$

$$11 - () = 5 \quad 17 - () = 9$$

七、看图列式计算。(每题3分,共6分)



$$\square \bigcirc \square = \square \text{ (个)}$$



$$\square \bigcirc \square = \square \text{ (支)}$$

八、解决问题。(1题5分,5题6分,其余每题10分,共41分)

1. 看书。



(1)小玲比小娟少看多少页?

$$\square \bigcirc \square = \square \text{ ()}$$

(2)小玲和小娟一共看了多少页?

$$\square \bigcirc \square = \square \text{ ()}$$

2. 教室里有18个学生,其中男生10个。从教室走出来9个学生,

教室里还有多少个学生?

$$\square \bigcirc \square = \square \text{ ()}$$

3. 一共有12个学生游泳。

有4个女生。



(1) 水里有6个，岸上有多少个？

$$\square \bigcirc \square = \square (\quad)$$

(2) 男生有多少个？

$$\square \bigcirc \square = \square (\quad)$$

4. 踢毽子比赛。

我踢了8下。



言言

我踢了6下。



北北

我踢了9下。



西西

(1) 西西比北北多踢几下？

(2) 再提一个数学问题，并解答。

5. 小丽原来有几本《连环画》？



小明

我有14本《连环画》。



小丽

你给我4本，我们就同样多了。

答案

一、8 13 0 13 8 15 8 9 9 5 9 16

二、1. < > = = = > < > =

2. 从左到右依次填：9 9 6 8 7 18 9 8

3. $12 - 8$ $13 - 7$ $15 - 8$ $11 - 3$ $11 - 2$

三、略

四、 $7 + 8 = 15$ $15 - 7 = 8$ $15 - 8 = 7$

$4 + 9 = 13$ $13 - 4 = 9$ $13 - 9 = 4$

五、5 18 16 8 6 8 [点拨]填未知数时用逆向思维，求加数用减法，求被减数用加法，求减数用减法。

六、1. $11 - 3 = 8$ 2. $12 - 6 = 6$

七、1. $11 - 7 = 4$ (人)

2. (1) $13 - 6 = 7$ (页)

(2) $13 + 6 = 19$ (页)

3. $18 - 9 = 9$ (个)

4. (1) $12 - 6 = 6$ (个)

(2) $12 - 4 = 8$ (个)

5. (1) $9 - 6 = 3$ (下)

(2) 言言和北北一共踢了几下？

$8 + 6 = 14$ (下)(答案不唯一)

6. 小明: ○○○○○○○○○○○○○○○○○○○

小丽:

? 本	○○○○
-----	------

$14 - 4 - 4 = 6$ (本)