
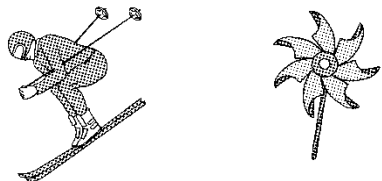


### 第三单元过关检测卷


一、下面哪些是轴对称图形？是的在下面画“√”，不是的画“×”。(9分)




二、下列现象是平移的画“○”，是旋转的画“□”。(12分)



滑雪( )      小风车( )



滑滑梯( )      拧螺丝( )

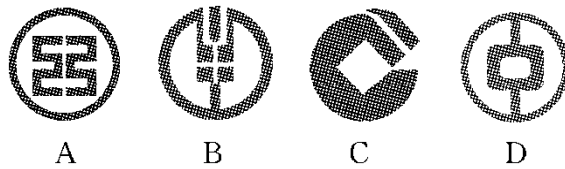


三、判断。(对的画“√”，错的画“×”)(每题 2 分，共 10 分)

1. 熟透的苹果从树上掉下来是平移。 ( )
2. 一张纸对折后剪出的图形一定是轴对称图形。 ( )
3. 字母 N 是轴对称图形。 ( )
4. 小朋友玩荡秋千是旋转现象。 ( )
5. 旋转之后图形的形状发生了改变。 ( )

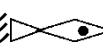
四、选一选。(每题 2 分，共 10 分)

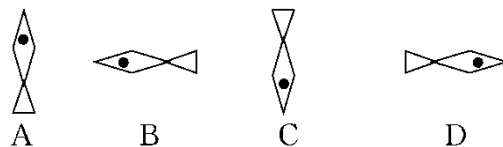
1. 下列四个银行的商标图案中，不是轴对称图形的是( )。




2. 下列图形在镜子中没有变化的是( )。

- A.  $\square$     B. a    C.  $\bigcirc$     D.  $\boxplus$

3. 图形  可以由下面的图形( )平移得到。



4. 图形  可以由下面的图形( ) 旋转得到。



A



B



C

5. 下面的图形沿着一条直线折叠后不能完全重合的是( )。



A



B



C

五、把通过平移能得到的图形连起来。(8分)



六、下面哪幅图是由图①旋转得到的? 圈出来。(4分)



七、下面的图形分别是哪张纸上剪下来的?(连一连)(6分)

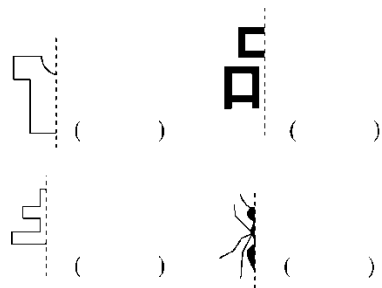


八、写出分针从 12 旋转到下面各个位置所经过的时间。(6 分)

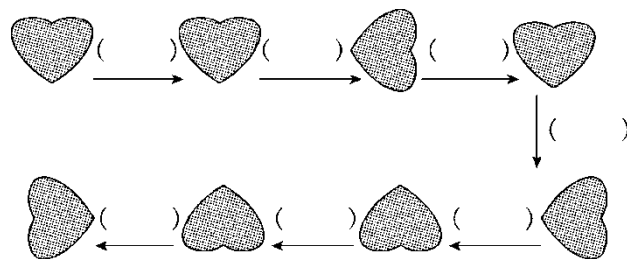


九、下面的图形和汉字都是轴对称图形，你能猜出它们分别是什么

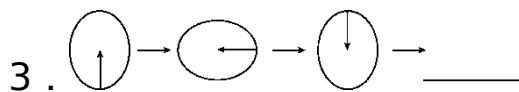
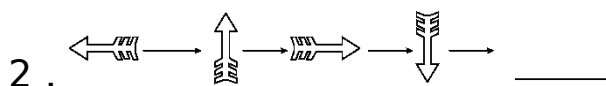
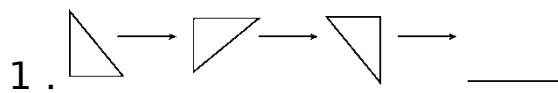
吗？在( )里写出来。(12 分)

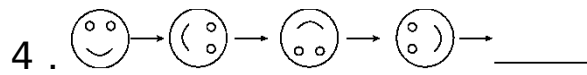


十、观察下图，在( )里填上“平移”或“旋转”。(7 分)



十一、按照图中的规律画一画。(每题 2 分，共 8 分)






十二、按要求填一填。(1题2分,2题6分,共8分)

1. 通过平移相互重合的图形有( )。

2. 通过旋转相互重合的图形( )。



---

## 答案

一、× × √ × √ × √ √ ×

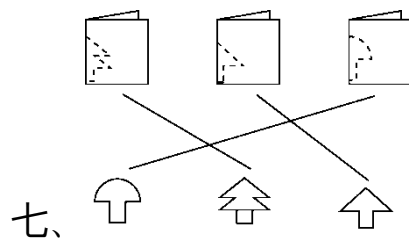
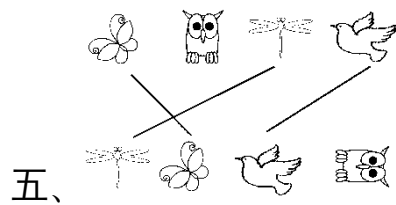
二、滑雪(○) 小风车(□) 滑滑梯(○)

拧螺丝(□) 舞厅旋转灯(□)

光盘架从电脑中弹出(○)

三、1.√ 2.√ 3.× 4.√ 5.×

四、1.C 2.C 3.D 4.A 5.C







八、30 20 50

九、衣服 品 土 蚂蚁

十、平移 旋转 旋转 旋转 旋转 平移 旋转

---

十一、1.  2.  3.  4. 

十二、1. ④和⑦

2. ①和⑤, ②和⑨, ③和⑧