


第九单元达标测试卷

一、填一填。(2题3分,其余每空2分,共23分)

1. 英语测试,天天、丽丽、伟伟三人获得了前三名,丽丽是第()名,伟伟是第()名,天天是第()名。



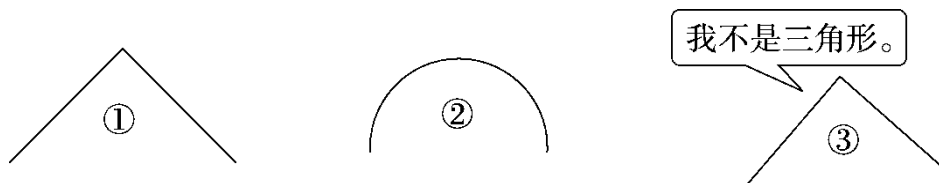
2. 有三张卡片,上面分别标有5、9、0,红红、东东、婷婷每人拿了一张。红红拿的不是5,东东拿的是最大的一位数。他们各拿的是几?

红红	东东	婷婷

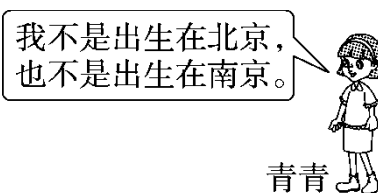
3. 乐乐、欢欢、聪聪、文文比赛跑步,乐乐不是最快的,但比欢欢、聪聪快,欢欢比聪聪慢。第一名是(),第二名是(),第三名是(),第四名是()。

4. 下图是一个圆、一个三角形、一个正方形的一部分。图①是(

), 图②是(), 图③是()。



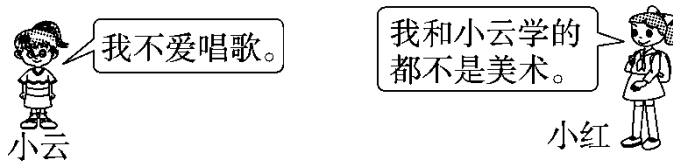
二、选一选。(每题3分,共15分)



1. 三个小朋友分别出生在上海、南京和北京三个城市,青青出生的城市是()。

- ① 北京 ② 南京 ③ 上海

2. 三个小朋友假期里分别在三个兴趣班学习,学的是唱歌、美术和舞蹈。



请你猜一猜,小云学的是()。

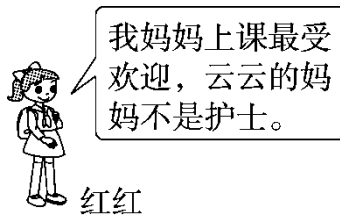
- ① 唱歌 ② 美术 ③ 舞蹈

3. 今天是“六一”儿童节,新华书店抽奖结果揭晓啦。大奖的号码是

由6、8、9组成的三位数，这个三位数十位上的数字不是最大的，个位上的数字是最小的。大奖号码是()。

- ①689 ②896 ③986

4. 明明、云云、红红三人的妈妈，其中有一位是护士，有一位是教师，有一位是司机。你推理出云云的妈妈是()。



- ① 护士 ② 教师 ③ 司机

5. 在下面的方格中，每行、每列都有1~4这四个数，并且每个数在每行、每列都只出现一次。A是()。

2	3		
A			3
		2	
4			

三、在方框里填上1~9，每个竖式中的数字不能重复。(12分)

$$\begin{array}{r} 37 \\ + 5 \square \\ \hline \square 1 \end{array}$$

$$\begin{array}{r} 45 \\ + \square \square \\ \hline 62 \end{array}$$

$$\begin{array}{r} \square \square \\ - \square 8 \\ \hline 54 \end{array}$$

$$\begin{array}{r} \square 4 \\ - \square \square \\ \hline 56 \end{array}$$

四、解决问题。(4题10分，其余每题8分，共50分)

1. 四个同学排成一排照相。排在中间的是小丽，小芳在小丽的左边，小芳不是排在最右边，也不是最左边，小美在小红的左边。把他们的名字和位置连一连。



小丽

①



小红

②



小芳

③



小美

④

2. 小乐、小林、小方、小美四人中，小乐不是最矮的，小美不是最高的，但比小乐高，小方没有其他三人高。请你按从高到矮的顺序把他们排排队。

3. 在下面的格子中，每行、每列都有“热、爱、祖、国”这四个字，并且每个字在每行、每列中都只出现一次。请你把空白部分补充完整。

	爱		
		热	国
热			
		祖	

4. 赵老师、李老师、王老师分别教语文、数学、英语中的一门。语文老师不姓李，李老师不带三角尺和米尺上课，赵老师和数学老师是好朋友。赵老师教()，李老师教()，王老师教()。

	数学	英语	语文
赵老师			
李老师			

王老师			
-----	--	--	--

5. (变式题)下面的方格中，每行、每列都有 5~8 这四个数，并且每行、每列都只出现 1 次。请填完下面的方格。

			6
7	6		
85			

6. 在下面的方格中，每行、每列都有东、南、西、北这四个字，并且每行、每列都只出现 1 次。请填完下面的方格。

	西		
	北	南	
南			
东			北

答案

一、1.三 二 一 2.0 9 5 3.文文 乐乐 聪聪 欢欢

4. 三角形 圆 正方形

二、1.③ 2.③ 3.③ 4.③ 5.①

三、

$$\begin{array}{r} 3 \quad 7 \\ + \quad 5 \quad \boxed{4} \\ \hline \boxed{9} \quad 1 \end{array} \quad \begin{array}{r} 4 \quad 5 \\ + \quad \boxed{1} \quad \boxed{7} \\ \hline 6 \quad 2 \end{array}$$
$$\begin{array}{r} \boxed{9} \quad \boxed{2} \\ - \quad \boxed{3} \quad 8 \\ \hline 5 \quad 4 \end{array}$$

易错点拨：个位只能填2， $12 - 8 = 4$ 。算式里已有2、8、5、4，

只能是 $9 - 3 = 6$ 或 $7 - 1 = 6$ ，答案不唯一。

$$\begin{array}{r} \boxed{9} \quad 4 \\ - \quad \boxed{3} \quad \boxed{8} \\ \hline 5 \quad 6 \end{array}$$

易错点拨：个位只能填8，十位有 $7 - 1 = 6$ ， $8 - 2 = 6$ ， $9 - 3 =$

6，算式里已有数字4，8，6，5，只能是 $9 - 3 = 6$ 或 $7 - 1 = 6$ ，

答案不唯一。

四、1.



2. 小林 小美 小乐 小方

3.

祖	爱	国	热
爱	祖	热	国
热	国	爱	祖
国	热	祖	爱

4. 语文 英语 数学

	数学	英语	语文
赵老师	×	×	√
李老师	×	√	×
王老师	√	×	×

5.

5	8	7	6
7	6	5	8
6	5	8	7
8	7	6	5

6.

北	西	东	南
西	北	南	东
南	东	北	西
东	南	西	北