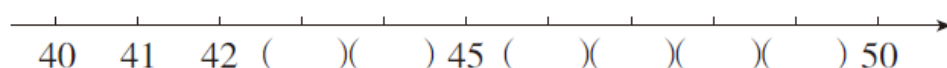


周测培优卷 6

一、我会填。(每题 4 分,共 20 分)




1. 最大的一位数是(), 最小的两位数是()。

2. 89 后面的一个数是(), 80 前面的一个数是()。

3. 


在 40 和 50 两个数中, 48 更接近(), 43 更接近()。

4. 10 个 10 个地数, 数()次就是 100; 4 个 4 个地数, 12 后面的那个数是()。

5. 4 个  装一盘, 装了 5 盘。如果 10 个  装一盘, 这些  可以装()盘。



二、我会算。(每题 2 分,共 20 分)



20+6=	3+70=	4+60=	95-5=
63-60=	80+7=	7+30=	86-80=
48-8=		96-6=	

三、走进生活, 解决问题。(每题 12 分, 共 60 分)

1. 已经折了多少只纸鹤?



$$\square \bigcirc \square = \square (\quad)$$

2.



跳绳的有多少人？画“△”。跑步的有多少人？画“○”。

20 人	24 人	30 人	75 人

3. 分文具盒。



4. 网上优秀作文大比拼。



小丽的作文获得了多少个赞？

$$\square \bigcirc \square = \square (\quad)$$

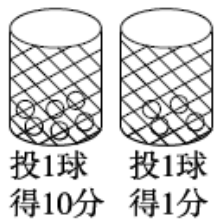
5. 投球比赛。



天天



兰兰



(1) 兰兰投了多少分？

(2) 天天比兰兰少投了多少分？

答案

一、1. 9 10

2. 90 79

3. $\xrightarrow{40\ 41\ 42\ (43)\ (44)\ 45\ (46)\ (47)\ (48)\ (49)\ 50}$

50 40

4. 10 16 [点拨] 求12后面的那个数列式是 $12 + 4 = 16$ 。

5. 2

二、26 73 64 90 3 87 37 6 40 90

三、1. $46 - 6 = 40$ (只)

2.

20 人	24 人	30 人	75 人
△			○

3. $20 + 9 = 29$ (个) $29 < 30$ 口答：够。

4. $40 + 6 = 46$ (个)

5. (1) $60 + 4 = 64$ (分) 口答：兰兰投了64分。

[点拨] 兰兰得10分球的筐里有6个球，就是60分，得1分球的筐里有4个球，就是4分。

(2) $64 - 60 = 4$ (分) 口答：天天比兰兰少投了4分。