

北师大版 2023-2024 学年一年级下册数学期末综合测试卷

学校:_____ 姓名:_____ 班级:_____ 考号:_____

一、选择题

- 盘子里原有 12 条鱼，小猫吃了一些，现剩下 8 条，小猫吃了（ ）条鱼。
A . 20 B . 8 C . 4
- 长方形和正方形都有几条边？（ ）
A . 1 B . 3 C . 4
- 小丁看一本 70 页的故事书，第一天看 25 页，第二天看 35 页，小丁两天一共看了多少页？正确的算式是（ ）。
A . $70 - 25 - 35$ B . $70 - (25 + 35)$ C . $25 + 35$
- 动物园养了 35 只小白兔，小黑兔比小白兔多得多，小黑兔可能有（ ）只。
A . 30 B . 37 C . 68
- 在 $12 - \square > 6$ 中， \square 里最大能填（ ）。
A . 4 B . 5 C . 7

二、填空题

6. 填一填。


6						100	90			
7	68	()	()	()				()	()	60

7. 在括号里填上“>”“<”或“=”。

$78 - 64$ () 14 41 () $18 + 22$ $46 + 27$ () 82

8. 写出所有十位上是 8 的两位数()。

9. 找规律填数。



10. 按规律填数。



11. 在括号里填上“>”“<”或“=”。

$12 - 6$ () 7 $12 - 3$ () 9 $12 - 7$ () 5

$11 - 4$ () 5 $11 - 3$ () 9 $11 - 6$ () 6

12. 小兔白白和小兔乐乐吃两份同样多的胡萝卜。白白剩下 38 根，乐乐可能剩下多少根？画“√”。

32 根	54 根	12 根



乐乐

我吃掉的胡萝卜比白白吃掉的多得多。

13. 编成减法应用题：小花和小丽同时开始拍球，同时结束拍球，小花拍了 11 下，结束拍球后，小花和小丽相差 2 下，()？

14. 14 名同学做游戏，其中男生有 6 人，女生有()人。男生和女生相差()人。


15. 在括号里填“>”“<”或“=”。

28 () 27 81 () 91 91 () 89

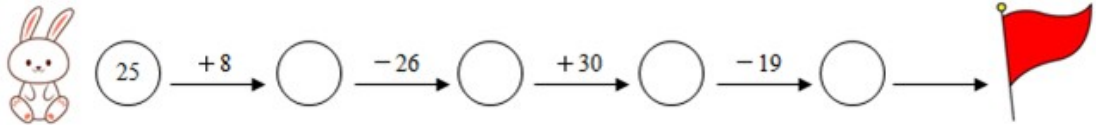
35 () 45 100 () 99 38 () 35

$12 - 4$ () $15 - 3$ $5 + 9$ () $19 - 6$ $7 + 4$ () $18 - 7$

16. 最大的两位数是()，它比 100 少()。

17.  左图中有()个三角形。

18.

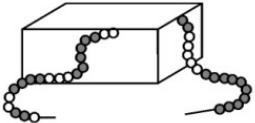


三、判断题

19. 淘气比妙想多做 11 道口算题，妙想说：“我再做 11 道口算题就和淘气一样多。”()

20. 比 10 多 3 的数是 15。()

21. 65 表示 6 个一和 5 个十。()

22. 图中的盒子里有 8 颗珠子 。()

23. 在算式 $74 - 25 = 49$ 中，25 是被减数。()

四、计算题

24. 口算下面各题。

$43 - 20 =$ $8 + 5 =$ $76 - 6 =$ $17 - 8 =$

$14 - 7 =$ $30 + 50 =$ $9 + 60 =$ $54 - 40 =$


25. 用竖式计算。

$98 - 89 =$ $100 - 23 =$


$34 + 66 =$ $58 + 37 =$

五、解答题

26. 你能迅速说出小狗大概画了多少个圆点吗？



27. 小丽有一些邮票，寄信用了 7 张。小丽一共有多少张邮票？



先画图分析：

再列式计算： $\square \bigcirc \square = \square$ ()

28. 女生比男生少多少人？



$\square \bigcirc \square = \square$ (人)

29. 每只小鸟宝宝吃 1 条虫子，还差几条虫子？



$$\square \bigcirc \square = \square \text{ (条)}$$

30. 李老师到书店买一本售价 35 元的书，给营业员 50 元，应找回多少元？

$$\square \bigcirc \square = \square \text{ ()}$$

31. 比三千八百少一百的数是多少？

32. 一个洋娃娃 37 元，小雪有 50 元买一个布娃娃，还剩多少元？

33. 有 15 个小朋友玩“老鹰捉小鸡”的游戏，笑笑当“老鹰”，已经捉住了 6 个小朋友，还有几个小朋友没有被捉住？

$$\square \bigcirc \square \bigcirc \square = \square \quad ()$$

答：还有_____个小朋友没有被捉住。

34. 小红和小丽一共做了 15 朵花，其中小红做了 7 朵，小丽做了多少朵？

$$\square \bigcirc \square = \square \quad ()$$

口答：小丽做了 \square 朵。

35. 聪聪有 11 本故事书，小红有 7 本故事书，聪聪的故事书比小红多多少本？

$$\square \bigcirc \square = \square \quad (\text{本})$$

答：聪聪的故事书比小红多_____本。

参考答案：

1 . C

【分析】用“原来鱼的数量 - 剩下的数量 = 小猫吃了的数量”来列式计算。

【详解】 $12 - 8 = 4$ (条)

故答案为：C

【点睛】此题主要考查的是十几减 8 的退位减法的应用。

2 . C

【分析】根据长方形和正方形的共有的特征：有四条边，四个角，都是直直的角；其中长方形的对边相等，正方形四条边相等，据此解答即可。

【详解】根据分析可知，长方形和正方形都有 4 条边。

故答案为：C

3 . C

【分析】第一天看的页数加上第二天看的页数可以算出小丁两天一共看了 $(25 + 35)$ 页。

【详解】小丁看一本 70 页的故事书，第一天看 25 页，第二天看 35 页，小丁两天一共看了多少页？正确的算式是 $25 + 35$ 。

故答案为：C

【点睛】正确分析数量关系，避免干扰项的影响。

4 . C

【解析】略

5 . B

【详解】 $12 - 6 = 6$ ，现在要使差变大，同时保持被减数不变，就要使减数减小，即□里应填比 6 小的数，则最大能填 5。

故答案为：B

6 . 69 70 71 80 70

【详解】略

7 . = > <

【解析】略

8 . 80、81、82、83、84、85、86、87、88、89

【解析】略

9 . 26 ; 29 ; 32 ; 35

【详解】略

10. 7; 7

【分析】通过观察前两个三角形中的数可知：在同一个三角形中，最上面小三角形中的数 + 左下方小三角形中的数 = 中间小三角形中的数 + 右下方小三角形中的数，据此解答。

【详解】依题意：

$$6 + 8 - 7$$

$$= 14 - 7$$

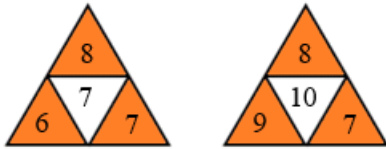
$$= 7$$

$$9 + 8 - 10$$

$$= 17 - 10$$

$$= 7$$

答案如下：



【点睛】本题主要考查数表中的规律和 20 以内加减混合运算，熟练掌握即可。

11. < = = > < <

【详解】略

12. 见详解

【分析】

吃的越多剩下的越少，乐乐比白白吃掉的萝卜多得多，则乐乐剩下的萝卜比白白少得多，据此得出结论即可。

【详解】根据分析知：

32 根	54 根	12 根
		√

13. 小丽拍了多少下

【详解】略

14. 8 2

【详解】略

15. > < > < > > < > =

【详解】略

16. 99 1

【分析】当一个两位数的每一数位上均是9时，这个两位数最大，求它比100少多少，就用100减这个数即可，据此解答。

【详解】根据分析，最大的两位数是99， $100 - 99 = 1$ ，所以它比100少1。

【点睛】本题考查特定位数的数中最大或最小的认识。

17. 10

【详解】略

18. 33 ; 7 ; 37 ; 18

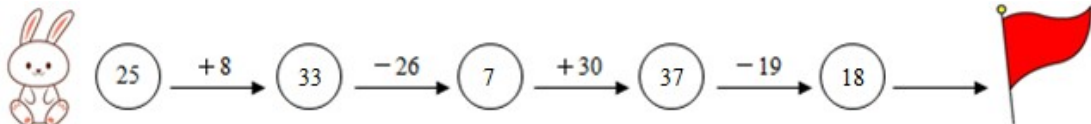
【分析】加法竖式计算时，相同数位对齐，若和超过10，则向前进1；减法竖式计算时，相同数位对齐，若不够减，则向前一位借1当10。

【详解】 $25 + 8 = 33$

$33 - 26 = 7$

$7 + 30 = 37$

$37 - 19 = 18$



【点睛】熟练掌握100以内进位加法和退位减法的计算是解题关键。

19. \checkmark

【解析】解：淘气比妙想多做11道口算题，也就是说妙想比淘气少做11道口算题，那么妙想再做11道口算题就和淘气一样多了。

故答案为： \checkmark 。

【分析】淘气比妙想多做的道数就是妙想比淘气少做的道数。

20. \times

【详解】 $10 + 3 = 13$ 。

故答案为： \times

【点睛】本题考查学生对加法的理解。

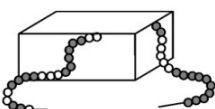
21. ×

【详解】略

22. √

【分析】珠子的颜色变化规律：1白色2灰色，接着2白色4灰色，接着3白色6灰色，然后4白色8灰色，……以此类推。

【详解】由题意得：盒子里有2颗白色珠子和6颗灰色珠子，共8颗；

故，图中的盒子里有8颗珠子 ，这种说法是对的。

故答案为：√

【点睛】本题考查周期性问题，考查数形结合的思想，确定灰色的珠子、白色的珠子的规律是关键。

23. ×

【分析】根据“被减数 - 减数 = 差”解答即可。

【详解】在算式 $74 - 25 = 49$ 中，74 是被减数，25 是减数，49 是差，所以原说法错误。

故答案为：×

【点睛】本题考查减法各部分的意义。

24. 23；13；70；9

7；80；69；14

【解析】略

25. 9；77

100；95

【分析】整数加减法列竖式计算，相同数位要对齐，从个位算起，注意进退位的情况。

【详解】 $98 - 89 = 9$ $100 - 23 = 77$

$$\begin{array}{r} \overset{\cdot}{9} 8 \\ - 8 9 \\ \hline 9 \end{array} \qquad \begin{array}{r} \overset{\cdot}{1} \overset{\cdot}{0} 0 \\ - 2 3 \\ \hline 7 7 \end{array}$$

$34 + 66 = 100$

$58 + 37 = 95$


$$\begin{array}{r} 34 \\ + 166 \\ \hline 100 \end{array}$$

$$\begin{array}{r} 58 \\ + 37 \\ \hline 95 \end{array}$$

26. 30个

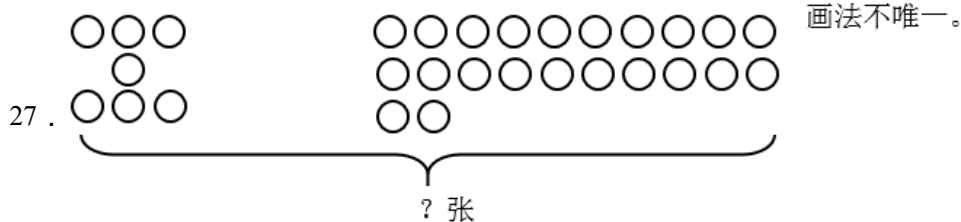
【分析】根据生活经验估计，这些小圆点大概有30个。

【详解】由题意分析得：



答：小狗大概画了30个圆点。

【点睛】此题主要考查的是100以内数的估计，要熟练掌握。



$$22 + 7 = 29 \quad (\text{张})$$

【解析】略

28. $15 - 9 = 6$

【解析】略

29. $14 - 8 = 6$ (条)

【详解】略

30. $50 - 35 = 15$ (元)

【详解】略

31. 3700

【详解】三千八百去掉一百是三千七百，所以答案为3700 考察理解能力及加法基本运算。

32. 37元

【详解】 $50 - 37 = 13$ 元 答：还剩37元。

33. $15 - 1 - 6 = 8$ (个) ; 8

【解析】略

34 . $15 - 7 = 8$ (朵) ; 8

【分析】用“两人一共做的数量 - 小红做的数量 = 小丽做的数量”来列式计算。

【详解】 $15 - 7 = 8$ (朵)

答：小丽做了 8 朵。

【点睛】此题主要考查的是十几减 7 的退位减法。

35 . $11 - 7 = 4$; 4

【解析】略