
周测培优卷 9

一、我会填。(6 题 6 分, 其余每空 2 分, 共 26 分)

1. 在 6060 中, 右起第二位上的“6”表示(), 第四位上的

“6”表示()。

2. 用 4、0、8 可以组成()个不同的三位数, 最大的是(),

最小的是()。

3. 北岳恒山主峰海拔二千零一十六米, 横线上的数写作(),

约是()。

4. 68 个百是(), 5400 里面有()个一。

5. 7 个千、5 个十和 8 个一组成的数是()。

6. 按规律填数。

(1) 3000、4000、5000、()、()、8000。

(2) 2080、2090、()、2110、()。

(3) 450、()、550、()、650。

二、我会选。(把正确答案的序号填在括号里)(每题 3 分, 共 15 分)

1. 9000 里面有()个 100。

- ① 9 ② 90 ③ 900

2. 最高位是百位的数是()。

- ① 三位数 ② 四位数 ③ 五位数

3. 算盘上一个上珠表示()。

- ① 1 ② 10 ③ 5

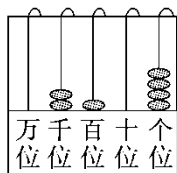
4. 写数和读数时,都要从()位起。

- ① 万 ② 个 ③ 高

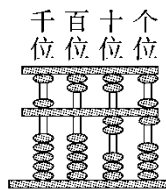
5. 下列数中,与5000最接近的数是()。

- ① 4998 ② 4001 ③ 4999

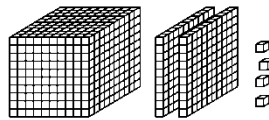
三、我会读与写。(每空1分,共8分)



写作: _____
读作: _____



写作: _____
读作: _____



写作: _____
读作: _____



100张
写作: _____
读作: _____

四、我会算。(每题2分,共16分)

$1700 - 700 =$ $4200 - 2000 =$ $1800 - 900 =$ $560 - 50 =$

$170 - 80 =$ $400 + 800 =$ $1600 + 2000 =$ $1700 + 300 =$

五、我会比。(每空1分,共5分)

4607 4706 7640 674 4670

() > () > () > () > ()

六、走进生活，解决问题。(每题 10 分，共 30 分)

1.

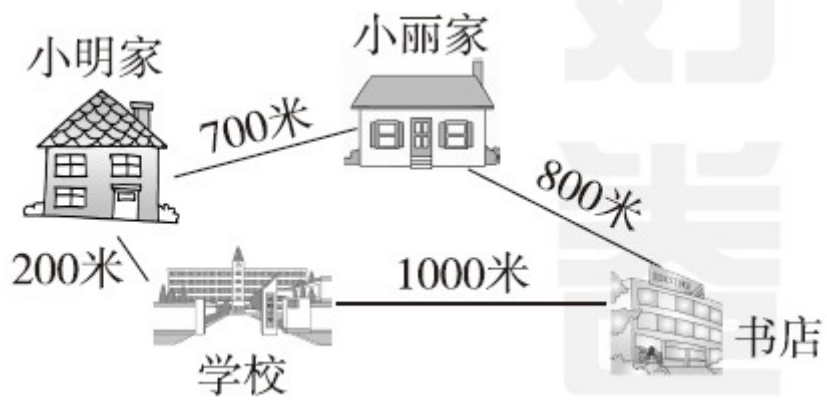


请将《连环画》和《天天健康》填在下表中。

《简笔画》				
208 页	210 页	120 页	190 页	685 页

2. 在“六一”儿童节表彰大会上，实验小学准备 1300 支铅笔奖给一、二年级的同学们。二年级需要六百多支，一年级需要五百多支，够吗？

3. 如图，你能提出两个数学问题并解答吗？



答案

一、1.6个十 6个千 2.4 840 408 3.2016 2000

4.6800 5400 5.7058

6.(1)6000 7000 (2)2100 2120 (3)500 600

二、1. ② 2. ① 3. ③

4. ③ 5. ③

三、2104 二千一百零四

5026 五千零二十六

1204 一千二百零四

10000 一万

四、1000 2200 900 510 90 1200 3600 2000

五、7640 4706 4670 4607 674

六、1.

《简笔画》			《连环画》	《天天健康》
208页	210页	120页	190页	685页

2. 六百多支与五百多支合起来最多是一千二百多支。

$1300 > 1200$

口答：够。

3. (1) 小明从家出发经过小丽家到书店要走多少米？

$700 + 800 = 1500$ (米)

口答：小明从家出发经过小丽家到书店要走 1500 米。

(2) 小丽放学回家走哪条路近？要走多少米？

$$200 + 700 = 900(\text{米})$$

$$1000 + 800 = 1800(\text{米})$$

$$900 \text{ 米} < 1800 \text{ 米}$$

口答：小丽放学回家经过小明家这条路近，要走 900 米。

[点拨] 此题答案不唯一。