

无锡市名校期末测试卷

一、填一填。(每空1分,共23分)

1. ()个十和()个一组成78,8个十和()个十合起来是一百。

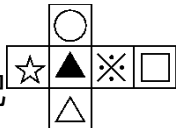

2. 66是()位数,左边的6表示()个()。

3. 25连续加8,写出每次的和。

25 33 () () ()

4. 8元=()角 99角=()元()角

6角=()分 7元8角+2角=()元

5. 把  折成一个正方体,  的对面是()。

6. 把9角、50元、9元、1元、50角按从大到小的顺序排列是:

() > () > () > () > ()

7. 在5、47、100和59中,和50最接近的是(), ()比50小得多,()比50大得多。


二、辨一辨。(对的画“√”,错的画“×”)(每题1分,共5分)

1. 最大的两位数比最小的三位数少1。 ()

2. 26比62少得多,54比50多一些。 ()

3. 减数一定比被减数小。 ()

4. 一个一个地数,从43数到50,一共数了7个数。 ()

5. 一张  可以换4张 。 ()

三、选一选。(把正确答案的序号填在括号里)(每题 2 分，共 10 分)

1. 下面的物品中，()最贵。



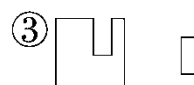
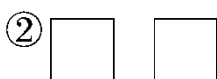
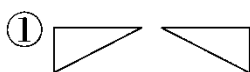
2. 46 50 54 58 66 70, 里应填()。

① 60

② 62

③ 64

3. 下面的图形能拼成正方形的是()。



4. 用 3 个在

十位	个位

 中能摆()个不同的数。

① 3

② 4

③ 5

5. 下面各数中，与 90 最接近的是()。

① 86

② 89

③ 92

四、计算挑战，看谁算得又对又快。(每题 1 分，共 12 分)

$40 + 30 =$

$26 + 50 =$

$58 - 8 + 45 =$

$85 - 50 =$

$98 - 6 =$

$34 + (19 - 9) =$

$41 - 7 =$

$5 + 60 =$

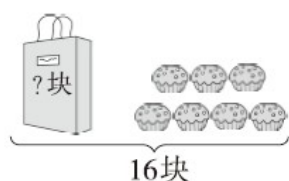
$80 - (46 - 6) =$

$53 - 9 =$

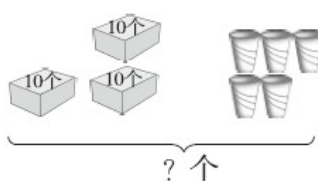
$92 + 8 =$

$57 + 8 - 6 =$

五、看图列式计算。(每题 3 分，共 6 分)







$\square \bigcirc \square = \square$ ()



$\square \bigcirc \square = \square$ ()

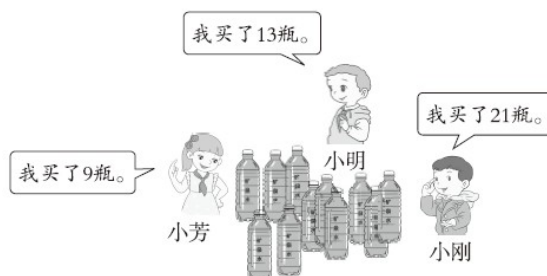
六、我会分析表格。(每空2分，共8分)

				
原有	42 辆	() 艘	65 架	() 只
卖出	20 辆	45 艘	() 架	25 只
剩下	() 辆	8 艘	10 架	20 只

七、走进生活，解决问题。(5题12分，其余每题6分，共36分)

1. 兰兰和她的两个好朋友一起去植物园，门票6元一张。她们买门票要花多少钱？

2.



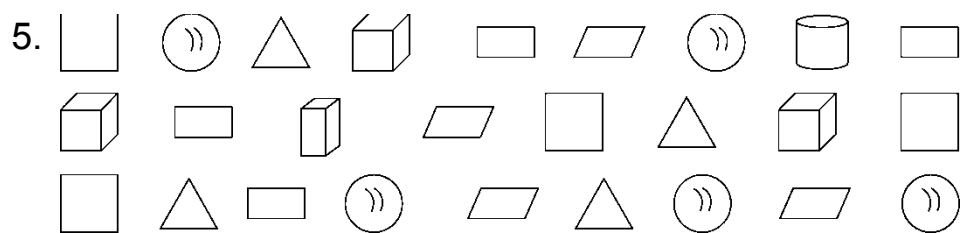
(1) 小明和小刚一共买了多少瓶？

(2) 小芳比小明少买了多少瓶？

(3) 再提一个数学问题并解答。

3. 学校体育室有 26 个足球和 18 个篮球，分给二年级 9 个足球。体育室还有多少个足球？

4. 两个房间一共铺了 45 块红色瓷砖，小房间铺了 20 块。大房间铺了几块？



(1) 按形状分一分，涂一涂，再填一填每种图形各有几个。

□	△	▭	▱	⊞	⊞	⊞	⊞	□ () 个
□	△	▭	▱	⊞	⊞	⊞	⊞	△ () 个
□	△	▭	▱	⊞	⊞	⊞	⊞	▭ () 个
□	△	▭	▱	⊞	⊞	⊞	⊞	▱ () 个
□	△	▭	▱	⊞	⊞	⊞	⊞	⊞ () 个
□	△	▭	▱	⊞	⊞	⊞	⊞	⊞ () 个
□	△	▭	▱	⊞	⊞	⊞	⊞	⊞ () 个
□	△	▭	▱	⊞	⊞	⊞	⊞	⊞ () 个

(2) 如果把这些图形分成两组，可以怎样分？把分组的结果表示出来。

个数		

(3) 请你提出一个数学问题并解答。

答案

一、1. 7 8 2

2. 两 6 十

3. 41 49 57

4. 80 9 9 60 8

5. ○

6. 50元 9元 50角 1元 9角

7. 47 5 100

二、1.√ 2.√ 3.× 4.× 5.√

三、1.② 2.② 3.③ 4.② 5.②

四、70 76 95 35 92 44 34 65 40 44 100 59

五、 $16 - 7 = 9$ (块) $30 + 5 = 35$ (个)

六、22 53 55 45

七、1. $6 + 6 + 6 = 18$ (元)

口答：她们买门票要花18元钱。

[点拨]“兰兰和她的两个好朋友”一共是三人。

2. (1) $21 + 13 = 34$ (瓶)

口答：小明和小刚一共买了34瓶。

(2) $13 - 9 = 4$ (瓶)

口答：小芳比小明少买了4瓶。

(3) 三人一共买了多少瓶？

$$9 + 13 + 21 = 43(\text{瓶})$$

口答：三人一共买了 43 瓶。

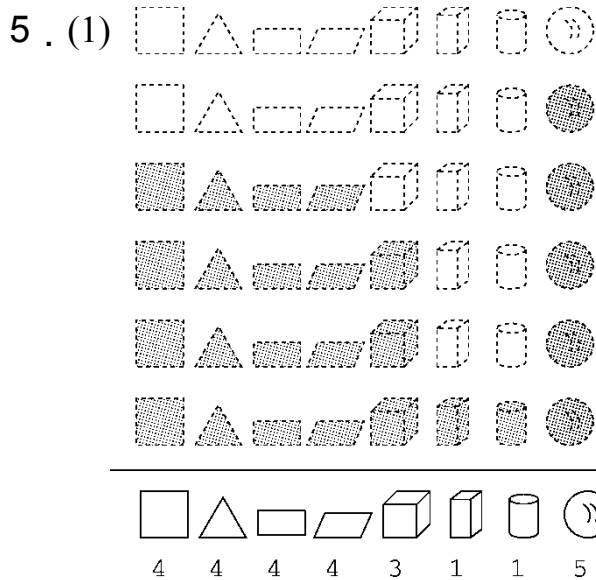
[点拨] 答案不唯一。

$$3. 26 - 9 = 17(\text{个})$$

口答：体育室还有 17 个足球。

$$4. 45 - 20 = 25(\text{块})$$

口答：大房间铺了 25 块。



(2)

	平面图形	立体图形
个数	16	10

(3) 正方形和长方形一共有多少个？

$$4 + 4 = 8(\text{个})$$

口答：正方形和长方形一共有 8 个。(答案不唯一)

[点拨] 数图形时千万别数错。