









## 第1单元过关检测卷

一、填一填。(每空2分,共26分)

1.下面是星星小学二(1)班同学喜欢的乐器情况统计表。(每人只选一种乐器)

乐器 种类				
人数	正正正正	××××× ×××××	○○○○○ ○○○○	☆☆☆☆☆ ☆☆☆

(1)将二(1)班同学喜欢的乐器人数填入下表。

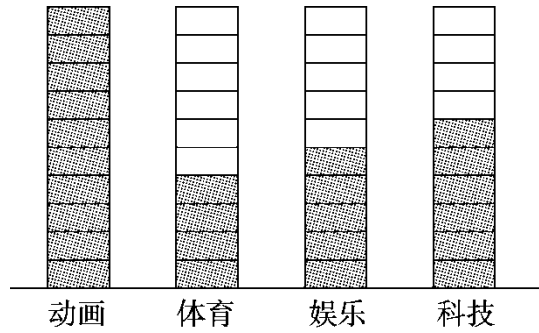
乐器 种类				
人数				

(2)二(1)班同学喜欢葫芦丝的人数比喜欢钢琴的少( )人。


(3)二(1)班喜欢小提琴的人数比喜欢二胡的多( )人。

(4)二(1)班一共有( )人,如果班主任想选一种乐器作为本班的特色,选( )最合适。

2. 下面是二(2)班同学喜欢看的电视节目情况。






(1)喜欢看( )类电视节目的人数最多。

(2)如果每个  代表 2 人，根据上图把下表填完整。

节目	动画	体育	娱乐	科技
人数				

二、选择。(每题 2 分，共 8 分)

下面是 2016 年 6 月份南京的天气情况。

	正正
	正正正一
	正

1. 这个月共有( )天。

A . 28

B . 30

C . 31

2 . 雨天比阴天多( )天。

A . 6

B . 4

C . 12

3 . ( ) 的天数最多。

A . 阴天

B . 雨天

C . 晴天


4 . 根据天气情况，这个月最不适合做的事情是( )。

A . 晾晒

B . 植树

C . 上学

三、整理积木。(每题 5 分，共 20 分)



1 . 用画“正”字的方法统计每种积木的数量。

--	--	--	--	--

2.把统计的结果填入下表。

--	--	--	--	--

3.这些积木中( )的个数最多，( )的个数最少。

4 . 你还能提出什么问题？

四、下面是体检时中港小学三、四、五三个年级(1)班同学的视力检

测情况。(4 题 3 分，其余每题 4 分，共 15 分)

	5.0 及以上	4.9~4.7	4.6~4.3	4.2 及以下
三(1)班	29	11	5	2
四(1)班	27	12	6	3
五(1)班	18	20	5	5

1.三(1)班视力在 5.0 及以上的有( )人，五(1)班视力在 5.0 及以上的有( )人。

2. 四(1)班视力在 4.2 及以下的有( )人，五(1)班视力在 4.2 及以下的有( )人。

3. 三(1)班视力低于 5.0 的有( )人，五(1)班视力低于 5.0 的有( )人。

4. 若视力在 5.0 及以上是正常的，你对中港小学的学生有什么建议？

五、下面是同学们在十字路口 5 分钟内记录的通过的汽车的种类和

辆数。(1 题 4 分，2、5 题每题 3 分，其余每题 2 分，共 14 分)

种类	小轿车	出租车	公交车	货车
辆数	正正正	正	丁	下

1.把上面的统计结果填入下表。

种类	小轿车	出租车	公交车	货车
辆数				

2.通过的( )最多,( )最少,它们相差( )辆。

3.出租车比货车多( )辆。

4.如果再通过1辆车,最有可能是( )。


5.你还能提一个数学问题并解答吗?

六、回收废旧电池。(1题3分,4题6分,其余每题4分,共17分)

李明: 我比张欢少收集了8节。

张欢: 我收集了18节。

刘丽: 我比李明多收集了4节。



1.完成下表。


姓名	李明	张欢	刘丽
节数			

2.三个人一共收集了多少节废旧电池?

---





3. 请你再提一个数学问题并解答。

4. 根据上面的统计结果完成统计图。(每个□代表2节)



## 答案

一、1. (1)

乐器 种类				
人数	20	10	9	7

(2)1 (3)13 (4)46 小提琴






2. (1)动画

(2)






节目	动画	体育	娱乐	科技
人数	20	8	10	12

二、1.B 2.C 3.B 4.A

三、1.

				
正	正下	正	正一	正

2.

				
5	8	2	6	4

4. 略

四、1.29 18 2.3 5 3.18 30

4. 同学们要注意保护好自己的视力。(答案不唯一)

五、1.

种类	小轿车	出租车	公交车	货车
辆数	15	5	2	3

2. 小轿车 公交车 13

3. 2

4. 小轿车

5. 略

六、1.

姓名	李明	张欢	刘丽
节数	10	18	14

2.  $10 + 18 + 14 = 42$ (节)

3. (答案不唯一) 张欢比刘丽多收集几节废旧电池?  $18 - 14 = 4$ (节)

