

周测培优卷 7

一、我会填。(7 题 6 分，其余每题 4 分，共 30 分)

1. 在没有括号的算式里，只有加、减法或只有乘、除法，都要从()往()按顺序计算。

2. 在没有括号的算式里，如果既有乘、除法又有加、减法，要先算()法，后算()法。

3. 30 与 15 的和是()，再除以 9，商是()。

4. 两个乘数都是 7，积是()，再减去()，差是 11。

5. 平平在计算“ $8 + \square \div 8$ ”时，弄错了运算顺序，先算加法后算除法了，结果得数是 7。正确的得数应该是()。

6. 一本故事书有 40 页，看了 8 页后，剩下的 4 天看完，平均每天看几页？要先求()，再求()，列综合算式是()。

7. 把下面每组算式合并成一个综合算式。

(1) $72 \div 8 = 9$

(2) $57 - 15 = 42$

(3) $5 \times 7 = 35$

 $21 - 9 = 12$

$42 \div 7 = 6$

$84 - 35 = 49$

二、计算挑战。(每题4分,共16分)

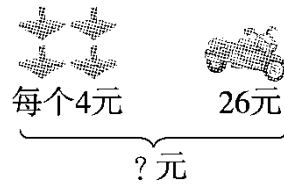
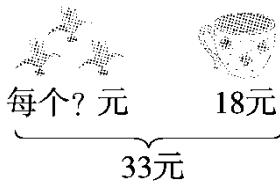
$9 \times (72 \div 8)$

$4 + 5 \times 7$

$68 - 56 \div 8$

$63 \div (9 - 2)$

三、看图列式计算。(每题5分,共10分)



四、走进生活,解决问题。(每题11分,共44分)

1. 阅览室里原来有故事书59本,科技书36本。现在又购进30本

故事书,再购进多少本科技书就和故事书一样多?



2. 我们一共摘了50颗枣。
- 我吃了22颗。
- 我吃了18颗。
-
- An illustration of three children. On the left, a girl says, "我们一共摘了50颗枣。" (We picked a total of 50 dates together.) In the middle, a boy says, "我吃了22颗。" (I ate 22 dates.) On the right, another girl says, "我吃了18颗。" (I ate 18 dates.) They are gathered around a basket filled with dates.

还剩多少颗枣？

3. (1) 豆豆、果果和丫丫三人玩过山车要比玩碰碰车多花多少钱？


票价	
碰碰车	每人3元
旋转木马	每人6元
过山车	每人8元

A black and white illustration of a young boy pointing his right hand towards a price table. The table lists the prices for three different rides: bumper cars (3 yuan per person), carousel (6 yuan per person), and roller coaster (8 yuan per person).

- (2) 请你提一个用两步解决的问题并解答。

4 .

单买：每块8元
优惠：买9块及以上每块便宜2元



王奶奶准备买7块蛋糕，她怎样买划算？

答案

一、1.左 右 2.乘除 加减 3.45 5 4.49 38

5.14 [点拨] 先求出□里的数□列式是 $7 \times 8 - 8 = 48$ □再求出正确的得数□列式是 $8 + 48 \div 8 = 14$ 。

6. 还剩下多少页没有看 平均每天看几页 $(40 - 8) \div 4 = 8$ (页)

7. (1) $21 - 72 \div 8 = 12$ (2) $(57 - 15) \div 7 = 6$ (3) $84 - 5 \times 7 = 49$

二、

三、 $(33 - 18) \div 3 = 5$ (元) $4 \times 4 + 26 = 42$ (元)

四、 $1.59 + 30 - 36 = 53$ (本)

口答：再购进 53 本科技书就和故事书一样多。

2. $50 - 22 - 18 = 10$ (颗) 口答：还剩 10 颗枣。

3. (1) $3 \times (8 - 3) = 15$ (元)

口答：豆豆、果果和丫丫三人玩过山车要比玩碰碰车多花 15 元钱。

(2) 6 个小朋友玩一次碰碰车花的钱可以让几个小朋友玩一次旋转木马？

$6 \times 3 = 18$ (元) $18 \div 6 = 3$ (个)

口答：6 个小朋友玩一次碰碰车花的钱可以让 3 个小朋友玩一次旋转木马。

[点拨] 第(2)问答案不唯一。

4 . $7 \times 8 = 56(\text{元})$ $9 \times (8 - 2) = 54(\text{元})$ $54 < 56$

口答：她买9块蛋糕划算。

[点拨] 买9块蛋糕一共花54元，比56元少，而且还可以多买2块蛋糕。