

人教新课标版一年级下册数学第七单元测试卷

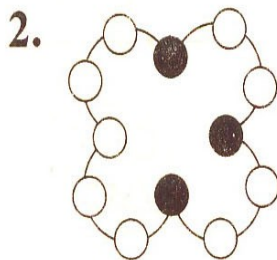

一、找规律填空。

1. (), (), 68, (), ()


2. 5, 7, 9, (), (), (), 17, 19



二、找规律涂一涂，画一画。



三、按图形的排列规律接着画。

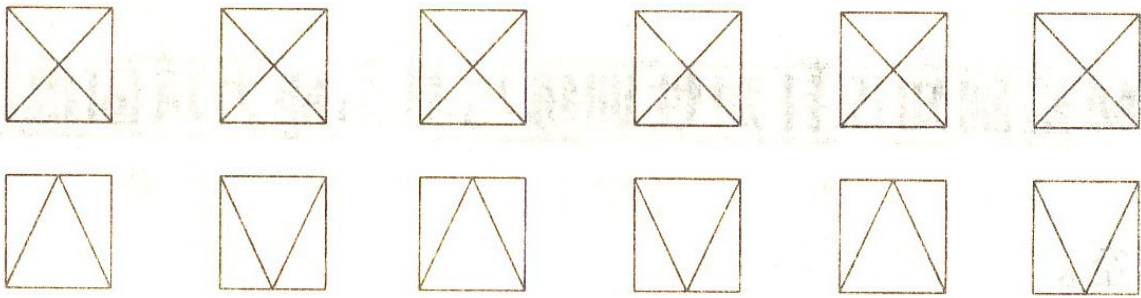


四、找规律填数

1. $15 \xrightarrow{+6} 21 \xrightarrow{+6} 27 \xrightarrow{+6} \square \xrightarrow{+6} \square \xrightarrow{+6} \square$

2. $92 \xrightarrow{-5} 87 \xrightarrow{-5} 82 \xrightarrow{-5} \square \xrightarrow{-5} \square \xrightarrow{-5} \square$

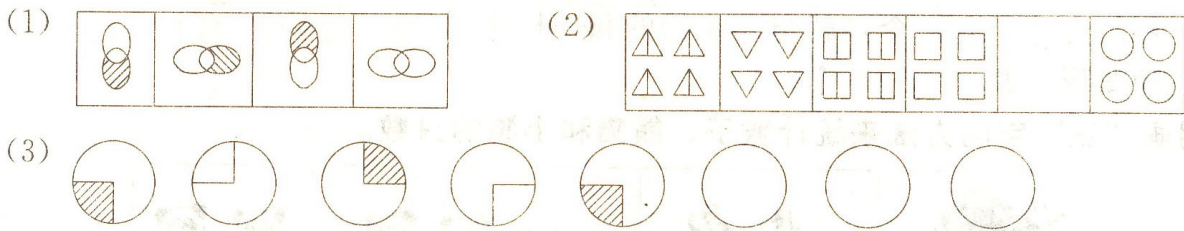
五、自己涂出有规律的颜色。




六、哪一行的规律与其他三得不一样，画“X”。

- (1) 3, 4, 5, 6 () (2) 2, 5, 7, 9 ()
 7, 8, 9, 10 () 1, 3, 5, 7 ()
 1, 3, 2, 3 () 2, 4, 6, 8 ()
 1, 2, 3, 4 () 5, 7, 9, 11 ()

2. (挑战题)按规律接着画。




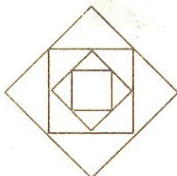
3. (拓展题)在六组横格中涂画出不同规律的图案。



一、1. 提示：要按从大到小 (或从小到大) 填，也可按双数填，只要有规律即可。

2. 11, 13, 15 3. 

二、1. 隔一个○涂色 2. 隔两个○涂色
3. 按直线的方向变化规律画阴影。

三、1.  2. 

四、1. 33 39 45 2. 77 72 67



五、涂色后能很明显的看出涂色规律即可。

探究拓展能力强化训练与应用综合能力的养成

1. (1) 1 3 2 3 (X)
(2) 2 4 6 8 (X)

2. (1)  (2) 

(3) 

提示：“”按顺时针方向旋转 90°，每隔一个“”，涂上阴影。

3. 提示：颜色有规律或图案有规律都可以。

