

周测培优卷 1

一、我会填。(1 题 12 分, 2 题 24 分, 共 36 分)

1. 下面是二(1)班同学最喜欢看的动画片情况统计表。

动画片	《熊出没》	《米奇妙妙屋》	《猫和老鼠》	《魔豆传奇》
人数	28 人	8 人	11 人	9 人

(1) 最喜欢看()的人最多, 最喜欢看()的人最少。

(2) 最喜欢看《猫和老鼠》和《魔豆传奇》的一共有()人。

(3) 二(1)班一共有()人。

2. 下面是某地区一个月的天气情况。



(1) 这个月()的天数最多, 共有()天。

(2) 这个月多云有()天, 比晴天少()天。

(3) 这个月阴天有()天, 比多云多()天。

(4) 这个月共有()天。如果知道这个月的气温比较高,人们感到很炎热,你认为这个月属于()季。

二、走进生活,解决问题。(1题20分,2题18分,3题26分,共64分)

1. 阳光小学倡导每位同学争做环保小卫士。小青、小聪、小雨、小方分别将他们家一周内使用塑料袋的情况统计如下:

小青家: ×××××××

小雨家: √√√√√√√

小聪家: ○○○○

小方家: △△△△

(1) 把记录的结果填在下表中。





家庭	小青家	小雨家	小聪家	小方家
个数				

(2) 谁家这一周内使用塑料袋最多? 谁家这一周内使用塑料袋最少?

(3) 塑料垃圾被称为“白色污染”。你对小雨家有什么好的建议吗?

2. 二(1)班新学期选举正、副班长,从下面四名候选人中选出两名。

下面是同学们投票的情况(每人投1票)。

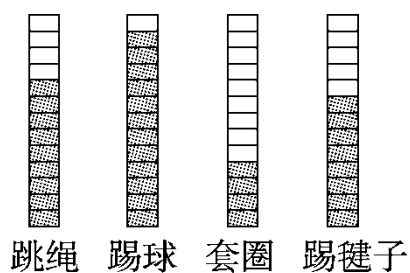
 小杰	 小丽	 小笑	 小伟
正正下	正一	正正正	正


(1) 小杰比小伟多得多少票?


(2) 二(1)班一共有多少人参加了投票?


(3) 根据投票结果,你认为谁当正班长?谁当副班长?

3. 下面是二(2)班同学体育课上参加体育活动的情况。



(1) 如果一个  表示 1 人，套圈的比踢毽子的少()人。

(2) 如果一个  表示 2 人，那么跳绳的有()人，踢球的有()人，套圈的有()人，踢毽子的有()人。

(3) 这个班有两名同学缺勤(一个  表示 1 人)，如果他俩都来上体育课，参加人数最多的活动会改变吗？

答案

一、1.(1)《熊出没》 《米奇妙妙屋》 (2)20 (3)56

2.(1)晴天 16 (2)2 14 (3)4 2 (4)31 夏

二、1.(1)7 8 3 4

(2)小雨家这一周内使用塑料袋最多，小聪家这一周内使用塑料袋最少。

(3)用布袋代替塑料袋□或者重复使用塑料袋。

[点拨]第(3)题答案不唯一。

2.(1) $13 - 4 = 9$ (票)

(2) $13 + 6 + 15 + 4 = 38$ (人)

(3)小笑当正班长□小杰当副班长。

3.(1)4

(2)18 24 8 16

(3)不会改变。