

第四单元检测

一、直接写出得数。

$27 \div 3 =$ $6 \times 8 =$ $24 \div 4 =$ $28 \div 7 =$ $4 \times 9 =$ $35 \div 5 =$
 $6 \times 3 =$ $14 \div 2 =$ $54 \div 6 =$ $16 \div 4 =$ $36 \div 6 =$ $64 \div 8 =$

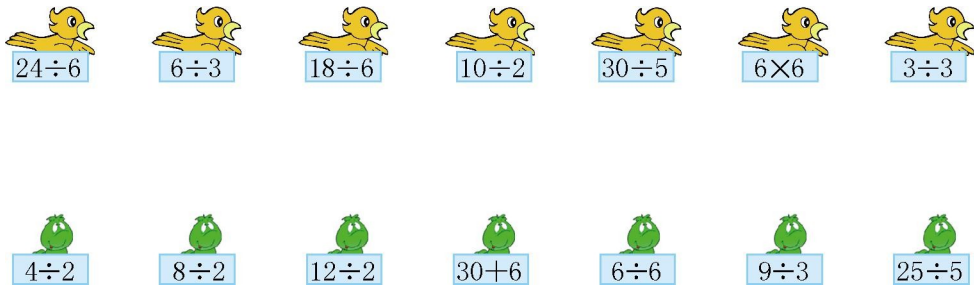
二、在○里填上“>”“<”或“=”。

$25 \div 5$ ○ 4 $36 \div 6$ ○ 2×3 $16 \div 4$ ○ 4
 $4 \div 4$ ○ 16 $6 \div 3$ ○ 2 $20 - 5$ ○ 4

三、在○里填上“+”“-”“×”或“÷”。

5 ○ $2 = 7$ 24 ○ $4 = 6$ 5 ○ $3 = 12$ ○ 3
 $6 = 24$ ○ 4 8 ○ $4 = 2$ 30 ○ $6 = 5$ ○ 1

四、小鸟该吃哪条虫子?连一连。



五、填一填。

四六() 五()三十五 ()九六十三
 $4 \times () = 24$ $5 \times () = 35$ () $\times 9 = 63$
 $24 \div () = 6$ $35 \div () = 5$ $63 \div () = 9$

六、把表格填写完整。

被除数	18	40		28	24	16
除数	9	5	4			
商			9	7	6	4

七、()里最大能填几?

$6 \times () < 35$ $7 \times () < 30$ $8 \times () < 50$
 $() \times 5 < 27$ $() \times 3 < 25$ $() \times 4 < 25$

八、解决问题。

1.



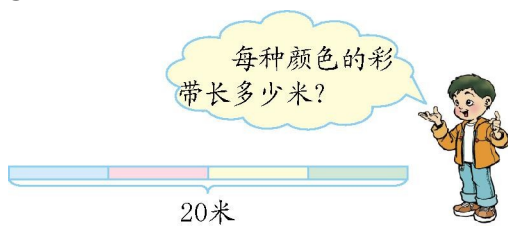
(1)坐大船需要几只?

(2)坐小船需要几只?

2.每瓶果汁多少钱?



3.



4.笼子里装着小鸡和小兔。



笼子里一共有20只兔爪。

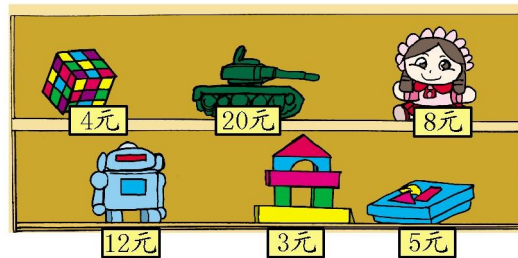


笼子里有16只鸡爪。

(1) 笼子里有几只小兔?

(2) 笼子里有几只小鸡?

5.



(1) 用64元可以买多少个布娃娃?

(2) 你还能提出哪些数学问题?

参考答案

一、 9 48 6 4 36 7 18 7 9 4 6 8

二、 > = = < = >

三、+ ÷ × + ÷ ÷ ÷ ×或÷

四、提示:上一行的得数分别是4、2、3、5、6、36、1,
下一行的得数分别是2、4、6、36、1、3、5,连线略。

五、(按竖排填)二十四 6 4 七 7 7

七 7 7

六、2 8 36 4 4 4

七、5 4 6 5 8 6

八、1.(1) $24 \div 4 = 6$ (只) (2) $24 \div 3 = 8$ (只)

2. $27 \div 9 = 3$ (元)

3. $20 \div 4 = 5$ (米)

4.(1) $20 \div 4 = 5$ (只) (2) $16 \div 2 = 8$ (只)

5.(1) $64 \div 8 = 8$ (个)

(2)答案不唯一,如:买一个玩具娃娃的钱数可以买几个魔方? $8 \div 4 = 2$ (个)