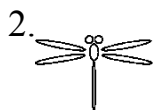


周测培优卷3


一、在轴对称图形下面的()里画“○”。(每题3分,共18分)




()



()



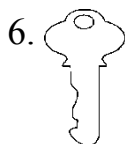
()



()



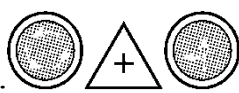
()



()



二、我会辨。(对的画“√”,错的画“×”)(每题2分,共10分)

1. 熟透的苹果从树上掉下来,是平移现象。 ()

2.  这些交通安全标志都是轴对称图形。 ()


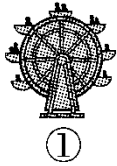
3. 平移后物体的形状和大小都不改变。 ()

4. 旋转之后图形的形状发生了变化。 ()

5.  可以由  经过平移得到。 ()

三、我会选。(把正确答案的序号填在括号里)(每题2分,共10分)

1. 下列运动中,不属于旋转的是()。




2. 下列现象属于平移的是()。

① 电梯的运动

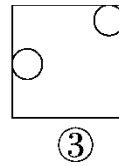
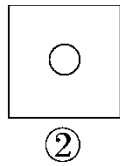
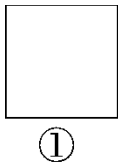
② 拧螺丝

③ 车轮运动

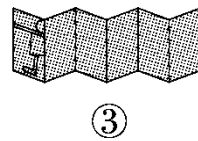
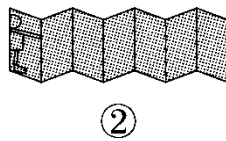
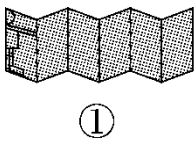
3. 下面三幅图中, 图()是通过左图平移得到的。



4. 下面图形沿一条线折叠后不能完全重合的是()。




5. 能剪成  图形的是()。

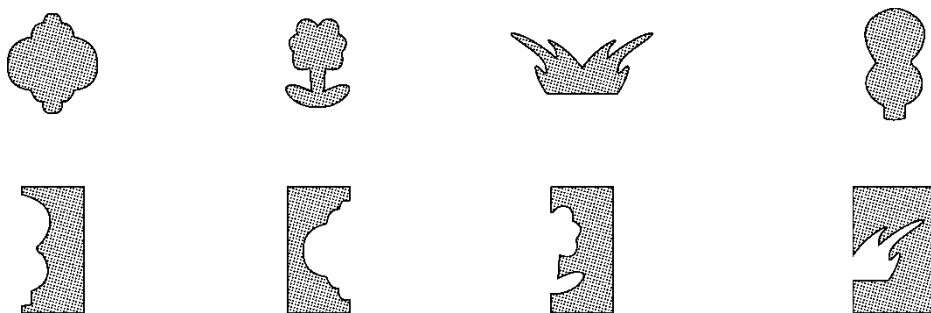


四、我会连。(每题 16 分, 共 32 分)

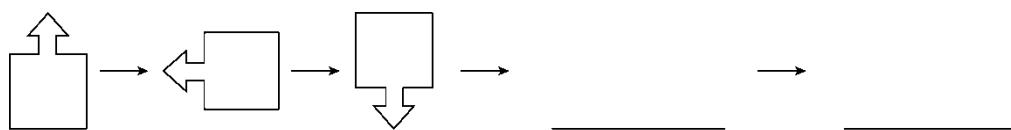
1. 下面哪些图形可以通过平移相互重合?



2. 下面的图形分别是 从哪张对折后的纸上剪下的？




五、我会画。(每空 6 分，共 12 分)



六、我会想。(每题 6 分，共 18 分)

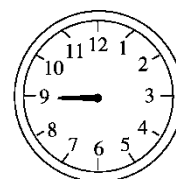
写出分针从 12 旋转到下面各个位置所经过的时间。



() 分



() 分



() 分

答案

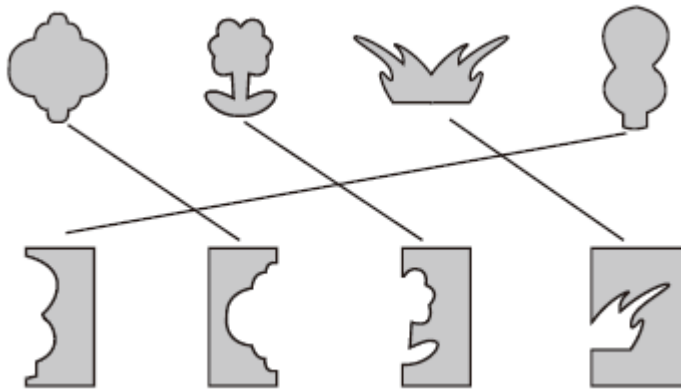
一、1.() 2.(○) 3.(○) 4.(○) 5.(○) 6.()

二、1.√ 2.× 3.√ 4.× 5.×

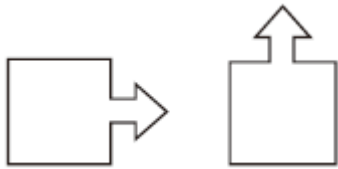
三、1.② 2.① 3.② 4.③ 5.③

四、1.熊 小兔(连一连略)

2.



五、



[点拨] 旋转的方向是上、左、下、右、上、左、下、右……。

六、30 10 45