

第四单元过关检测卷

一、快乐填一填。(每空1分,共25分)

1. ()个一是十, 100里有()个十。
2. 7个十和8个一合起来是(); 90里面有()个十。
3. 与70相邻的两个数分别是()和(); 39和43之间的数有()。
4. 68前面的第4个数是(); 75后面的第5个数是()。
5. 最小的两位数是(), 最大的两位数是()。
6. 按规律填数。


37, 38, 39, (), (), (), ()。

27, 37, 47, (), (), (), ()。

7. 根据百数表, 在空白的方框内填上合适的数。


26	

8.



()只  , ()只  , 一共()只小动物。

二、智慧辨一辨。(对的画“√”, 错的画“×”)(每题1分, 共5分)

-
1. 读数和写数都从个位开始。()
 2. 一个数比 90 大, 比 95 小, 这样的数有 4 个。()
 3. 百位是第三位。()
 4. 有最大的两位数, 没有最小的三位数。()
 5. 用 5 个  可以组成 4 个不同的两位数。()

三、细心算一算。(1 题 12 分, 其余每题 6 分, 共 24 分)

1. $9 + 60 =$ $95 - 90 =$


$37 - 7 =$ $30 + 7 =$


$10 + 8 =$ $89 - 80 =$



$6 + 30 =$ $28 - 20 =$



$99 - 9 =$ $2 + 70 =$


$50 + 5 =$ $66 - 60 =$



2. 在  里填上“>”“<”或“=”。



99  100 $30 + 7$  20



69  63 $75 - 5$  70

78  87 $40 + 8$  49

3. 在  里填上合适的数。

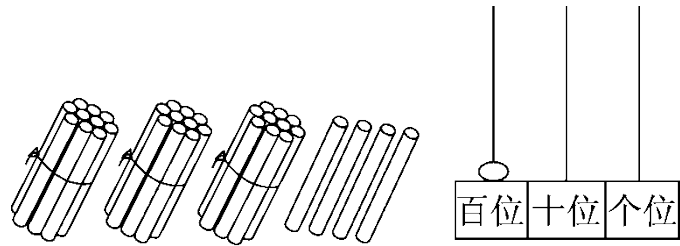
 $+ 8 = 78$ $63 -$  $= 60$

 $+ 9 = 39$ $70 +$  $= 72$

 $- 4 = 70$  $- 40 = 6$

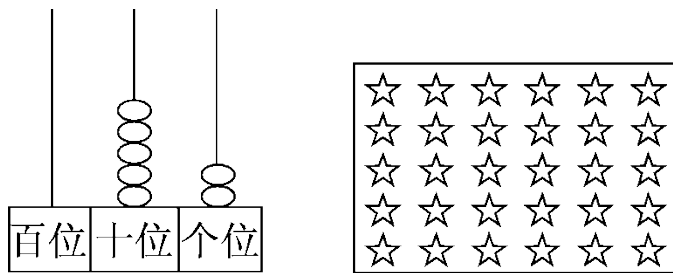
四、按要求做题。(1 题 16 分, 2 题 6 分, 共 22 分)

1. 读数和写数。



读作：() 读作：()

写作：() 写作：()



读作：() 读作：()

写作：() 写作：()

2. 按要求各写出 4 个两位数。

十位上是
8的数

十位上的数字
比个位上的数
字大3的数

个位上是
6的数

五、解决问题。(每题 4 分，共 24 分)

1. 六一儿童节，校门口悬挂了 79 个彩色气球，后来飞走了 9 个，

还剩多少个？

$$\square \bigcirc \square = \square \quad (\quad)$$

2.

有5个家长，
40个学生。



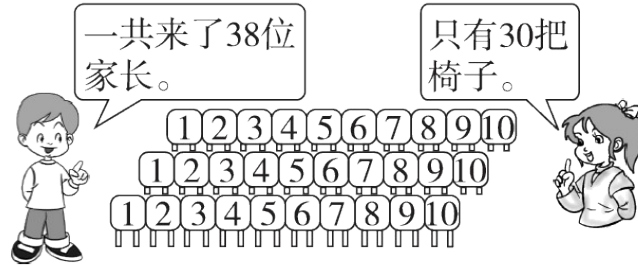
每人一张电影票，
50张够吗？



$$\square \bigcirc \square = \square \quad (\quad)$$

够() 不够()

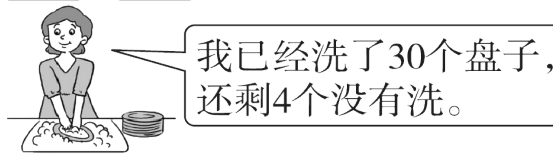
3.



还缺多少把椅子？

$$\square \bigcirc \square = \square \quad (\quad)$$

4.



妈妈一共要洗多少个盘子？

$$\square \bigcirc \square = \square \quad (\quad)$$

5. 故事书可能有多少本？在合适的答案下面画“√”。

<div style="display: flex; justify-content: space-around;"> <div style="text-align: center;"> <p>漫画书有36本。</p> </div> <div style="text-align: center;"> <p>故事书要比漫画书多得多。</p> </div> </div> <p style="text-align: right;">.</p>	<div style="display: flex; justify-content: space-around;"> <div style="text-align: center;"> <p>故事书有90本吗？</p> </div> <div style="text-align: center;"> <p>比90本少一些。</p> </div> </div> <p style="text-align: right;">..</p>	
99本	40本	87本

6. 37个贝壳，8个穿一条手链，能穿几条手链？



答案

一、1. 10 10

2. 78 9 3.69 71 40、41、42

4. 64 80

5. 10 99

6. (1)40 41 42 43 (2)57 67 77 87

7. 27 36 37 8.20 20 40

二、1. \times 2. $\sqrt{\quad}$ 3. \times 4. \times 5. \times

三、1. 69 5 30 37 18 9 36 8 90 72 55 6

2. $<$ $>$ $>$ $=$ $<$ $<$

3. 70 3 30 2 74 46

四、1. 三十四 34 一百 100 五十二 52 三十 30

2. 80、81、82、83 41、52、63、74 16、26、36、46

(答案不唯一)

五、1. $79 - 9 = 70$ (个)

2. $40 + 5 = 45$ (个) 够($\sqrt{\quad}$)

3. $38 - 30 = 8$ (把)

4. $30 + 4 = 34$ (个)

5. 87本“ $\sqrt{\quad}$ ”

6. 4条