

## 期末检测卷 2

(时间:90分钟 满分:100分)

### 一、我会填。(28分)

1.在括号里填上适当的单位。

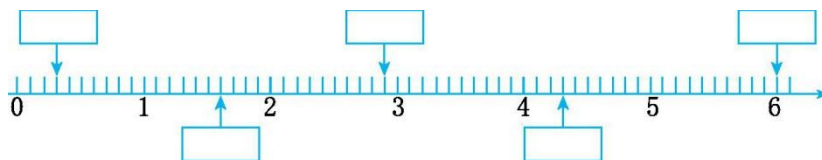
(1)一张报纸的面积大约是 600( )。

(2)一个操场的占地面积是 7000( )。

(3)明明围着操场跑一圈大约是 200( )。

(4)教室的面积是 48( )。

2.在长方形框里写出合适的小数。



3.  $575 \div 5$  的商是( )位数;要使  $\square 35 \div 5$  的商是两位数,  $\square$  可

填( )。(把所有的可能都写出来)。

4.记者从国家气象中心获悉,自 2016 年 3 月 21 日入汛以来,至 6 月

7 日,全国平均降水量为 178.6 毫米,为 1974 年以来历史同期最多。

(1)自 3 月 21 日入汛以来,至 6 月 7 日,历时( )天。

(2)读出题中的小数:( )。

(3)1974年是( )年(填“平”或“闰”),2月有( )天。

5.在○里填上“>”“<”或“=”。

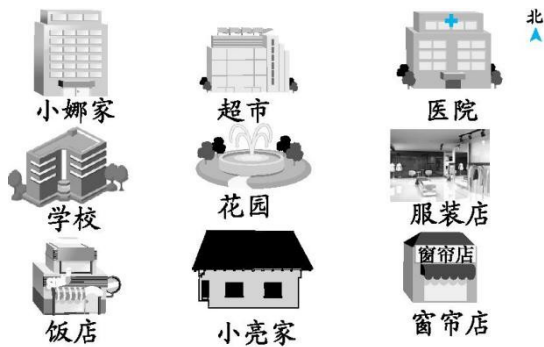
7.8元○8.7元     3米○3.1米                      0×96○0÷96

24×33○66×12     4平方分米○40平方厘米     30×20○30×200

6.乐乐参加“葫芦丝大赛”,14:30开始,经过2小时30分结束。结束

时间是( )时,也就是下午( )时。

7.



(1)饭店在花园的( )方向。

(2)窗帘店在医院的( )面。

(3)小亮家在小娜家的( )方向。

(4)超市在学校的( )方向。

8.一个边长为10厘米的正方形的面积是( )。

二、我会判断。(10分)

1.  $\square\square\square \div 2$  的商一定是三位小数。 ( )

2. 爸爸 6 月 31 日出差。 ( )

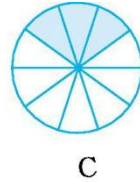
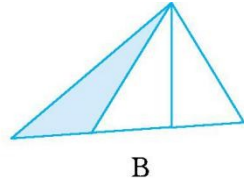
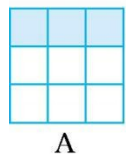
3. 1 平方米比 1 米大。 ( )

4. 两位数乘两位数, 如果每个数的末位都没有 0, 积的末位一定没有 0。 ( )

5. 周长相等的长方形的面积比正方形的面积大。 ( )

### 三、我会选择。(8分)

1.下图中的涂色部分能用 0.3 表示的是( )。



2.国家大力倡导低碳出行。妈妈骑自行车从家到单位要用 40 分钟,她 8 时到单位打卡,最迟( )从家出发。

A.7:40

B.7:20

C.8:00

3.四名同学互相握手,每两人握一次,一共握手( )次。

A.8

B.6

C.4

4.妈妈在 2016 年 1 月 3 日买了一盒酸奶,保质期是 21 天,生产日期是 2015 年 12 月 15 日,这盒酸奶( )。

A.能喝

B.不能喝

C.无法判断是否能喝

### 四、我会计算。(17分)

1.直接写出得数。(6分)

$800 \div 4 =$

$3500 \div 7 =$

$50 \times 60 =$

$0.3 + 0.7 =$

$0.8 - 0.4 =$

$320 \div 4 =$

2.列竖式计算,带☆的要验算。(验算2分,共11分)

$$\star 483 \div 5 =$$

$$25 \times 48 =$$

20-

$$5.4 =$$

五、下面是三(3)班全班学生的身高情况统计表。(10分)

三(3)班全班学生身高情况统计表

身高(厘米)人数	140以下	140~145	146~150	150~155	155以上
男生	3	15	4	2	4
女生	2	10	5	3	5

1.男生身高在( )厘米范围内的人数最多,女生身高在( )

厘米范围内的人数最少。

2.三(3)班一共有女生多少人?

六、解决问题。(27分)

1. 幼儿园有5个班，每个班有24名小朋友。



每个人分4块饼干。

这些小朋友一共分多少块饼干?(9分)

2. 友谊广场有一个边长 8 米的正方形场地,打算用面积 8 平方分米的彩砖铺地,一共需要多少块这样的彩砖?(9分)



《美德故事》13.6元



《绿野仙踪》20.5元

3.

这两本书一共多少元?(9分)

参考答案：

一、1.

(1) 平方厘米

(2) 平方米

(3) 米

(4) 平方米

2.0.3 1.6 2.9 4.3 6

3.三 4、3、2、1

4.(1)79

(2)一百七十八点六

(3)平 28

5.< < = = > <

6.17 5

7.

(1) 西南

(2) 南

(3) 东南

(4) 东北

8.100 平方厘米

二、1.×

2.×

3.×

4.×

5.×

三、1.C

2.B

3.B

4.A

四、1.200 500 3000 1 0.4 80

2. ☆  $483 \div 5 = 96 \dots 3$

$$\begin{array}{r} 96 \\ 5 \overline{)483} \\ \underline{45} \phantom{0} \\ 33 \\ \underline{30} \\ 3 \end{array}$$

验算：
$$\begin{array}{r} 96 \\ \times 5 \\ \hline 480 \\ + 3 \\ \hline 483 \end{array}$$

$25 \times 48 = 1200$     $20 - 5.4 = 14.6$

$$\begin{array}{r} 25 \\ \times 48 \\ \hline 200 \\ 100 \\ \hline 1200 \end{array}$$

$$\begin{array}{r} 20 \\ - 5.4 \\ \hline 14.6 \end{array}$$

五、1.140~145 140 以下

$2 + 10 + 5 + 3 + 5 = 25$ (人)

答:三(3)班一共有女生 25 人。

六、 $1.24 \times 5 \times 4 = 480$ (块)

答:这些小朋友一共分 480 块饼干。

$2.8 \text{ 米} = 80 \text{ 分米}$     $80 \times 80 \div 8 = 800$ (块)

答:一共需要 800 块这样的彩砖。

$3.13.6 + 20.5 = 34.1$ (元)

答:这两本书一共 34.1 元。