

周测培优卷 6

一、我会填。(6题8分,其余每题3分,共23分)

1. 计算 $18 - 25 \div 5$ 时,要先算()法,再算()法,结果是()。

2. 计算 $6 \times 4 \div 8$ 时,要先算()法,再算()法,结果是()。

3. $8 \times 9 - 4$ 的结果是(),如果要改变运算顺序,添上括号后的算式是()。

4. $18 + 63 \div 9$ 与 $(18 + 63) \div 9$ 的运算结果(),运算顺序()。
(填“相同”或“不同”)

5. 6个9是(),再加上18,和是()。

6. 在○里填上“>”“<”或“=”。

$$10 - 2 \times 4 \bigcirc (10 - 2) \times 4 \quad 32 \div 4 \div 2 \bigcirc 32 \div 8$$

$$20 + 15 \div 5 \bigcirc (20 + 15) \div 5 \quad 58 - 24 \div 3 \bigcirc 6 \times 8$$

二、计算挑战。(共52分)

1. 计算下面各题。(每题3分,共18分)

$6 \times 7 + 24$

$64 \div 8 + 57$

$45 \div (29 - 20)$

$(14 - 9) \times 8$

$6 \times (2 \times 4)$

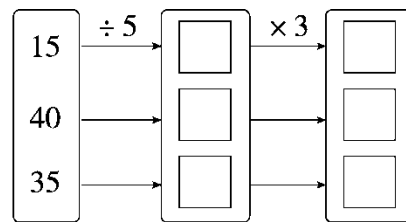
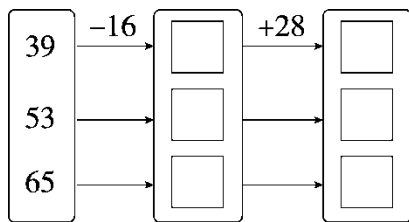
$(28 - 8) \div 5$

2. 下面的计算对吗？对的画“√”，错的画“×”，并改正过来。(每题 5 分，共 10 分)

$75 - 18 + 12$ $= 75 - 30$ $= 45$ ()	
---	--

$6 \times 4 \div 3$ $= 24$ $= 8$ ()	
--	--


3. 我会仔细算。(每空 2 分，共 24 分)



三、走进生活，解决问题。(1 题 9 分，其余每题 8 分，共 25 分)

1. 快递员叔叔今天一共要送 220 件快递，上午送了 120 件，下午送了 80 件，还剩多少件没送？(用两种方法解答)

2.



3. 平均每间兔舍住几只兔子？



答案

一、1.除 减 13 2.乘 除 3

3. 68 $8 \times (9 - 4)$ [点拨] 如果要改变运算顺序,说明要先算减法。

4. 不同 不同 5. 54 72

6. $< = > >$

二、1.

2.

$$\times \quad 75 - 18 + 12$$

$$= 57 + 12$$

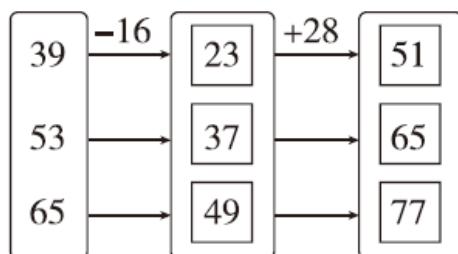
$$= 69$$

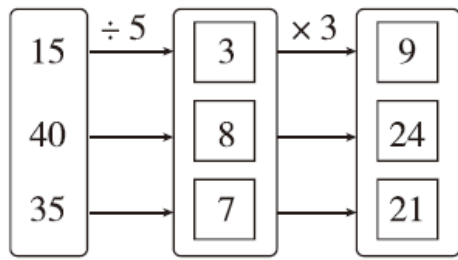
$$\times \quad 6 \times 4 \div 3$$

$$= 24 \div 3$$

$$= 8$$

3.





三、1.方法一： $220 - 120 - 80$

$$= 100 - 80$$

$$= 20(\text{件})$$

方法二： $220 - (120 + 80)$

$$= 220 - 200$$

$$= 20(\text{件})$$

口答：还剩 20 件没送。

2. $7 \times 8 - 27 = 29(\text{盆})$

口答：还剩 29 盆没浇。

3. $(20 + 12) \div 4 = 8(\text{只})$

口答：平均每间兔舍住 8 只兔子。

[点拨] 先求出白兔和灰兔一共有多少只。