

第7单元过关检测卷

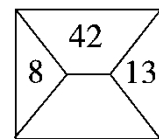
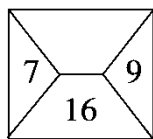
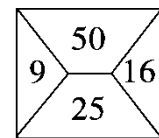
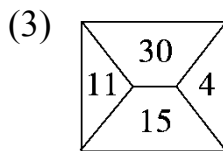
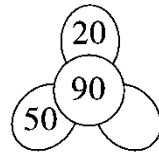
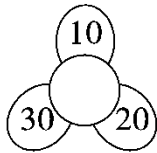
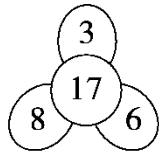
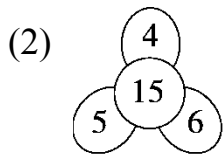
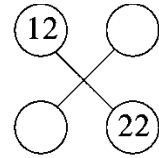
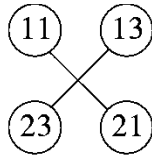
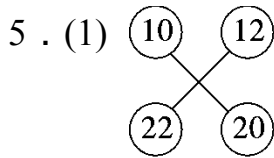
一、找规律填一填。(1~4题每空1分，5题每空2分，共32分)

1. 8、10、12、()、()、18、()。

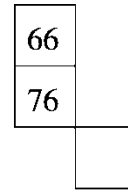
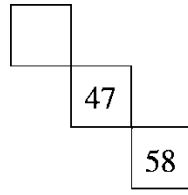
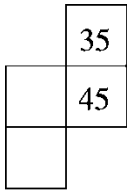
2. 87、80、73、()、59、()、45、()。

3. 11、22、33、()、()、()。

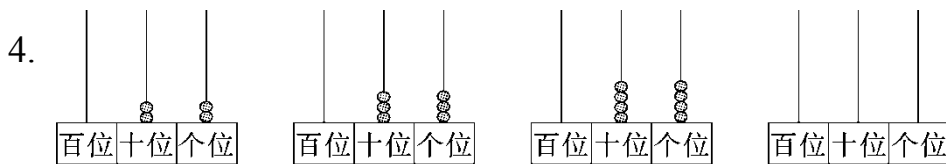
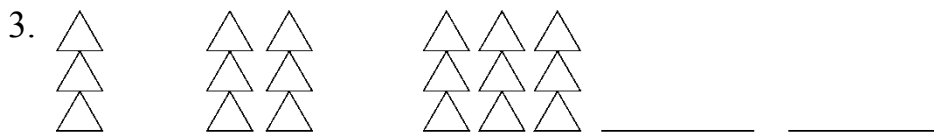
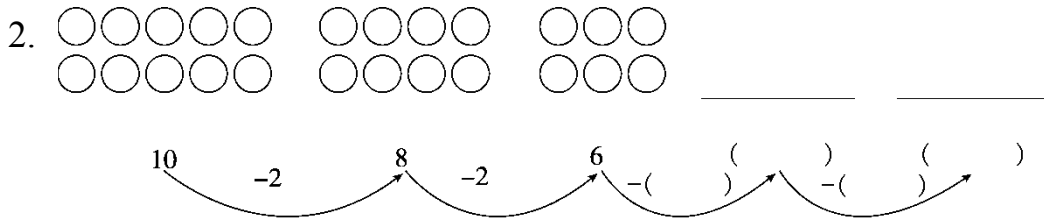
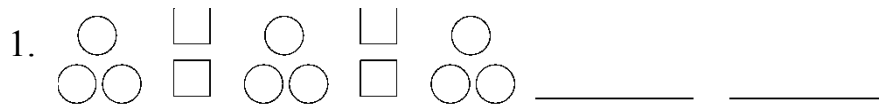
4. 20、30、()、()、60、()。



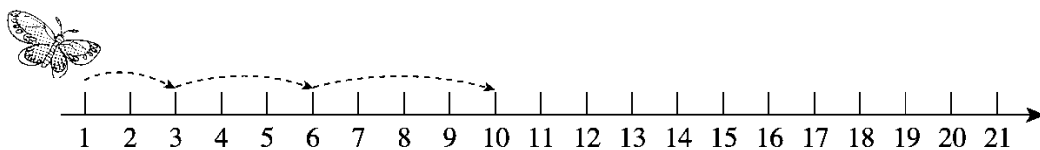
(4)根据百数表的顺序，填写空格里的数。



二、按规律接着画一画、填一填。(每题3分，共15分)



5. 蝴蝶会飞到哪些地方？请你用线画出来。



三、找规律圈出右边合适的图形。(每题2分，共6分)


1.



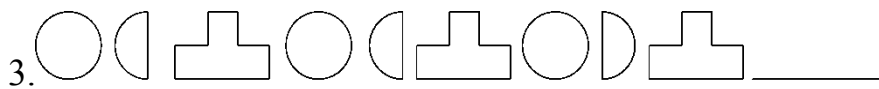
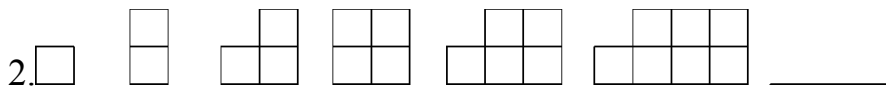
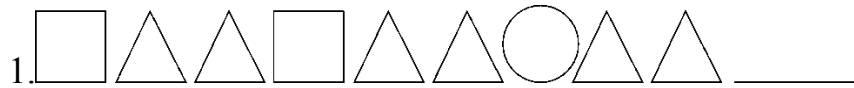
2.



3.



四、火眼金睛。(划掉不符合规律的图形，换上正确的)(每题3分，共9分)



五、哪一行与其他三行不同？请找出来，在()里画“√”。(每题3分，共6分)

1.

8	10	12	14	()
3	5	7	9	()
1	4	7	10	()
90	92	94	96	()

2.

30	29	28	27	()
18	19	20	21	()
12	11	10	9	()
52	51	50	49	()

六、下面各题中都有一个数不符合规律，把它圈起来，并改正在横线

上。(每题2分,共8分)

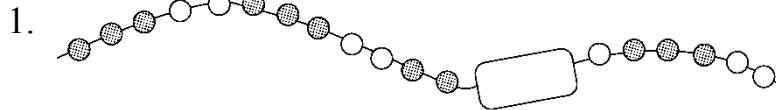
1. 25 30 35 38 45 50 _____

2. 66 55 50 33 22 _____

3. 18 28 29 48 58 _____

4. 50 52 54 56 60 _____

七、解决问题。(每题6分,共24分)



被挡住部分至少有()颗
珠子,其中白珠子有()
颗,灰珠子有()颗。




2. 下面的方格中每行、每列都有“爱读书”这三个字,并且每行、每


列的字都不一样,请把方格补充完整。

爱		
	爱	
		爱


3. 鸡妈妈们带小鸡们去参加晚会。



第13只鸡是()鸡, 这13只鸡中一共有()只母鸡, ()只小鸡。



4. 小丽穿的花环不小心掉了4朵花。



她掉了()朵  , ()朵  。

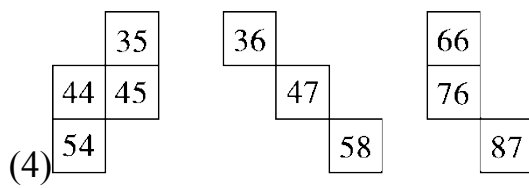
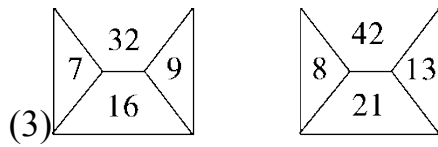
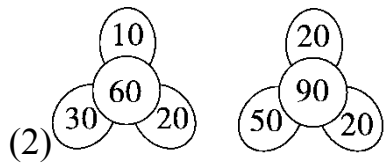
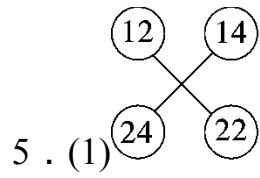
答案

一、1. 14 16 20

2. 66 52 38

3. 44 55 66

4. 40 50 70



二、略

三、1. 2. 3.

四、1. 换 2. 换 3. 换

五、1.

8	10	12	14	()
3	5	7	9	()
1	4	7	10	(✓)
90	92	94	96	()

2.

30	29	28	27	()
18	19	20	21	(✓)
12	11	10	9	()
52	51	50	49	()

六、1. ③改 40

2. ⑤改 44

3. ②改 38

4. ⑥改 58

七、1.2 1 1

2.

爱	读	书
书	爱	读
读	书	爱

(填法不唯一)

3. 母 4 9

4. 2 2