

2024 年北师大版小学一年级数学下学期期末模拟测试卷

一、我会填一填！

1. ○表示1个十，△表示1个一。

○○△△△ ○○△△△	○○○ △△△	○○○○ ○○○○
写作：_____	写作：_____	写作：_____
读作_____	读作_____	读作_____

2. 在横线上填上“>”“<”或“=”




48+51 _____ 100 87-13 _____ 41+26 67-50 _____ 87-42

45-22 _____ 23 59-30 _____ 23+15 15+12 _____ 65-41

3. 停车场开走的9辆车，还剩25辆，那么原来有_____辆。

4. 一个两位数，个位上的数和十位上的数合起来是8，这个数最大是_____。

5. 填表。

			
停车场有	35 辆	26 辆	30 辆
开走了	8 辆	9 辆	7 辆
还剩	_____ 辆	_____ 辆	_____ 辆

6. 最大的一位数是_____，最大的两位数是_____，它们的差是_____。

7. 在横线上填上合适的数

12 - _____ = 5 _____ - 6 = 20 _____ + 60 = 65

90 + _____ = 99 _____ - 5 = 70 _____ + 8 = 14


二、我会选一选。

8. 下面和 90 最接近的数是 ()。

A . 89 B . 93 C . 99

9. 最小的两位数与最大的两位数相差 ()。

A . 89 B . 80 C . 90

10.  小明可能出 ()

A . 14

B . 31

C . 68

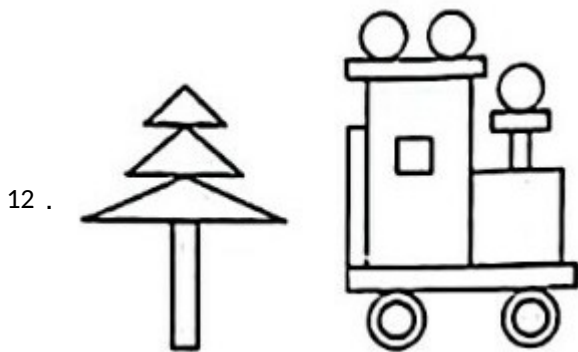
11. 七巧板中有 () 种图形。

A . 3

B . 5


C . 7

三、按要求做题



圆有_____个，正方形有_____个，三角形有_____个，长方形有_____个。

13. 我会连



14. 分一分，填一填。



(1) 按颜色分。

类别	黄色	粉色	蓝色
个数			

(2) 按形状分。

类别	三角形	圆	正方形
个数			

四、我会算一算。

15. 口算下面各题。

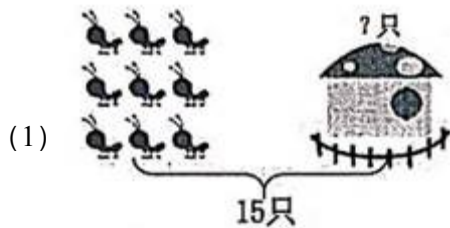
$44+6=$ $32-22=$ $25+7=$ $7+8-11=$ $(\quad) + 8 = 51$

$25+34=$ $48+9=$ $57-20=$ $5+13+9=$ $90 - (\quad) = 50$


$88-47=$ $32+36=$ $25+14=$ $56-6+7=$ $24 = (\quad) - 24$

$18+9=$ $85-41=$ $11+25=$ $18+7-6=$ $68=30+(\quad)$

16. 看图列式计算。




$\square \bigcirc \square = \square$



$\square \bigcirc \square = \square$

五、我会解一解。

17. 我们班有多少根跳绳？



18. 鸡有 15 只，鸭有 31 只，鹅有 6 只。

(1) 鸭和鹅一共有多少只？

(2) 公鸡有 8 只，母鸡有多少只？

19. 小朋友栽树，已经栽好 6 棵，还有 14 棵没有栽，要栽多少棵？

20. 购买新衣服。



上衣 56 元



T 恤 42 元



裙子 38 元



裤子 30 元

(1) 一件上衣比一件 T 恤贵多少元？

(2) 要买一套衣服，你可以怎么买？应付多少元？

(3) 再提一个数学问题，并解答。

21. 小红买一把雨伞需要几元？



参考答案

1. 【答案】 46 ; 四十六 ; 33 ; 三十三 ; 80 ; 八十

2. 【答案】 $<$; $>$; $<$; $=$; $<$; $>$

3. 【答案】 34

4. 【答案】 80

5. 【答案】 27 ; 17 ; 23

6. 【答案】 9 ; 99 ; 90

7. 【答案】 7 ; 26 ; 5 ; 9 ; 75 ; 6


8. 【答案】 A

9. 【答案】 A

10. 【答案】 C

11. 【答案】 A

12. 【答案】 7 ; 2 ; 3 ; 7



14. 【答案】 (1)

类别	黄色	粉色	蓝色
个数	4	2	2

(2)

类别	三角形	圆	正方形
个数	3	3	2

15. 【答案】 $44+6=50$ $32-22=10$ $25+7=32$ $7+8-11=4$ $43+8=51$

$25+34=59$ $48+9=57$ $57-20=37$ $5+13+9=27$ $90-40=50$

$88-47=41$ $32+36=68$ $25+14=39$ $56-6+7=57$ $24=48-24$

$18+9=27$ $85-41=44$ $11+25=36$ $18+7-6=19$ $68=30+38$

16. 【答案】 (1) $15-9=6$

(2) $70-30=40$

17 . 【答案】 $37-7=30$ (根)

答：我们班有 30 根跳绳。

18 . 【答案】 (1) $31+6=37$ (只)

答：鸭和鹅一共有 37 只。

(2) $15-8=7$ (只)

答：母鸡有 7 只。

19 . 【答案】 $6+14=20$ (棵)

答：要栽 20 棵。

20 . 【答案】 (1) 解： $56-42=14$ (元)

答：一件上衣比一件 T 恤贵 14 元。

(2) 解： $42+30=72$ (元)

答：可以买一件 T 恤和一条裤子，应付 72 元。

(3) 解：买一件上衣和一条裙子一共多少钱？

$56+38=94$ (元)

答：买一件上衣和一条裙子一共 94 元钱。

21 . 【答案】 解： $50-33=17$ (元)

答：小红买一把雨伞需要 17 元。