









2.22 十几减7、6

一、算一算，照样子写一写。15 8 7 13 6 7 14 14 - 6 = 8

$7 + 8 =$ $15 - 7$ $=$ $15 - 8$ $=$	$6 + 7 =$ $13 - 7$ $=$ $13 - 6$ $=$	$6 + 8 =$ $\square \bigcirc \square =$ \square $\square \bigcirc \square =$ \square
---	---	---





二、连一连。

 16-7	 18-10
 14-6	 17-8
 16-9	 14-7
 14-8	 15-9

三、算一算。




$13 - 6 - 4 =$	$14 - 7 - 5 =$	$12 + 5 - 8 =$
$12 - 8 + 6 =$	$13 - 8 - 2 =$	$9 + 4 - 7 =$
$15 - 7 - 3 =$	$8 + 4 - 7 =$	$6 + 6 - 8 =$

四、我会排。

			
---	---	---	---

() > () > () > ()

五、小小体育用品店。

			
原有	15 个	11 个	15 个
卖出	8 个	7 个	6 个
还剩	() 个	() 个	() 个

六、解决问题。

1. 地上原来有 12 个蘑菇。



地上还剩多少个蘑菇？

2. 树上有 16 只小鸟，飞走了 7 只，还剩多少只？

答案：

一、15 8 7 13 6 7 14 14 - 6 = 8 14 - 8 = 6

二、略

三、3 2 9 10 3 6 3 5 4

四、16 - 7 > 13 - 6 > 15 - 9 > 13 - 8

五、7 4 9

六、1.12 - 6 = 6 (个) 2.16 - 7 = 9 (只)