

## 第五单元测试卷 (2)

### 一、写出下面的钱数。



( )元



( )元( )角



( )元( )角( )分

### 二、换一换。

1. 一张  可以换      枚 .

2. 一张  可以换      张  和      张 .

3. 一张  可以换      张  和      张 .

### 三、填一填。

73角=( )元( )角      55角=( )元( )角

7角+4角=( )角      6元1角+4角=( )元( )

角

15元-8元=( )元      7元8角-6角=( )元( )角

15角=( )元( )角      24分=( )角( )分

### 四、在○里填上“>”“<”或“=”。

50角○50元

42分○4元1角







1元○100分

6角○62分      35元○53元      7元6角○7元6分

72角○7元      5元6角○6元5角      84角○8元4角



60角○60分      5角○47分      3元○2元9角

五、在括号里填上合适的单位。

	5(    )		3(    )		35(    )
	85(    )		2(    )		4(    )

六、解决问题。



	13元		6元		(2元3角		7元2角
---	-----	---	----	---	-------	---	------

1. 买一双  和一个  要付多少钱?


○  =  (    )

2. 买两本 , 要付多少钱?

○  =  (    )

3. 一双  比一本  贵多少钱?

○  =  (    )

4. 明明拿 20 元钱, 买一个 , 应找回多少钱?

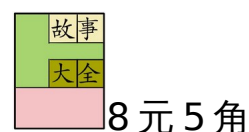
○  =  (    )

七、



12元正好可以买哪两种食品?15元正好可以买哪两种食品?

八、丽丽用17元买了下面两本书,你知道她买了哪两本书吗?找回了多少钱?



### 参考答案

一、71 36 5 2 5 5

二、1.5 2.1 3(或2 1) 3.1 5

三、7 3 5 5 11 6 5 7 7 2 1 5 2 4

四、< < = < < > > < = > > >

五、角 元 元 元 元 角 元

六、1. 13元+2元3角=15元3角

2. 7元2角+7元2角=14元4角

3. 13元-7元2角=5元8角

4. 20元-6元=14(元)

七、 $3+9=12$ (元) 正好可以买一个冰激凌和一盘炸鸡块。

$8+7=15$ (元) 正好可以买一个汉堡和一份薯条。

八、 $8\text{元}+8\text{元}5\text{角}=16\text{元}5\text{角}$

买了《卡通》和《故事大全》这两本书。

$17\text{元}-16\text{元}5\text{角}=5\text{角}$