


第六单元检测卷(2)


一、看谁先到家。


$$44 - 40 =$$

$$52 + 7 =$$

$$85 - 40 =$$





$$46 + 3 =$$

$$39 - 6 =$$

$$60 + 20 =$$




$$90 - 90 =$$

$$52 + 4 =$$

$$41 - 30 =$$



二、在正确的答案后面画“□”。

$$26 + 8 = \begin{cases} 76 & \square \\ 34 & \square \\ 24 & \square \end{cases}$$

$$48 + 5 = \begin{cases} 43 & \square \\ 53 & \square \\ 98 & \square \end{cases}$$

$$32 - 7 = \begin{cases} 15 & \square \\ 25 & \square \\ 35 & \square \end{cases}$$

$$88 - 6 = \begin{cases} 28 & \square \\ 82 & \square \\ 56 & \square \end{cases}$$

$$30 - 4 = \begin{cases} 34 & \square \\ 24 & \square \\ 26 & \square \end{cases}$$

$$26 + 7 = \begin{cases} 23 & \square \\ 33 & \square \\ 43 & \square \end{cases}$$

三、算一算。

$$14 + 6 + 52 =$$

$$48 - 8 - 20 =$$

$$60 - 30 + 6 = \square$$

$$72 + (20 - 6) =$$

$$55 - (20 - 15) =$$

$$93 - (58 - 8) = \square$$

$$74 + (17 + 3) =$$

$$60 - (52 - 40) =$$

$$80 - (17 - 8) = \square$$

四、在○里填上“>”“<”或“=”。

$24-9 \bigcirc 22-5$

$74-20 \bigcirc 50+43$

$36+20 \bigcirc 36-$

20

$42-9 \bigcirc 28+5$

$45-8 \bigcirc 37+6$

$85+10 \bigcirc 90-2$

五、连一连。



得数小于50



得数大于50

$78-60$

$44+6$

$50-(18-8)$

$10+30+40$

$30+(28-6)$

$63-7$

$92-8$

六、填一填。

| |  |  |  |  |
|-----|---|---|--|---|
| 原来有 | 45 个 | 74 个 | () 个 | 8 个 |
| 又买来 | 6 个 | 7 个 | 30 个 | () 个 |
| 一共有 | () 个 | () 个 | 60 个 | 78 个 |

七、解决问题。



1. 9人


8人

37人

(1)跳舞组和腰鼓组一共有多少人?

(2)腰鼓组比唱歌组多多少人?

2.每个花盆插4朵花。



一共有多少朵花?

50块糖果，每8块装一袋，可以装满几袋？



3.

哪两个班学生可以一起乘船？



一班有40人，二班有42人，三班有50人。

4.

八、小白兔比小灰兔多拔了几个萝卜？



小白兔比小黑兔多拔了15个萝卜。

小灰兔比小黑兔多拔了6个萝卜。



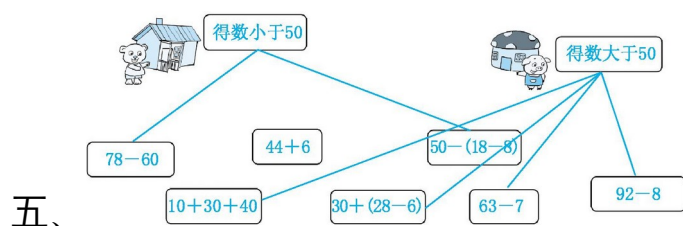
参考答案

一、 4 49 0 59 33 56 45 80 11

二、 $34\square$ $25\square$ $26\square$ $53\square$ $82\square$ $33\square$

三、 72 20 36 86 50 43 94 48 71

四、 $<$ $<$ $>$ $=$ $<$ $>$



六、 51 81 30 70

七、 1.(1) $9+37=46$ (人) (2) $37-8=29$ (人)

$2.4+4+4+4+4=20$ (朵)

$3.50 \xrightarrow{-8} 42 \xrightarrow{-8} 34 \xrightarrow{-8} 26 \xrightarrow{-8} 18 \xrightarrow{-8} 10 \xrightarrow{-8} 2$

口答:可以装满 6 袋,还剩 2 块糖果。

4.一班人数和二班人数合起来为 $40+42=82$ (人);

一班人数和三班人数合起来为 $40+50=90$ (人);

二班人数和三班人数合起来为 $42+50=92$ (人)。

答:一班和二班可以一起乘船,一班和三班可以一起乘船。

八、 $15-6=9$ (个)