

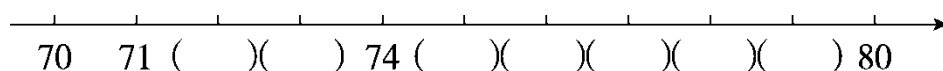
期中跟踪检测卷

一、填一填。(3题4分,其余每空1分,共19分)

1. 至少要()个相同的正方形才能拼成一个长方形,至少要()个相同的正方形才能拼成一个较大的正方形。

2. 40前面一个数是(),后面一个数是()。

3. 按顺序填数。



上面所填的数中,()最接近80。

4. 比15少6的数是(),38比30多()。

5. 一个两位数,个位上的数是6,十位上的数是8,这个数是()。

6. 69是一个()位数,它添上1是()。

7. 在○里填上“>”“<”或“=”。

$$15 - 7 \bigcirc 9 \quad 45 - 5 \bigcirc 50 \quad 57 - 50 \bigcirc 5$$

$$4 + 8 \bigcirc 13 \quad 7 + 60 \bigcirc 76 \quad 12 - 5 \bigcirc 7$$

二、选一选。(把正确答案的序号填在括号里)(每题2分,共10分)

1. 66和72之间有()个数。

- ① 5 ② 6 ③ 7

2. 至少要()根同样的小棒才能拼成一个长方形。

- ① 4 ② 6 ③ 8

3. 以下三个数中,()最接近70。

- ① 59 ② 67 ③ 72

4. 90比28(), 28比30()。

- ① 多得多 ② 多一些 ③ 少一些

5. 与 $13 - 6$ 的结果相同的算式是()。

- ① $12 - 6$ ② $15 - 9$ ③ $14 - 7$


三、计算挑战。(共21分)

1. 看谁算得又对又快。(每题1分,共9分)

$74 - 4 =$ $5 + 40 =$ $98 - 8 =$

$30 + 8 =$ $83 - 3 =$ $49 - 40 =$

$56 - 50 =$ $60 + 7 =$ $4 + 30 =$

2. 在  里填上合适的数。(每题2分,共12分)

 $+ 10 = 80$ $32 +$  $= 39$ $63 -$  $= 60$

 $- 20 = 23$ $88 -$  $= 8$  $+ 34 = 38$

四、我会按要求解题。(共18分)

1. 我会分类。(填序号)(8分)



①



②



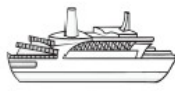
③



④



⑤



⑥



⑦



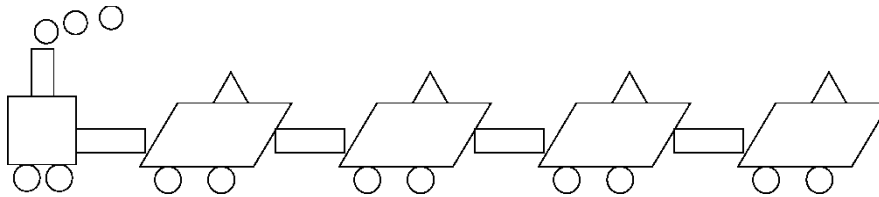
⑧



2. 用4个○能表示哪些不同的数?(5分)

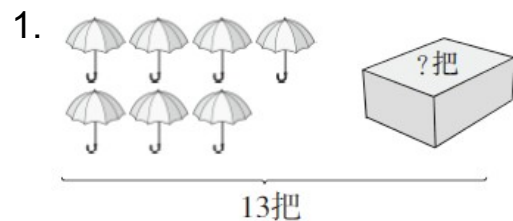
十位	个位	组成的数

3. 我会数。(每空1分,共5分)



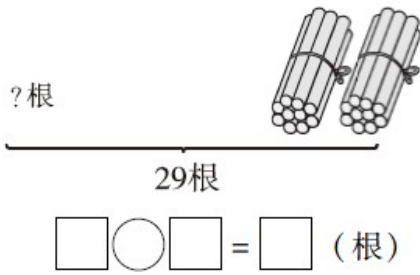
	正方形	长方形	平行四边形	三角形	圆
个数(个)					

五、看图列式计算。(每题3分,共6分)




$$\square \bigcirc \square = \square \text{ (把)}$$

2.



六、走进生活，解决问题。(5题6分，其余每题5分，共26分)

1. 兔子兄弟俩今天一共要采15个蘑菇。



2. 树上原来有34个桃，小猴摘下了4个桃。



3. 虾比螃蟹多多少只?



4. 28 个茶杯，4 个装一盒，能装满几盒？



5. 投篮比赛。



(1) 乐乐投了多少分？

(2) 优优比乐乐少投了多少分？

答案

一、1. 2 4

2. 39 41

3. 72 73 75 76 77 78 79 79

4. 9 8 5. 86 6. 两 70

7. < < > < < =

二、1. ① 2. ② 3. ③ 4. ① ③ 5. ③

三、1. 70 45 90

38 80 9

6 67 34

2. 70 7 3 43 80 4

四、1.

生活用品
④ ⑦

学习用品
① ③

交通工具
② ⑤ ⑥ ⑧

2.

十位	个位	组成的数
○○○○		40
○○○	○	31
○○	○○	22
○	○○○	13
	○○○○	4

[点拨]注意有顺序思考。

3.

	正方形	长方形	平行四边形	三角形	圆
个数					
(个)	1	5	4	4	13

五、 $1.13 - 7 = 6$

2. $29 - 20 = 9$

六、 $1.15 - 8 = 7$ (个)

口答：我还要采 7 个蘑菇。

2. $34 - 4 = 30$ (个)

口答：树上还有 30 个桃。

3. $13 - 5 = 8$ (只)

口答：虾比螃蟹多 8 只。

4. $28 \rightarrow 24 \rightarrow 20 \rightarrow 16 \rightarrow 12 \rightarrow 8 \rightarrow 4 \rightarrow 0$

口答：能装满 7 盒。

5. (1) $30 + 4 = 34$ (分)

口答：乐乐投了 34 分。

(2) $34 - 30 = 4$ (分)

口答：优优比乐乐少投了 4 分。