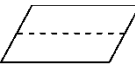


一年级第二学期数学期末测试卷(一)

一、我会填。(每空1分,共34分)

1.  折出了()个相同的()形。

2. 60角=()元 89角=()元()角

76分=()角()分 1元=()分

3. 96里面有()个十和()个一,再加上()个一就是100。

4. 与29相邻的两个数是()和(),这两个数的和是()。

5. 一个两位数,个位上是5,十位上是6,这个两位数是()。

6. 按从小到大的顺序排列下面各数。

37 89 50 2 100 73 41

() < () < () < () < () < () < ()

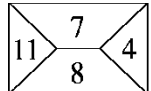
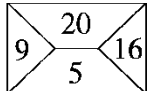
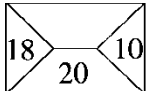
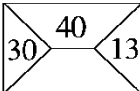
7. 98比90多(),9比16少()。

8. 一张  能换()张  或()张 .

9. 按规律填一填。


(1)       () () ()

(2) 83 81 79 77 () () ()

(3)    

二、我会辨。(每题1分,共5分)

1. 30和63两个数中的3表示的意义一样。 ()

2. 至少用8个相同的  可以拼成一个大正方形。 ()

3. 小明买了一本 18 元的书，他付了 2 张 9 元的钱。 ()

4. 圆是一条封闭的曲线。 ()

三、我会选。(每题 1 分，共 5 分)

1. 最大的一位数和最小的两位数相差()。

A . 1 B . 9 C . 90

2. 读数和写数都从()起。

A . 个位 B . 十位 C . 最高位

3. 一个一个地数，64 后面第 3 个数是()。

A . 61 B . 66 C . 67

4. 下面最接近 20 的数是()。

A . 23 B . 18 C . 12

5. 一瓶牛奶卖 4()。

A . 角 B . 元 C . 分

四、我会算。(1 题 12 分，2 题 6 分，3 题 6 分，共 24 分)

1. 直接写出得数。

$$25 + 4 = \quad 72 - 2 = \quad 14 - 5 - 6 =$$

$$68 - 20 = \quad 26 + 7 = \quad 81 - (47 - 7) =$$

$$63 - 5 = \quad 51 - 8 = \quad 40 + 60 - 8 =$$

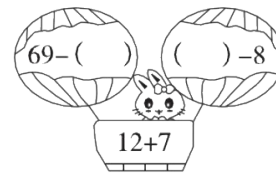


$$24 + 8 = \quad 20 + 43 = \quad 66 - (34 + 6) =$$

2. 把下面的算式按得数从小到大排列。

$$56 - 30 \quad 9 + 56 \quad 88 - 6 \quad 30 + 26 \quad 47 - 7 \quad 45 - 9$$

() < () < () < () < () < ()

3. 下面每组中各算式的得数相同，你能填出括号里面的数吗？



五、在合适的答案下面画“√”。(每题 2 分，共 4 分)

1.



咪咪可能钓了多少条鱼？

3	26	32
<input type="checkbox"/>	<input type="checkbox"/>	<input type="checkbox"/>

2.



文文可能看了多少页？

20	25	52
<input type="checkbox"/>	<input type="checkbox"/>	<input type="checkbox"/>

六、解决问题。(1 题 6 分，5 题 10 分，其余每题 4 分，共 28 分)

1.



17元



2元



9元








34元

(1) 一个熊猫玩具比一个文具盒贵多少钱？

(2) 买一个热水瓶和一个毽子共多少钱？

(3) 丽丽用 11 元刚好买了哪两样？

(1)根据上图填写下表。

	 狮子	 兔子	 小熊	 猴子	 小象
人数					

(2)喜欢()的人数最多，喜欢()和()的人数同样多。

(3)你能提一个数学问题并解答吗？

答案

一、1.2 平行四边 2.6 8 9 7 6 100

3.9 6 4 4.30 28 58 5.65

6.2 37 41 50 73 89 100

7.8 7 8.2 5

9. (1) 😊 😊 ♡ (2) 75 73 71

(3) 8 3

二、1. × [点拨] 30 中的 3 表示 3 个十，63 中的 3 表示 3 个一。

2. × [点拨] 至少用 4 个相同可以拼成一个大正方形。

3. × [点拨] 没有 1 张 9 元的钱。

4. √

三、1. A 2. C 3. C 4. B 5. B

四、1. 29 70 3 48 33 41 58 43 92 32

63 26 72 46 41

2. $56 - 30$ $45 - 9$ $47 - 7$ $30 + 26$ $9 + 56$ $88 - 6$

3. 4 7 7 64 50 27

五、1.

3	26	32
	√	

2.

20	25	52
		√

六、1. (1) $17 - 9 = 8$ (元)

(2) $34 + 2 = 36$ (元)

(3) $9 + 2 = 11$ (元)

刚好买一个文具盒和一个毽子。

2 . (1) $15 - 7 = 8$ (人) (2) $15 - 9 = 6$ (人)

3 . $8 + 8 + 8 = 24$ (盒) $24 > 22$ 够。

4 . $42 - 20 = 22$ (朵)

5 . (1) 10 12 8 10 6

(2) 兔子 狮子 猴子

(3) 喜欢狮子的和喜欢猴子的一共有多少人？

$10 + 10 = 20$ (人) (答案不唯一)