

4.11 数数、数的组成

一、按顺序写数。


① 87, 88, _____, _____, _____。

② 60, 70, _____, _____, _____。


③ 87, 77, _____, 57, _____, _____, 27。

二、圈一圈。

1. 把下图中的花朵 10 个 10 个地圈一圈。



2. 把下图中的蚂蚁 5 个 5 个地圈一圈。



三、我会填。

1. 36 是由()个十和()个一组成的。

2. 48 是由 4 个()和 8 个()组成的。

3. 由 8 个一和 2 个十组成的数是()。

4. 和 49 相邻的两个数是()和()。

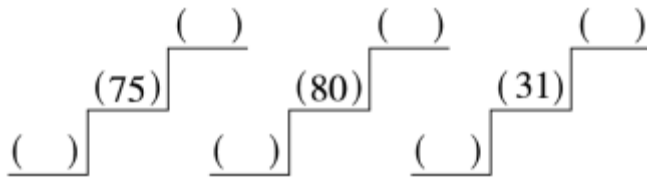
四、我做小法官，我来判“√”“×”。

(1) 44 中的两个“4”表示的意义相同，都表示 4 个一。 ()

(2) 一个两位数，高位是个位，低位是十位。 ()

(3) 由 5 个十和 3 个一组成的数是 53。 ()

五、写出下面各数相邻的两个数。



六、我会连。

是45。 是56。 68是由.....

6个十和8个一组成的。 4个十和5个一。 十位上是5, 个位上是6。

答案：

一、89 90 91 80 90 100 67 47 37

二、略

三、**1.36 2.十 — 3.28 4.48 50**

四、(1) × (2) × (3) √

五、74 76 79 81 30 32 38 40 62 64

90 92

六、略