

第二单元达标测试卷

一、填一填。(每空1分,共12分)

1.在算式 $12 \div 3 = ()$ 中, $()$ 是被除数, 3 是 $()$, 商是 $()$ 。


想口诀 $()$ 可以求出商。


2.用五六三十这句口诀可以写的除法算式是 $()$ 和 $()$ 。

3.一共有 8 块饼干, 平均分成了 4 份, 每份是 $()$ 块。

4.20 里面有 $()$ 个 5, $()$ 里面有 3 个 4。

5.



右图能拼成 $()$ 个 , 算式是 $()$ 。

二、判断。(每题1分,共5分)

1.  左图中的分法是平均分。 $()$

2.计算 $3 \times 6 = 18$ 和 $18 \div 6 = 3$ 所用的口诀是一样的。 $()$

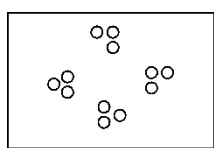
3.被除数和除数都是 6，商是 36。 ()

4. $\triangle\triangle\triangle \triangle\triangle\triangle$ ，列式为 $6\div 3=2$ 。 ()

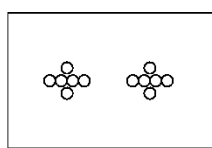
5.把 16 个苹果分给 4 个小朋友，每个小朋友一定分 4 个。 ()

三、选一选。(每题 1 分，共 5 分)

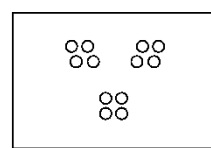
1.把 12 个 \circ 平均分成 3 份，哪种分法对？你的选择是()。



①




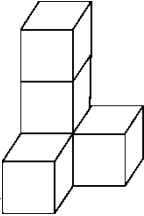
②



③

2.除数是 3 的除法算式是()。

- ① $6\div 3=2$ ② $12\div 4=3$ ③ $2\times 3=6$

3.有 20 个 ，能摆成几个 ？列式正确的是()。

- ① $20\div 4=5$ (个) ② $20\div 5=4$ (个) ③ $4\times 5=20$ (个)

4.下面的算式中，商不是 1 的算式是()。

- ① $5\div 5$ ② $2\div 2$ ③ $2\div 1$

5.结果可以用 $8\div 2$ 表示的是()。

- ① 把 8 分成 2 份 ② 8 里面有几个 2 ③ 把 8 平均分成 4 份

四、计算。(1题12分,2题8分,共20分)

1.直接写出结果。

$6 \times 2 =$ $36 \div 6 =$ $18 - 9 =$ $10 \div 5 =$

$16 \div 4 =$ $30 + 5 =$ $9 \div 3 =$ $18 \div 6 =$

$20 - 5 =$ $6 \div 6 =$ $5 \div 5 =$ $15 \div 3 =$

2.小树叶落在哪儿好呢?



$14 \bigcirc 7 = 7$

$3 \bigcirc 2 = 5$

$2 \bigcirc 2 = 1$


$6 \bigcirc 6 = 0$

$1 \bigcirc 5 = 5$

$36 \bigcirc 6 = 30$

$4 = 12 \bigcirc 3$

$18 = 9 \bigcirc 9$

五、 遮住的数是几?(8分)

$16 \div \text{苹果} = 4$

$\text{苹果} \div 4 = 2$

$20 \div \text{苹果} = 5$

$\text{苹果} \times 3 = 12$

$\text{苹果} \div 5 = 5$

$\text{苹果} \div 1 = 1$

$6 \times \text{苹果} = 24$

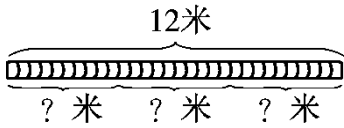
$\text{苹果} \times 6 = 36$

六、一根丝带长24厘米,对折再对折,然后沿着折痕剪开,每段长

多少厘米?(6分)

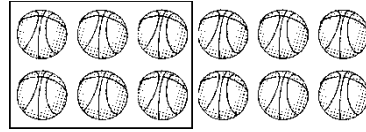
七、看图列式。(1、2题每题3分,3题4分,共10分)

1.



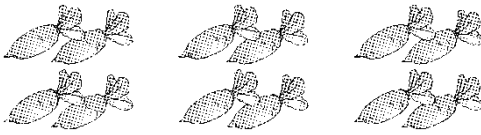
$$\square \bigcirc \square = \square (\text{米})$$

2.



$$\square \bigcirc \square = \square (\text{份})$$

3.



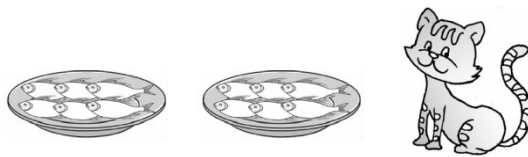
$$\square \bigcirc \square = \square (\text{个}) \quad \square \bigcirc \square = \square (\text{个})$$

$$\square \bigcirc \square = \square (\text{个}) \quad \square \bigcirc \square = \square (\text{份})$$

八、解决问题。(1题6分, 2题12分, 其余每题8分, 共34分)

1.李阿姨将6个面包装一盒, 18个面包可以装几盒?

2.小猫吃鱼。




(1)每盘装6条, 2盘一共多少条鱼?

(2)如果把这些鱼平均分给3只小猫, 每只小猫分得几条鱼?

(3)如果每只小猫分4条鱼, 这些鱼可以分给几只小猫?


3.(变式题)春节之际, 家家挂灯笼。



(1)10个灯笼，每个大门挂2个，一共可以挂几个大门？

(2)10个灯笼，用去2个，还剩几个？

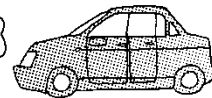
4.4个家庭共24人租车出去旅行。



面包车

限坐6人。

限坐4人。



小汽车

(1)若都坐面包车，需要租几辆？

(2)若都坐小汽车，需要租几辆？

答案

一、1.4 12 除数 4 三四十二 $2.30\div6=5$ $30\div5=6$

3.2 4.4 12 5.3 $15\div5=3$

二、1.× 2.√ 3.× 4.× 5.×

三、1.③ 2.① 3.② 4.③ 5.②

四、1.12 6 9 2 4 35 3 3 15 1 1 5

2. - + ÷ - × - ÷ +

五、4 8 4 4 25 1 4 6 易错点拨：先判断用哪个口诀，再

计算。

六、 $24\div4=6$ (厘米)

易错点拨：易因弄不清对折再对折共折成几段而出错。

七、1. $12\div3=4$ 2. $12\div6=2$

3. $3\times4=12$ $4\times3=12$ $12\div3=4$ $12\div4=3$

八、 $1.18\div6=3$ (盒)

2. (1) $6\times2=12$ (条) (2) $12\div3=4$ (条)

(3) $12\div4=3$ (只)

3 . (1) $10 \div 2 = 5$ (个) (2) $10 - 2 = 8$ (个)

4 . (1) $24 \div 6 = 4$ (辆) (2) $24 \div 4 = 6$ (辆)