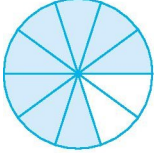


第七单元检测卷 2

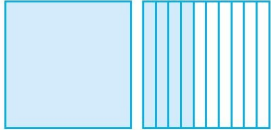
一、我会填。

1. 在括号里填上合适的小数。


2. 写出



()



()



()

下面的

小数。

一棵树高七点八三米。()

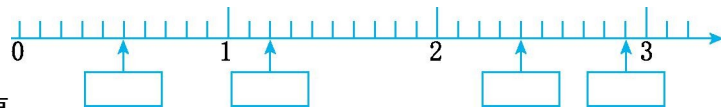
土星绕太阳转一周需要二十九点四六年。()

3. 在括号里填上适当的数。

10 元 5 角 = () 元 12 米 3 分米 = () 米

9 分米 = () 米

4. 在长方形框里写出合适的小数。



5. 在○里填

上“>”“<”或“=”。

3.1○2.9

52 元○5.2 元

0.9○1.0

A.四点六十五

B.四点六五

C.四点六五

3.0.5 米表示()。

A.5 米

B.5 分米

C.5 厘米

4.下面的()在 8 和 9 之间。

A.5.7

B.7.5

C.8.5

四、我会计算。

1.直接写出得数。

$0.5+1.3=$

$1-0.7=$

$8.9-5.2=$

$2.9-1.3=$

$0.2-0.2=$

$1.6-0.6=$

2.列竖式计算。

$10.6+0.4=$

$12-8.7=$

$4.8+2.7=$

五、解决问题。

1.长颈鹿妈妈身高 5.3 米,长颈鹿宝宝身高多少米?

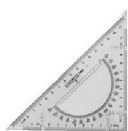
2.



(



故事书3.4元



三角板1.5元



练习本0.8元



铅笔0.5元

1)最便宜的比

最贵的便宜多

少元?

(2)丁丁拿 5 元钱可以买哪三样商品?

参考答案：

一、1.0.8 1.4 5.6

2.7.83 29.46

3.10.5 12.3 0.9

4.0.5 1.2 2.4 2.9

5.> > < < = >

6. $0.5 < 1.5 < 2.3 < 2.4 < 3.5 < 23.1$

7.(答案不唯一)7 5 4

8.2.7

9.3.2 3.5 3.8

二、1.√

2.×

3.×

4.×

三、1.C

2.C

3.B

4.C

四、1.1.8 0.3 3.7 1.6 0 1

2. $10.6 + 0.4 = 11$

$$\begin{array}{r} 10.6 \\ + 0.4 \\ \hline 11.0 \end{array}$$

$12 - 8.7 = 3.3$

$$\begin{array}{r} 12.0 \\ - 8.7 \\ \hline 3.3 \end{array}$$

$4.8 + 2.7 = 7.5$

$$\begin{array}{r} 4.8 \\ + 2.7 \\ \hline 7.5 \end{array}$$

六、 $1.5.3 - 1.4 = 3.9$ (米)

答:长颈鹿宝宝身高3.9米。

2.(1) $3.4 - 0.5 = 2.9$ (元)

答:最便宜的比最贵的便宜2.9元。

(2)(答案不唯一) $1.5 + 0.8 + 0.5 = 2.8$ (元)

$2.8 < 5$

答:可以买三角板、练习本、铅笔。