

第四单元检测卷 (1)

一、计算题。

$48-40=$

$30+5=$

$62-60=$

$50+3=$

$6+50=$

$95-5=$

$7+20=$

$24-4=$

$46-6=$

$2+40=$

$65-5+9=$

$6+90-6=$

$27-7+8=$

$38-8+3=$

$5+40-$

$40=$

二、填空题。

1.计数器上,从右边起,个位是第()位,十位是第()位,第三位是()位。

2.66是()位数,右边的6在()位上,表示(),左边的6在()位上,表示()。

3.75里面有()个十和()个一。

4.69比()大1,比()小1。

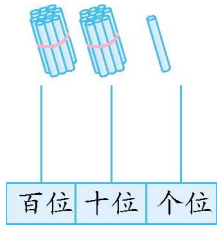
5.56和72,()接近60,()接近70。

6.按规律填数。

6	16	26		46	56
---	----	----	--	----	----

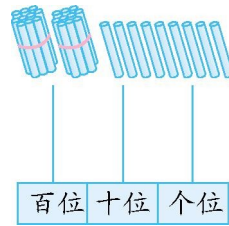
	90		70	60	50
--	----	--	----	----	----

三、在计数器上表示图中的数,再按要求填一填。



写作: _____

读作: _____



写作: _____

四、在○里填上“>”“<”或“=”。

56○65

58○68

55○47

99+1○100

41○29

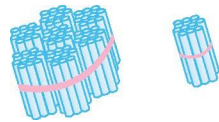
92○69

60+9○99-9

3+50○50+3

五、在你认为合适的答案下面画“√”。

1.



一大捆小棒比一小捆小棒:

多一些	少一些	多得多	少得多

2.小汽车的价钱比小飞机便宜一些,小汽车可能是多少元?



75元	85元	50元

3. 一个书包的价格接近 50 元,可能是多少元?

47 元	62 元	38 元


六、解决问题。

1. 妈妈今年 35 岁,小可今年 5 岁,妈妈比小可大多少岁?

2. 一(1)班男生比女生多 6 人,一(1)班有多少名男生?



3. 箱子能装得下吗?



4. 借书。



参考答案

一、8 35 2 53 56 90 27 20 40 42 69

90 28 33 5

二、1. 一 二 百 2. 两 个 6 个 一 十 6 个 十

3. 7 5 4. 68 70 5. 56 72

6. 36 100 80

三、画图略 21 二十一 29 二十九

四、< < > = > > < =

五、1. 多得多 2. 75 元 3. 47 元

六、1. $35-5=30$ (岁) 2. $20+6=26$ (名)

3. $9+40=49$ (个) $50>49$ 装得下。

4. 86 里面有 8 个十和 6 个一, 所以能借给 8 个班。