

《分类与整理》同步测试


一、把每组中不是同一类的圈上。



二、我会连。





三、整理卡片。






(1) 按动物的种类分一分，在下面涂一涂、填一填。

(2) 按卡片的形状分一分，在下面涂一涂、填一填。



(3) 填表

		
() 张	() 张	() 张

		
() 张	() 张	() 张

(4) 青蛙卡片比奶牛卡片多几张？

$$\square \bigcirc \square = \square \text{ (张)}$$

正方形卡片比圆形卡片少几张？

$$\square \bigcirc \square = \square \text{ (张)}$$

《分类与整理》同步测试 答案

一、把每组中不是同一类的圈上。



考查目的：学会把一些常见的物品进行分类。

答案：第①小题：小花； 第②小题：蛋糕； 第③小题：西瓜

解析：第①小题：小花是植物，其它三样是交通工具；第②小题：蛋糕是食品，其它三样是动物；第③小题：西瓜是水果，其它三样属于服装类。

二、我会连。




考查目的：进一步加深对分类的理解。


答案：蔬菜：辣椒、胡萝卜、白菜、南瓜、西红柿；水果：菠萝、葡萄、火龙果、草莓、香蕉。

解析：略。

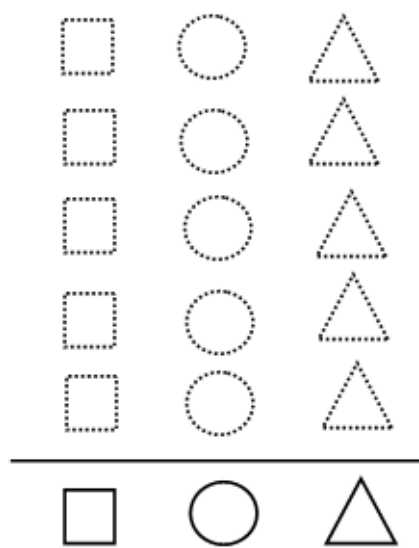
三、整理卡片。



(1) 按动物的种类分一分，在下面涂一涂、填一填。






(2) 按卡片的形状分一分，在下面涂一涂、填一填。



(3) 填表

		
() 张	() 张	() 张

		
() 张	() 张	() 张

(4) 青蛙卡片比奶牛卡片多几张？

$$\square \bigcirc \square = \square \text{ (张)}$$

正方形卡片比圆形卡片少几张？

$$\square \bigcirc \square = \square \text{ (张)}$$

考查目的：按给定的不同标准进行分类急速的巩固练习，体会分类标准与分类结果的关系，并进行简单的计数。

答案：第（1）小题：青蛙卡片 4 张，小鸟卡片 5 张，奶牛卡片 1 张；第（2）小题：正方形卡片 3 张，圆形卡片 4 张，三角形卡片 3 张。

解析：略。