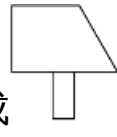
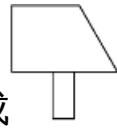
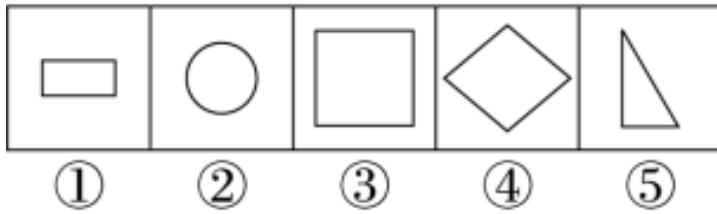


1.2 平面图形的拼组

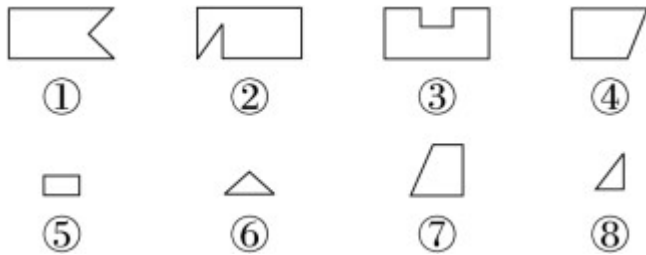


一、从下面的图形中选三个可以拼成  的图形。



应选()、()和()。

二、我会连。(下面的图形是从上面哪个长方形中剪下来的?)



三、我会选。

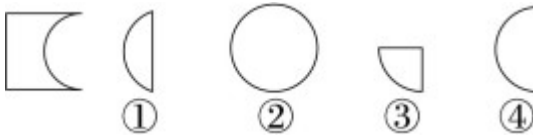
从下面的右边选出 1 个能和左边拼成正方形的图形。(在小题上

画“√”)


(1)



(2)

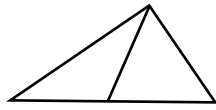


(3)

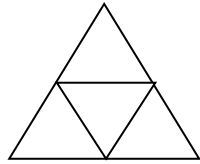


四、数一数。

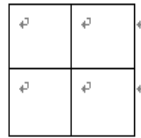
下图有 () 个三角形



下图是由 () 个小三角形拼成的。



下图共有 () 个正方形



五、你能用长方形、正方形、三角形、圆或半圆设计一个美丽的图案吗？试一试。

答案：

一、① ③ ⑤

二、略

三、1 . (1)② (2)① (3)③

四、3 4 5

五、略