

## 一年级第二学期数学期末测试卷(二)

一、我会填。(每空1分,共22分)

1. ( )个十和( )个一组成78, 8个十和( )个十合起来是一百。

2. 66是( )位数,左边的6表示( )个( )。

3. 25连续加8,写出每次的和。

25 33 ( ) ( ) ( )

4. 8元=( )角                      99角=( )元( )角

6角=( )分

5. 把  折成一个正方体,  的对面是( )。

6. 把9角、50元、9元、1元、50角按从大到小的顺序排列是:

( ) > ( ) > ( ) > ( ) > ( )

7. 在5、47、100和59中,和50最接近的是( ), ( )比50小得多, ( )比50大得多。

二、我会辨。(每题1分,共5分)

1. 最大的两位数比最小的三位数少1。 ( )

2. 26比62少得多,54比50多一些。 ( )


3. 减数一定比被减数小。 ( )

4. 一个一个地数,从43数到50,一共数了7个数。 ( )

5. 一张  可以换4张 。 ( )

三、我会选。(每题1分,共5分)

1. 下面的物品中, ( ) 最贵。



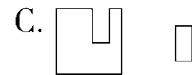
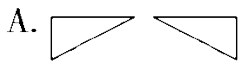
2. 46 50 54 58  66 70,  里应填( )。

A. 60

B. 62

C. 64

3. 下面的图形能拼成正方形的是( )。



4. 用 3 个能摆( ) 个不同的数。

A. 3

B. 4

C. 5

5. 下面各数中, 与 90 最接近的是( )。

A. 86

B. 89

C. 92

四、我会算。(1 题 12 分, 2 题 9 分, 共 21 分)

1. 口算。

$40 + 30 =$

$26 + 50 =$

$58 - 8 + 45 =$

$85 - 50 =$

$98 - 6 =$

$34 + (19 - 9) =$

$41 - 7 =$

$5 + 60 =$

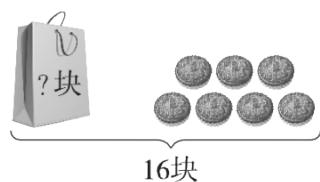
$80 - (46 - 6) =$

$53 - 9 =$

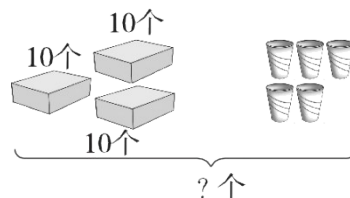
$92 + 8 =$

$57 + 8 - 6 =$

2. 看图列式计算。







$\square \bigcirc \square = \square \quad ( \quad )$



$\square \bigcirc \square = \square \quad ( \quad )$

五、填一填。(8分)

				
原有	42 辆	( ) 艘	65 架	( ) 只
卖出	20 辆	45 艘	( ) 架	25 只
剩下	( ) 辆	8 艘	10 架	20 只

六、解决问题。(2题 12分，其余每题 5分，共 27分)

1. 兰兰和她的两个好朋友一起去植物园，门票 6 元一张。她们买门票要花多少钱？

2.



(1) 小明和小刚一共买了多少瓶？

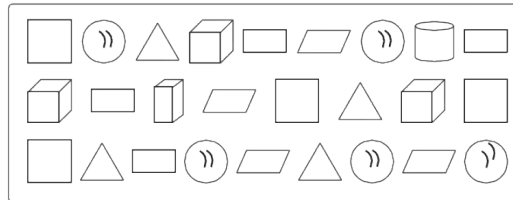
(2) 小芳比小明少买了多少瓶？

(1) 再提一个数学问题并解答。

3. 学校体育室有 26 个足球和 18 个篮球，分给二年级 9 个足球。体育室还有多少个足球？

4. 两个房间一共铺了 45 块红色瓷砖，小房间铺了 20 块。大房间铺了几块？

七、把下面的图形分类整理，并回答问题。(每题 4 分，共 12 分)



1. 按形状分一分，涂一涂，再填一填每种图形各有几个。


---

( ) 个	( ) 个	( ) 个	( ) 个	( ) 个	( ) 个	( ) 个	( ) 个

2. 如果把这些图形分成两组，可以怎样分？把分组的结果表示出来。

个数		

3. 请你提出一个数学问题并解答。

---

## 答案

一、1. 7 8 2 2. 两 6 十

3. 41 49 57 4. 80 9 9 60

5. ○ 6. 50元 9元 50角 1元 9角

7. 47 5 100

二、1. √ 2. √ 3. ×

4. × [点拨]一共数了8个数。

5. √

三、1. B 2. B 3. C 4. B 5. B

四、1. 70 76 95 35 92 44 34 65 40 44

100 59

2.  $16 - 7 = 9$ (块)  $30 + 5 = 35$ (个)

五、22 53 55 45

六、1.  $6 + 6 + 6 = 18$ (元)

2. (1)  $21 + 13 = 34$ (瓶)

(2)  $13 - 9 = 4$ (瓶)

(3) 小明比小刚少多少瓶？

---

$21 - 13 = 8(\text{瓶})$  (答案不唯一)

3.  $26 - 9 = 17(\text{个})$

4.  $45 - 20 = 25(\text{块})$

七、1. 涂一涂略 4 4 4 4 3 1 1 5

2.

	平面图形	立体图形
个数	16	10

(答案不唯一)

3. 正方形和长方形一共有几个？

$4 + 4 = 8(\text{个})$  (答案不唯一)