





第一单元过关检测卷

一、填一填。(每空 2 分，共 28 分)

1. 下面是星星小学二(1)班同学喜欢的乐器情况。(每人只选一种乐器)

乐器种类				
人数	正正一	正正	正正正	正一

(1)二(1)班同学喜欢小提琴的有()人，喜欢钢琴的有()人。

(2)喜欢葫芦丝的人数比喜欢二胡的多()人。

(3)二(1)班一共有()人，如果班主任想选一种乐器作为本班的特色，选()最合适。

2. 下面是二(2)班同学一星期阅读课外读物的册数情况。

《少儿文艺》	《脑筋急转弯》	《童话故事》	《漫画》
☆ ☆	△ △ △	○ ○	√ √
☆ ☆	△ △ △	○ ○	√ √
☆	△ △ △	○ ○	√ √
☆		○ ○	√ √
		○	

(1)把上面的统计结果填入下表。

课外读物	《少儿艺》	《童话故	《漫	《脑筋急转
------	-------	------	----	-------




		事》	画》	弯》
册数				

(2)二(1)班同学最喜欢读(),读的《少儿文艺》比《漫画》少()册。

(3)全班一共读了()册书。如果要在班上办个图书角,应该多买(),少买()。

二、选一选。(每题 2 分,共 8 分)

下面是 2016 年 6 月份南京的天气情况。

	正正
	正正正一
	正

1. 这个月共有()天。

- A . 28 B . 30 C . 31

2. 雨天比阴天多()天。

- A . 6 B . 4 C . 12

3. ()的天数最多。

- A . 阴天 B . 雨天 C . 晴天

4. 根据天气情况, 这个月最不适合做的事情是()。


A. 晾晒

B. 植树

C. 上学

三、为了增强同学们的环保意识, 红星小学二(1)班举行了收集旧电

池活动。(1题6分, 其余每题2分, 共10分)



1. 把下表补充完整。

姓名	李明	张欢	刘丽
节数			

2. ()收集的旧电池最多, ()收集的旧电池最少。

3. 请你根据上面的统计结果提出其他数学问题并解答。

四、下面是小明记录的本班同学最喜欢吃的蔬菜情况。(1题8分,

2题2分, 共10分)

西红柿	正正正正正T
辣椒	正
茄子	正F
白菜	正正

1.把记录的结果填在下表中。

蔬菜	西红柿	辣椒	茄子	白菜
人数				

2.小红因为生病没有参加这次统计，如果她也参加了这次统计，同学们最喜欢吃的蔬菜会发生改变吗？

五、下面是同学们在十字路口 5 分钟内记录的通过的汽车的种类和辆数。(1 题 4 分，2、5 题每题 3 分，其余每题 2 分，共 14 分)

种类	小轿车	出租车	公交车	货车
辆数	正正正	正	T	F

1.把上面的统计结果填入下表。

种类	小轿车	出租车	公交车	货车
辆数				

2.通过的()最多,()最少,它们相差()辆。

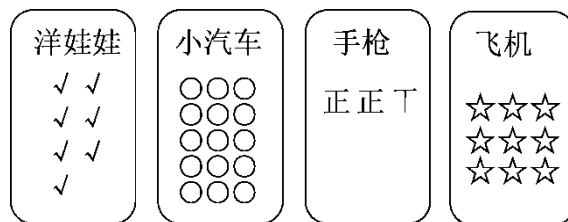
3.出租车比货车多()辆。

4.如果再通过1辆车,最有可能是()。

5.你还能提一个数学问题并解答吗?

六、下面是二(2)班同学最喜欢的玩具统计情况。(1题4分,3题

6分,其余每题2分,共14分)【导学号78542001】



1.把上面的统计结果填入下表。

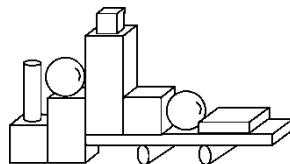
玩具	洋娃娃	小汽车	手枪	飞机
人数				

2. 二(2)班同学最喜欢()的人数最多, 最喜欢()的人数最少。





3. 你最喜欢的玩具是(), 二(2)班喜欢这种玩具的有()人, 这个班一共有()人。





4. 如果你是商店老板, 应多购进什么玩具? 为什么?

七、我会数, 我会填。(1题8分, 其余每题4分, 共16分)



1. 完成下表。

			
()个	()个	()个	()个

2. 比多()个, 比少()个。

3. 你还能提出其他数学问题并解答吗?

答案

一、1. (1)11 9 (2)9 (3)41 葫芦丝

2. (1)6 11 8 9

(2)《童话故事》 2

(3)34 《童话故事》 《少儿文艺》

二、1. B 2.C 3.B 4.A

三、1. 13 21 27

2. 刘丽 李明

3. 张欢比刘丽少收集几节旧电池？

$$27 - 21 = 6(\text{节})$$

点拨：答案不唯一，只要问题合理，解答正确即可。

四、1. 27 4 8 11

2. 同学们最喜欢吃的蔬菜不会发生改变。

五、1.

种类	小轿车	出租车	公交车	货车
辆数	15	5	2	3

2. 小轿车 公交车 13

3.2

4.小轿车

5.略，答案不唯一。

六、1.7 15 12 9

2.小汽车 洋娃娃

3.小汽车 15 43

点拨：前两空答案不唯一。

4.小汽车。因为最喜欢小汽车的同学多，所以应多购进

小汽车。

七、1.3 4 3 2

2.1 1

3.略，答案不唯一。