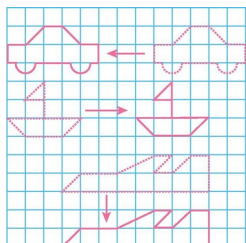


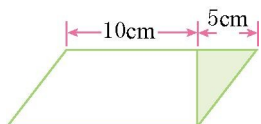
第七单元检测(1)

一、填空题。

1. 等边三角形有()条对称轴,等腰三角形有()条对称轴,等腰梯形有()条对称轴。
2. 平移作图时,要找准平移方向,还要数清平移的()。
3. 物体平移后()不变,改变的是()。
- 4.



- 小汽车向()平移了()格。
 小轮船向()平移了()格。
 小飞机向()平移了()格。
5. 阴影部分向左移动()厘米,就可以使平行四边形变成长方形。



二、选择题。(将正确答案的序号填在括号里)

1. 下列图案中,不是轴对称图形的有()个。



- A.1 B.2 C.3 D.4

2. 下面各组图形中经过平移可以重合的是()。



3. 下列图形中,有 2 条对称轴的是()。

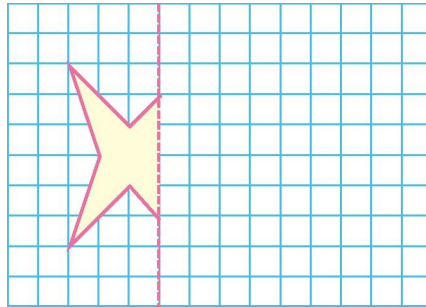


4. 这个图案是从()纸张上剪下来的。



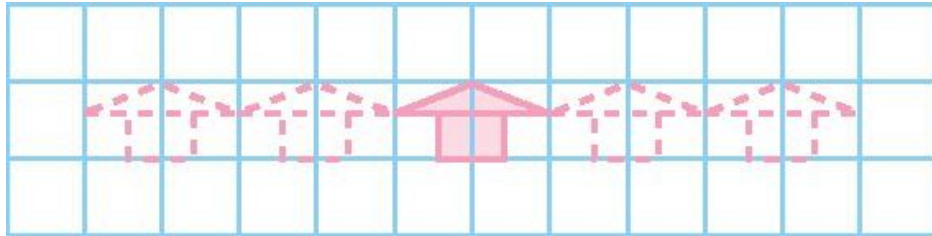


三、画出下面图形的轴对称图形。



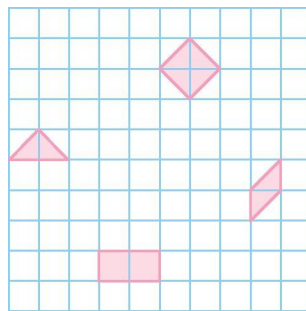
四、操作题。

1. 把小房子向左移动 2 格得到的图形涂红色, 向右平移 4 格得到的图形涂黄色。



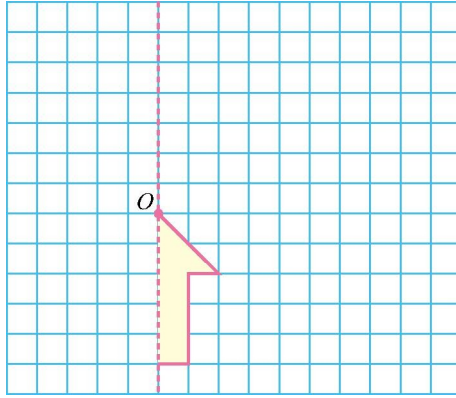
2. 按要求画一画。

- (1) 把图中下面的长方形向上平移 2 格。
- (2) 把图中左面的三角形向右平移 3 格。
- (3) 把图中上面的正方形向下平移 4 格。
- (4) 把图中右面的平行四边形向左平移 6 格。



五、按要求作图。

1. 画出轴对称图形的另一半。
2. 把整个图形向右平移 9 格。



参考答案

一、1. 3 1 1 2. 距离 3. 大小、形状 位置

4. 左 8 右 7 下 3 5. 15

二、1. C 2. B 3. B 4. D

三、略

四、1. 提示:第二个虚线图形涂红色,第四个虚线图形涂黄色 2. 略

五、略