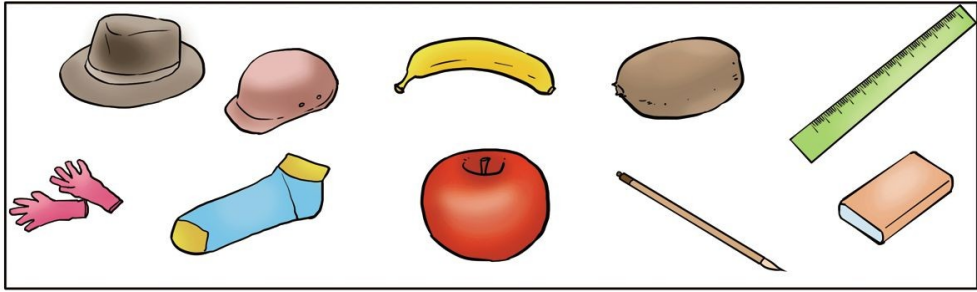


第三单元检测卷 (2)


一、把同类的物品圈起来。



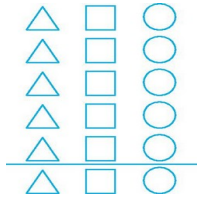
二、连一连。



三、分类整理下面的图形。



1. 按形状分一分,涂一涂。

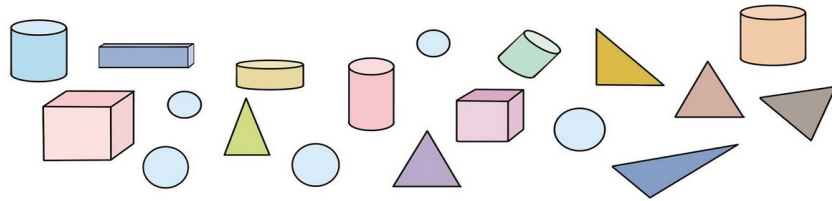


△ () 个 □ () 个 ○ () 个

2. 按图形内的点数分。

	·	· ·	· · ·
个数			

四、给这些图形分分类。



1.按不同的形状分一分,填写下表。

	圆柱体	长方体	圆	三角形
个数				

2.如果

3.根据 1 题中表格分类的结果回答问题。

_____的个数最多,_____的个数最少;_____的个数比_____的个数多 3 个。

五、某城市 12 月份的天气情况如下表。

1	2	3	4	5	6	7	8	9	10	11
12	13	14	15	16	17	18	19	20	21	22
23	24	25	26	27	28	29	30	31		

1. 根据上表填写下表。

				
天数				

2. 根据上面的统计结果回答问题。

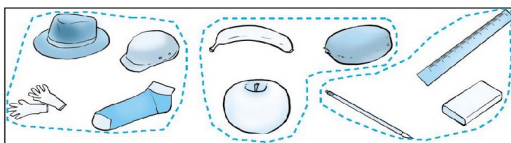
(1)  比  多几天?

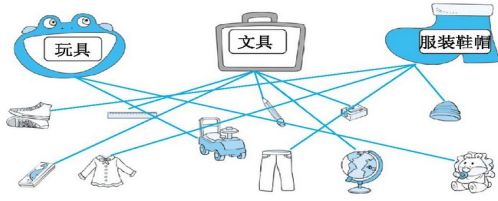
$$\square \bigcirc \square = \square \text{ ()}$$

(2)  比  少几天?

$$\square \bigcirc \square = \square \text{ ()}$$

参考答案





二、

三、1.4 4 5 涂色略。 2.4 4 5

四、1.5 3 5 6 2. 略

3.三角形 长方体 三角形 长方体

五、1.10 13 4 4

2.(1) $10-4=6$ (天) (2) $10-4=6$ (天)