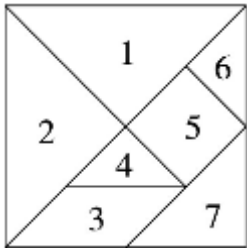


1.3 认识七巧板

一、神奇的七巧板。



七巧板是由()种图形组成的，其中有()个三角形，()号和()号图形，()号和()号图形是完全一样的。

二、下面的图形都是七巧板拼成的，像什么？试着拼拼看。

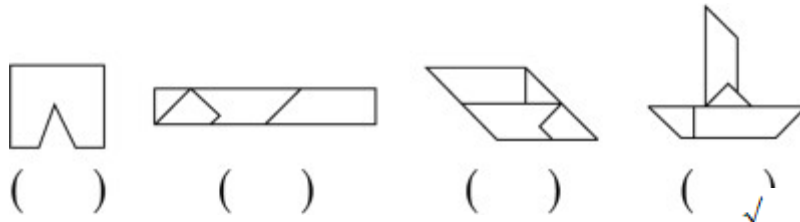


三、我会选。

有一种四巧板，由4块拼板组成，各块的形状如下图。



下面哪些图形是由四巧板拼成的？(在下面的括号里画“√”)



四、用七巧板拼出下面图形。



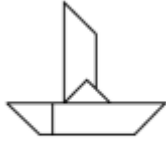
五、用七巧板中的 5 块板拼出一个正方形，快来试一试吧！

六、发挥你的想象力，用七巧板拼出一个你最喜欢的图形，并展示给同学。

答案：

一、三 5 1 2 4 6

二、鹅 猫



三、(√)

四、略

五、



六、略