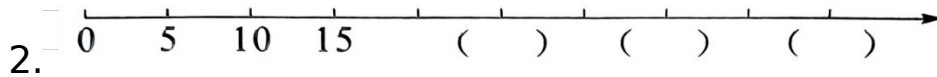


2023年苏教版小学一年级数学下册期末测试卷

(考试时间:40分钟 满分:100分)

一、填空。(每空1分,共26分)

1.7个十和8个一合起来是(),比60小1的数是()。



3.70前面的一个数是(),后面的一个数是()。

4.80分=()角 36角=()元()角

100分=()元 5元4角=()角

2角6分=()分 60角=()元

5.在“○”里填“+”或“-”。

$8 \bigcirc 4 < 6$

$16 \bigcirc 4 = 20$

$13 \bigcirc 5 = 6 \bigcirc 2$

6.()个一是100,个位上是5的两位数有()个。

7.有4和5组成的两位数是()和(),其中()是单

数。

8.在 65、56、70、37 中,最接近 60 的数是(),比 65 大的数

是(),比 56 小的数是()。

二、计算。(第 1 题 16 分,第 2 题 18 分,共 34 分)

1.直接写出得数。

$26+8=$

$35-8=$

$22-20=$

$32+20-5=$

$42+7=$

$47+6=$

$61+30=$

$63-30+7=$

$5+86=$

$75-7=$

$70-8=$

$25+6-30=$

$29+20=$

$43-5=$

$72-9=$

$12+8+18=$

2.用竖式计算。

$55-32=$

$68-29=$

$5+47=$

$80-38=$

$46+24=$

$54-6=$

三、把表格填写完整。(共6分)

			
原有	40 棵	() 个	56 个
卖出	8 棵	35 个	() 个
还剩	() 棵	7 个	20 个

四、选择。(在合适的答案下面打“✓”)(每题2分,共8分)

1.63 最接近几十?

50	60	70

2. 哪道算式的得数是八十多？

$75+3$	$75+5$	$75+7$

3. 一辆玩具汽车 36 元，小明带的全是 10 元的人民币，他至少要付

几张？

3 张	4 张	5 张

五、应用知识，解决问题。(第 3 题 6 分，其余每题 5 分，共 26 分)

1.



52元



46元



34元



45元



41元

买1件上衣和1条裤子最少要花多少元?


$$\square \bigcirc \square = \square (\quad)$$

2.一本80页的故事书,小兰再看8页就全看完了。小兰已经看了多

少页?

$$\square \bigcirc \square = \square (\quad)$$

3.



(1)公鸡和母鸡一共有多少只?

$$\square \bigcirc \square = \square ()$$

(2)鸡比鸭多多少只?

$$\square \bigcirc \square = \square ()$$

4.



48元




?元

买1架玩具飞机，带60元钱够吗?

$$\square \bigcirc \square = \square ()$$

5.体育器材室里还有17个足球。



参考答案

一、 1.78 59

2.25 35 45

3.69 71

4.8 3 6 1 54 26 6

5.— — — +

6.100 9

7.45 54 45

8.56 70 37

三、32 42 36

四、1.60 2.75+7 3.5元 10元 4.4张

五、 $1.34+41=75$ (元)

$2.80-8=72$ (页)

3.(1) $8+24=32$ (只) (2) $32-20=12$ (只)

4. $48+16=64$ (元) 不够

5. $17+8=25$ (个)