

第6单元测试题

卷面（3分），我能做到书写端正，卷面整洁（时间：40分钟 满分：100分）

知识技能（65分）

一、我会算。（共22分）

1.看谁算得又对又快。（10分）

$26+8=$ $95-30=$

$80-30=$ $89-7=$

$46+7=$ $41-2=$

$71-8=$ $53-6=$

$9+27=$ $67-20=$

2.计算。（12分）

$27+6+8=$ $47-6+40=$

$70+18-60=$ $81-7-30=$

$53-8-30=$ $40+37-9=$

二、在○里填上“>”“<”或“=”。（8分）

$45+4$ ○ 50 $82-9$ ○ 61

$93-7$ ○ 23 $68+8$ ○ 75


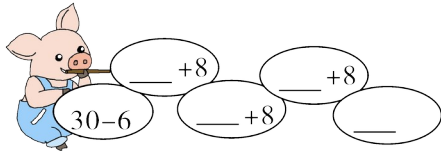
$32+9$ ○ $43-6$

$25+50$ ○ $95-9$


$76-6$ ○ $66+5$

$47+4$ ○ $51-2$

三、填一填。（8分）

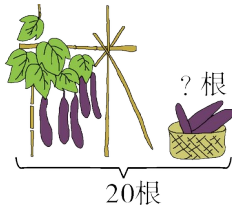


四、连一连，看看小猫能吃到哪条鱼。(12分)



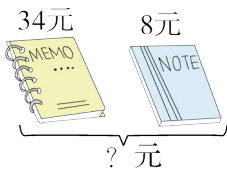
五、看图列式计算。(15分)

1.





$$\square \bigcirc \square = \square \text{ (根)}$$

2.



$$\square \bigcirc \square = \square \text{ (元)}$$

3.一共有多少只  ?



$$\square \bigcirc \square \bigcirc \square = \square \text{ (只)}$$

生活运用 (35分)

六、解决问题。(共35分)

1. 还剩多少个松塔? (6分)



$$\square \bigcirc \square = \square \text{ (个)}$$

2. 再过5年, 奶奶比小军大多少岁? (6分)



$$\square \bigcirc \square = \square \text{ (岁)}$$

答: 5年后奶奶比小军大 岁。

3. 小兔运苹果。(6分)



小白兔运了3筐，每筐有9个，一共运了多少个苹果？


4. (7分)



摆3条小鱼，还剩多少根小棒？



5.踢毽子。(10分)



(1) 小芳比小红多踢了多少个？

(2) 小刚比小芳少踢了多少个？

(3) 你还能提出什么数学问题吗？

【好学案·第6单元测试题】

一、1. 34 65 50 82 53 39 63 47 36 47

2. 41 81 28 44 15 68

二、< > > > > < < >

三、24 32 40 48

70 63 56 49

五、1. $20 - 5 = 15$

2. $34 + 8 = 42$

3. $6 + 6 + 6 = 18$

六、1. $93 - 70 = 23$

2. $65 - 7 = 58$ 58

点拨：本题有一个影响做题的条件，就是“5年后”，要注意的是奶奶的年龄长了5岁，小军的年龄其实也增长了5岁，不要被“5年后”这个条件所迷惑。

3. $9 + 9 + 9 = 27$ (个)

口答：一共运了27个苹果。

4. $7 + 7 + 7 = 21$ (根)

$30 - 21 = 9$ (根)

口答：还剩9根小棒。

5. (1) $48 - 30 = 18$ (个)

口答：小芳比小红多踢了18个。

(2) $48 - 9 = 39$ (个)

口答：小刚比小芳少踢了39个。

(3) 小芳、小红和小刚一共踢了多少个？(答案不唯一)

