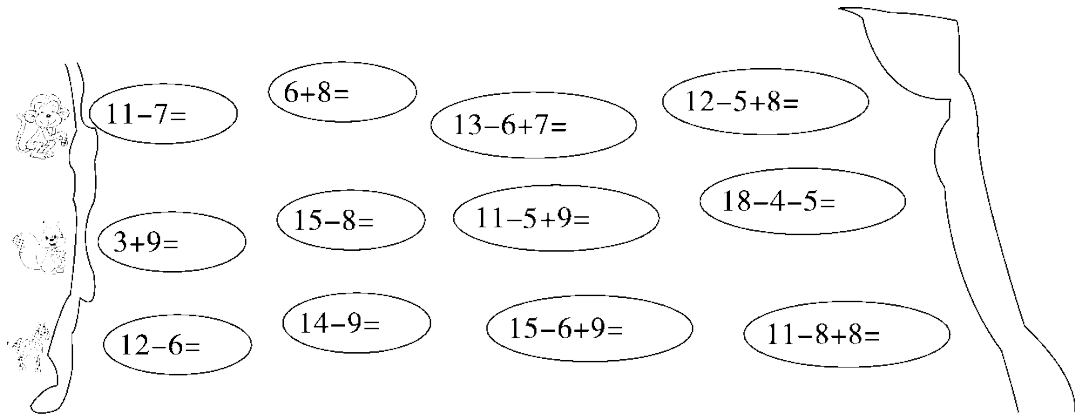


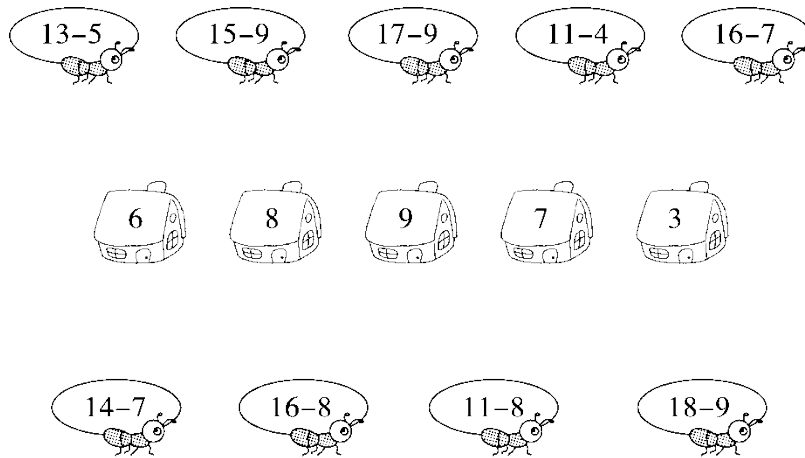
第2单元过关检测卷

一、我会算。(共31分)

1. 看谁先过河。(12分)



2. 送蚂蚁回家。(9分)



3. 在 里填上合适的数。(6分)

$11 - \text{heart} = 5$

$12 - \text{heart} = 8$

$\text{heart} - 6 = 6$

$14 - \text{heart} = 5$

$\text{heart} + 8 = 17$

$15 - 6 = \text{heart}$

4. 在 里填上“>”“<”或“=”。(4分)

$12 - 9 \bigcirc 4$

$13 - 9 \bigcirc 5$

$12 - 7 \bigcirc 13 - 8$


$10 + 2 \bigcirc 17 - 8$

二、猜猜小动物各是几？(每题 2 分，共 8 分)


1.  我比12多3。
()


2.  我比12少5。
()


3.  8比我少6。
()

4.  15比我多7。
()

三、先填一填，再根据加法算式写出两道减法算式。(9分)


 $8 + 5 = ()$



 $() + 6 = 14$


 $7 + () = 12$

四、小猫钓的可能是哪两条鱼？(连一连)(4分)



我钓的两条鱼的差是7。



五、下面每组算式的得数相同，你能填出被遮住的数吗？(6分)

$$17-9$$

$$\text{苹果} + 6$$

$$6+9$$

$$\text{苹果} - 8$$

$$5 + \text{苹果}$$




$$13-5$$

$$11 - \text{苹果}$$

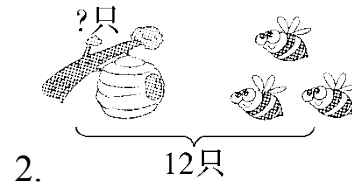
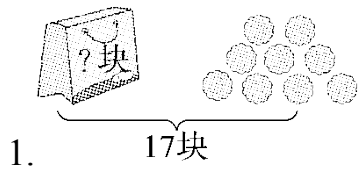
$$\text{苹果} + 8$$

$$\text{苹果} - 2$$

六、完成表格。(9分)

	原有	卖出	还剩
	12 台	5 台	() 台
	() 辆	9 辆	9 辆
	15 块	() 块	8 块

七、看图列式。(每题3分，共6分)




$$\square \bigcirc \square = \square \quad (\quad)$$

$$\square \bigcirc \square = \square \quad (\quad)$$

八、解决问题。(共 27 分)

1. (5 分)

房子里原来有 11 只小猪，跑出来 3 只小猪，还剩下几只小猪？



2. 下面是 2016 年里约奥运会的各国铜牌数。(8 分)

法国	意大利	德国
14 块	8 块	15 块

(1) 法国的铜牌比意大利多几块？

$$\square \bigcirc \square = \square \quad (\quad)$$

(2) 你能再提一个数学问题并解答吗？

$$\square \bigcirc \square = \square ()$$

3. (5分)



我们两个一共捡了13片树叶，其中有7片绿叶。



我捡了8片树叶。

小明捡了几片树叶？

$$\square \bigcirc \square = \square ()$$

4. (9分)

我买了9瓶酸奶。



我买了13瓶。



我买了5瓶。



(1)小雪比小芳多买了几瓶？

$$\square \bigcirc \square = \square ()$$

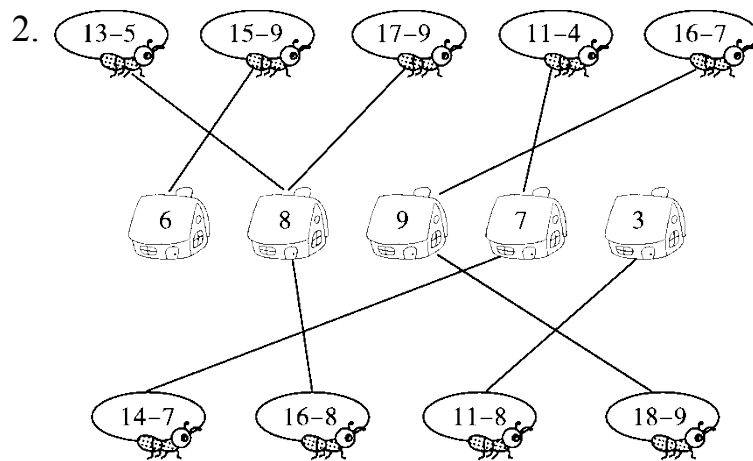
(2)小丽比小雪少买了几瓶？

$$\square \bigcirc \square = \square ()$$

(3)请你提出一个数学问题并解答。

答案

一、 1.4 14 14 15 12 7 15 9 6 5 18 11



3.6 4 12 9 9 9

4. < < = >

二、 1.15

2.7

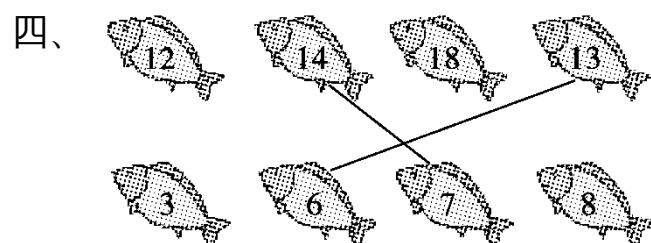
3.14

4.8

三、 $8+5=13$ $13-5=8$ $13-8=5$

$8+6=14$ $14-8=6$ $14-6=8$

$7+5=12$ $12-5=7$ $12-7=5$



五、16 3 2 3 7 17

六、7 18 7

七、1. $17 - 9 = 8$ (块)

2. $12 - 3 = 9$ (只)

八、1. $11 - 3 = 8$ (只)

2.(1) $14 - 8 = 6$ (块)

(2)答案不唯一，如：意大利的铜牌比德国少几块？

$15 - 8 = 7$ (块)

3. $13 - 8 = 5$ (片)

4.(1) $13 - 5 = 8$ (瓶)

(2) $13 - 9 = 4$ (瓶)

(3)答案不唯一，如：小芳和小丽一共买了多少瓶？

$5 + 9 = 14$ (瓶)