

2016-2017 学年下学期重点小学一年级期中检测卷

班级： 姓名： 满分：100分 考试时间：90分钟

题序	第一题	第二题	第三题	第四题	第五题	第六题	第七题	第八题	第九题	总分
得分										

一、填一填。(16分)

- $\triangle \square \bigcirc \bullet \Rightarrow \triangle \triangle \square$, 排在最前面的是(), 排在最后面的是()。●的前面有()个图形, 后面有()个图形。
- 四十五写作:() 六十写作:()
89 读作:() 100 读作:()
- 100 里面有()个十, 有()个一; 7 个十和 8 个一是(); 65 里面有()个十和()个一。
- 和 50 相邻的两个数是()和(); 30 前面的一个数是()。

二、在○里填上“>”“<”或“=”。(8分)

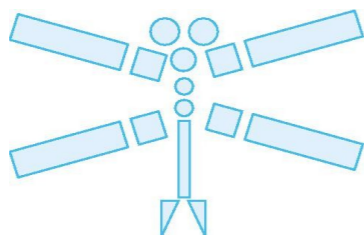
59 ○ 60 49 ○ 94 17-8 ○ 9 7+9 ○ 19-3

5+8 ○ 20-4 13-7 ○ 5+4 13-8 ○ 7 15+3 ○ 19-3

三、直接写出得数。(15分)

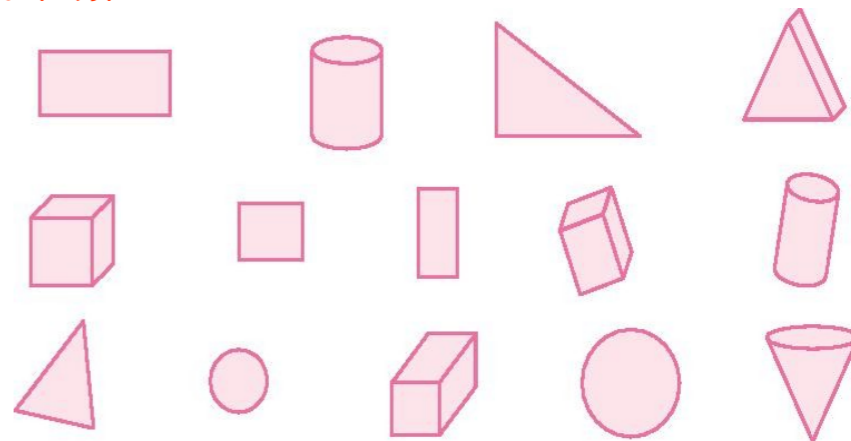
40+8= 7+6= 60+8= 13-9= 58-8=
17-9= 12-5= 35-5= 15-7= 13-6=
7-6+6= 22-2+3= 13-0+0= 5+6-8= 44-40=

四、数一数。(8分)



□有()个。 □有()个。
△有()个。 ○有()个。

五、分一分。(5分)



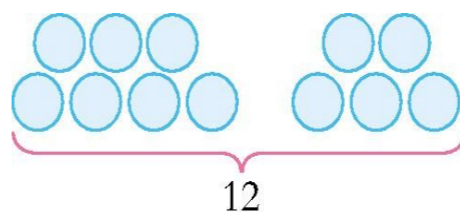
个数		
----	--	--

六、用 7、9、16 写出两道加法算式和两道减法算式。(8分)

() + () = () () + () = ()
() - () = () () - () = ()


七、看图列算式。(8分)

1.



() - () = ()

2.



() - () = () (个)

八、在你认为合适的答案下面画“0”。(6分)

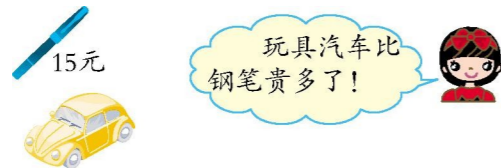
1.草莓 80 个。



苹果可能有多少个?

20 个	65 个	90 个
<input type="checkbox"/>	<input type="checkbox"/>	<input type="checkbox"/>

2.



一辆玩具汽车多少钱?

8 元	16 元	65 元
<input type="checkbox"/>	<input type="checkbox"/>	<input type="checkbox"/>

九、解决问题。(26分)

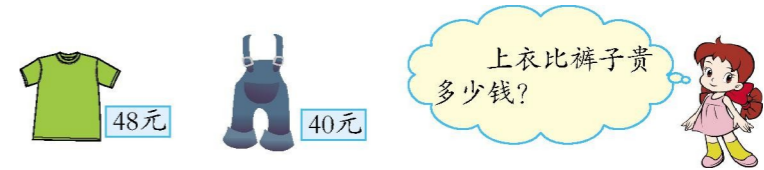
1.(12分)



(1)小光比小明大几岁?

(2)小光比小丽大几岁?

2.(7分)



3.一年级两个班植树,一(1)班植了 35 棵,一(2)班植的比一(1)班少 5 棵。一(2)班植了多少棵?(7分)

期中检测答案

一、1. \triangle \square 3 4 2. 45 60 八十九 一百

3. 10 100 78 6 5 4. 49 51 29

二、< < = = < < < >

三、48 13 68 4 50 8 7 30 8 7 7 23 13

3 4

四、5 4 2 5

五、

	平面图	立体图
	形	形
个数	7	7

六、7 9 16 9 7 16 16 9 7 16 7 9

七、1. $12-7=5$ 或 $12-5=7$ 2. $13-4=9$

八、1. 20个 2. 65元

九、1. (1) $13-6=7$ (岁) (2) $13-7=6$ (岁)

2. $48-40=8$ (元) 3. $35-5=30$ (棵)