

---

## 第七单元达标测试卷

一、填一填。(每空1分,共31分)

1. 10个十是( ), 10个( )是一千, 10个一千是( )。

2. 算盘上一个上珠表示( ), 一个下珠表示( )。

3. 9999添上1是( ), 10000里面有( )个100, ( )个1000。

4. 7690是由( )个千, ( )个百, ( )个十组成的。

5. 按规律填数。

(1) 3345、3346、( )、3348、( )、( )。

(2) 450、550、( )、750、( )、( )。

(3) 2708、3708、( )、5708、( )、( )。

6. 长江是亚洲第一长河, 全长 6297 千米, 横线上的数读作: ( ) ,

全世界的鸟类有 九千零八 种, 横线上的数写作: ( ) 。

7. 在  $\bigcirc$  中填入“>”“<”或“=”。

---

 $4068 \bigcirc 3468$

$598 \bigcirc 1209$

$5000 + 600 \bigcirc 4000$

$200 + 900 \bigcirc 1100$

$8. 7009 = ( \quad ) + ( \quad )$

$8670 = ( \quad ) + ( \quad ) + ( \quad )$

二、判断。(每题1分,共5分)

1. 一个数的末尾不管有几个0,都只读一个“零”。 ( )

2. 一个数的最高位是万位,这个数是五位数。 ( )

3. 一个数由5个千和5个一组成,这个数是505。 ( )

4. 6666中的每个6表示的意义一样。 ( )

5. 由1、0、0、8组成的只读一个零的四位数只有1008。 ( )

三、选一选。(每题1分,共5分)

1. 下面的数中,只读一个“零”的是( )。

①3000

②3006

③3600

2. 最大的四位数与最小的五位数相差( )。

①1

②10

③100

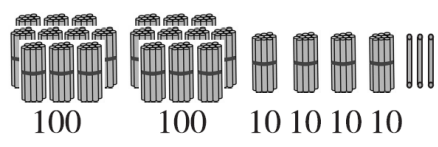
3. 在数位顺序表中,右起第四位是( )位。

①千

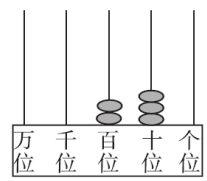
②十

③百

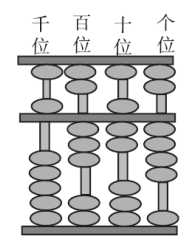
4. 下面各种形式表示的数中，哪个数中的3表示3个百？你的选择是( )。



①



②



③

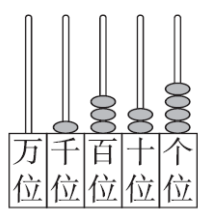
5. 下列各数最接近 7000 的是( )。

①6997

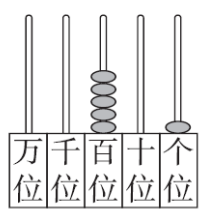
②6998

③7001

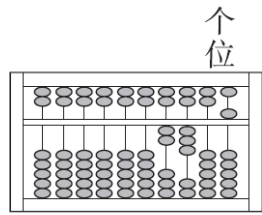
四、写出下面各数。(8分)



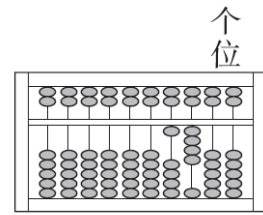
\_\_\_\_\_



\_\_\_\_\_



\_\_\_\_\_



\_\_\_\_\_

五、算一算。(6分)

$5000 - 2000 =$        $1200 - 700 =$        $1500 - 600 =$        $150 - 90 =$

$6000 - 3000 =$        $500 + 800 =$        $3000 + 700 =$        $4600 + 300 =$

$2300 - 800 =$        $2500 - 1000 =$        $6600 - 500 =$        $3600 - 700 =$

六、在  里填上适当的数字。(8分)

$$37\square < 371 \quad \square 65 > 766 \quad 485 < 4\square 5 \quad 1000 < \square 000$$

$$825 > 8\square 9 \quad 999\square > 9998 \quad 134\square > 1340 \quad 695 > 6\square 4$$

七、用按要求组数。(每题 2 分, 共 4 分)

1. 组成只读一个零的四位数:( )。

2. 组成不读零的四位数:( )。

八、解决问题。(1 题 3 分, 2 题 6 分, 其余每题 8 分, 共 33 分)

1. 下面是某市的几个学校的学生人数情况, 在表中填上学校名称。



朝阳小学的人数和南京路小学的人数差不多, 但不是最少。

小红

希望小学的人数比南京路小学的人数多得多。



小明

986 人	1068 人	2569 人

2. 明明在春节积攒了 400 元的压岁钱。

我用压岁钱已经买了一套故事书。



明明

我还想买一套连环画。



200 元/套

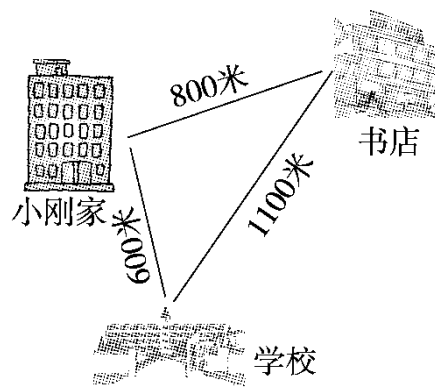


270 元/套

明明剩下的钱够吗? 如果不够, 你建议明明至少还要积攒多少钱?


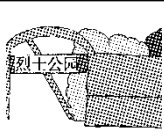

---

3 . (1)小刚从家到学校再到书店一共多少米？



(2)学校到书店比书店到小刚家多多少米？

4 . (变式题)某天到以下各景点游玩的人数如下表。

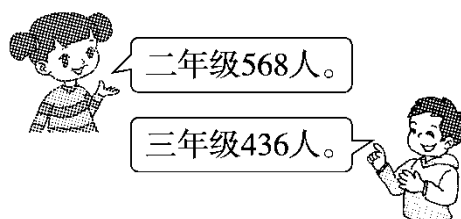
 1204人	 6028人	 3915人
--	--	---

(1)游玩的人数各接近几千人？

(2)游玩人数最多的比最少的大约多几千人？

5. 希望小学给二、三年级的每个同学准备 1 个苹果作为爱心早点。

(1)如果准备 900 个苹果，够吗？



(2)如果准备 1100 个，够吗？



---

## 答案

一、1.一百 一百 一万 2.5 1

3. 10000 100 10 4.7 6 9

5. (1)3347 3349 3350 (2)650 850 950

(3)4708 6708 7708

6. 六千二百九十七 9008

7. > < > = 8.7000 9 8000 600 70

二、1.× 2.√ 3.× 4.× 5.×

三、1.② 2.① 3.① 4.③ 5.③

四、1324 501 2305 1400

五、3000 500 900 60 3000 1300 3700 4900 1500 1500

6100 2900

六、 $37 < 371$

$65 > 766$ (答案不唯一) 易错点拨：十位相同，个位  $5 < 6$ ，只有

百位比7大才行，填8、9。

$485 < 45$  易错点拨：百位相同，个位相同，十位只能填9。

---

$1000 < 000$ (答案不唯一) 易错点拨：千位比1大都行，填2~9。

$825 > 89$ (答案不唯一) 易错点拨：百位相同，个位 $5 < 9$ ，十位只能填比2小的数，填0，1。

$999 > 9998$  易错点拨：千位、百位，十位相同，个位只能大于8，填9。

$134 > 1340$ (答案不唯一) 易错点拨：千位、百位、十位相同，个位一定填大于0的数，填1~9。

$695 > 64$  (答案不唯一)易错点拨：百位相同，个位 $5 > 4$ ，十位填0~9都可以。

七、1.6009，9006，6090，9060 2.9600，6900

八、1.

南京路小学	朝阳小学	希望小学
986人	1068人	2569人

$2.400 - 200 = 200$ (元)  $200 < 270$

剩下的钱不够。  $270 - 200 = 70$ (元)

---

3 . (1) $600 + 1100 = 1700$ (米) (2) $1100 - 800 = 300$ (米)

4 . (1)一千人 六千人 四千人 (2)五千人。

5 . (1) $568 > 500$   $436 > 400$   $568 + 436 > 900$  不够。

(2) $568 < 600$   $436 < 500$   $568 + 436 < 1100$  够。