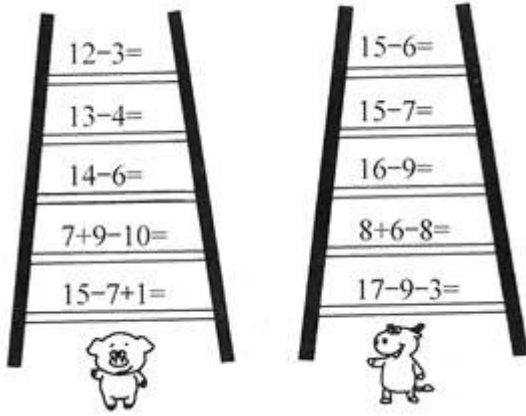


2.32 例5 解决问题

一、爬杆比赛。

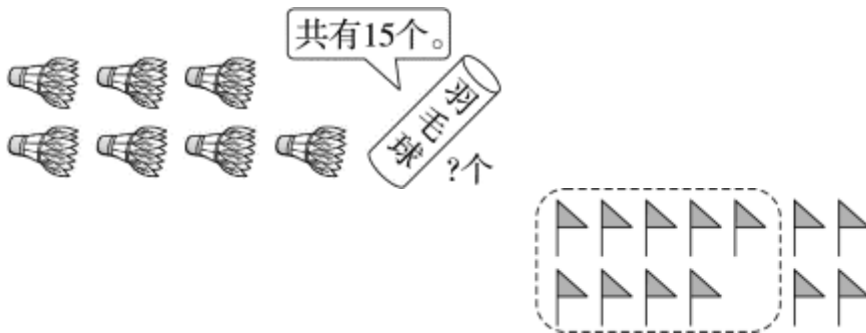


二、看图列式计算。



$$\square \bigcirc \square = \square$$

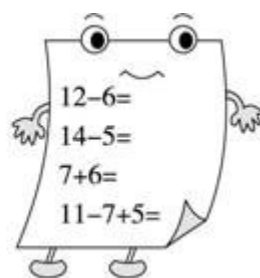
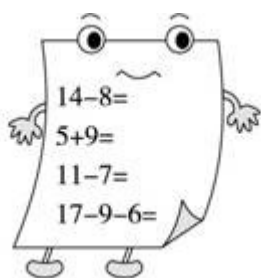
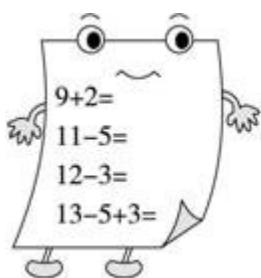
$$\square \bigcirc \square = \square$$



$$\square \bigcirc \square = \square$$

$$\square \bigcirc \square = \square$$

三、看谁算得又对又快。



四、解决问题。

1.草地上有 12 只兔子，5 只鸡。跑走了 6 只兔子，还剩几只兔子？

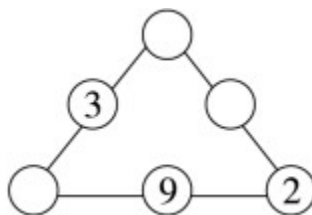
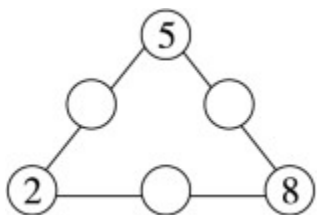


$$\square \bigcirc \square = \square \quad (\quad)$$

2.公共汽车上一共有 18 人，到站后有 9 人下车，同时又有 7 人上车，现在公共汽车上有多少人？

答：现在公共汽车上有_____人。

五、在○里填上数，使每条线上的三个数相加都得 16。



答案：

一、9 6 8 9 9 5 6 7 8 9

二、 $12 - 3 = 9$ $15 - 8 = 7$ $15 - 7 = 8$ $13 - 9 = 4$

三、11 6 9 11 6 14 4 2 6 9 13 9

四、**1.** $12 - 6 = 6$ (只)

2. $18 - 9 + 7 = 16$ (人) 16

五、**1.** 4 6 4 7 8 5

2. 9 6 3 5 8 6