

第五单元过关检测卷

一、认真填一填。(每空1分,共25分)

1. 人民币的单位有()、()、(), 其中最大的单位是()。



2. 1张 可以换()张 , 还可以换()张 。

3. 1张 以换()张)张 。

4.



()元()角

如果用这些钱去买一个8元的卷笔器, 还差()钱。

5. 写出下面人民币的面值。



() () () ()



() () () ()

6. 60角=()元

9元=()角

4角5分=()分

70分=()角

8角=()分

1元6角=()角

二、智慧辨一辨。(对的画“√”，错的画“×”)(每题1分，共4分)

1. 元、角、分相邻单位之间的进率是100。()

2. 2个5角和10个1角相等。()

3. 一块橡皮5角，一支钢笔6元5角，橡皮比钢笔便宜1元。()

4. 从6张1元钱、1张5元钱中拿6元钱，可以有两种不同的拿法。()

三、快乐算一算。(9分)

$$6\text{角} + 8\text{角} = (\quad)\text{元}(\quad)\text{角}$$

$$18\text{元} - 9\text{元} = (\quad)\text{元}$$

$$6\text{角} + 4\text{元} = (\quad)\text{元}(\quad)\text{角}$$

$$1\text{元}8\text{角} - 4\text{角} = (\quad)\text{元}(\quad)\text{角}$$

$$1\text{元} - 2\text{角} = (\quad)\text{角}$$

$$1\text{元}2\text{角} + 8\text{角} = (\quad)\text{元}$$

四、在○里填上“>”“<”或“=”。(8分)

$$8\text{元}1\text{角} \bigcirc 8\text{元}$$

$$8\text{元} \bigcirc 7\text{元}9\text{角}$$

$$90\text{分} \bigcirc 9\text{角}$$

$$20\text{元}7\text{角} \bigcirc 27\text{角}$$

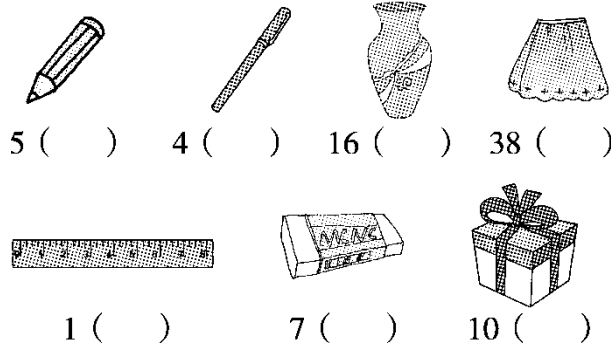
$$48\text{元} \bigcirc 4\text{元}8\text{角}$$

$$99\text{元}9\text{角} \bigcirc 100\text{元}$$


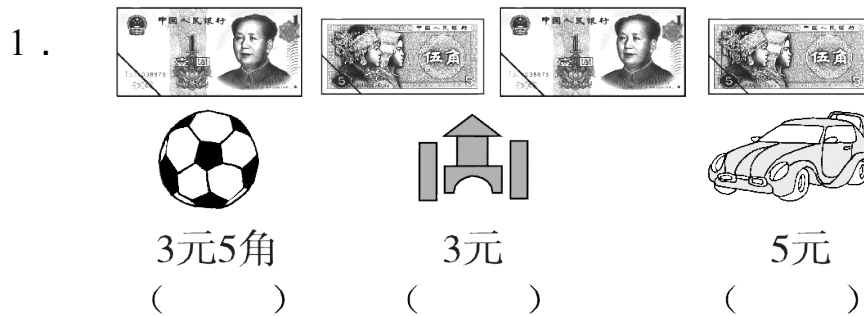
$$78\text{分} \bigcirc 8\text{角}$$

45分 ○ 3元9角

五、你能填上合适的人民币单位吗？(7分)

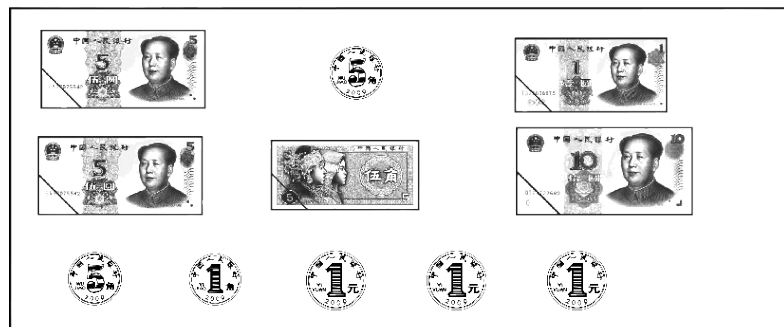



六、给出的钱正好能买什么？在能买的物品下面画“√”。(每题3分，共6分)



七、解决问题。(1, 3题每题6分, 2题12分, 4题17分, 共41分)

1. 买下面的物品各一件该怎样付钱？请圈一圈。

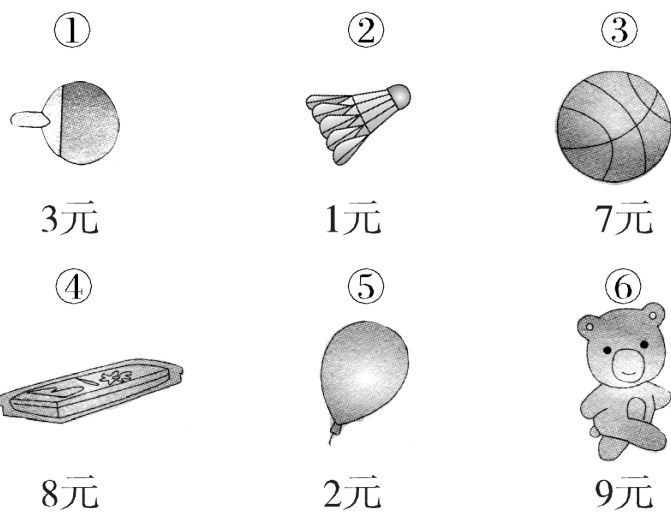


2. 我来当收银员。(算一算, 填一填)



| | | | |
|--------|--|--|--|
| | | | |
| 要付的钱数 | | | |
| 付出的钱数 | | | |
| 应找回的钱数 | | | |

3. 如果你有 10 元钱, 在正好花完的情况下, 可以买哪两件不同的物品? 将序号写在横线上。



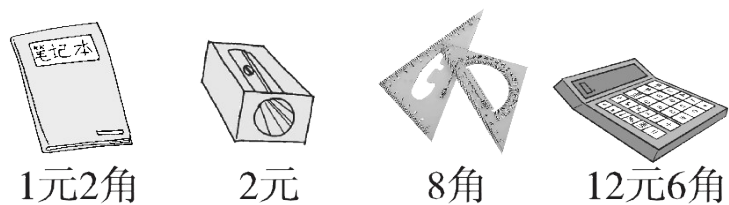
可以买：

方法一：_____；

方法二：_____；

方法三：_____。

4. 去文具店买文具。



(1) 买一本笔记本和一副三角尺要花多少钱？

(2) 一个转笔刀比一个计算器便宜多少钱？

(3) 你还能提出什么数学问题？并解答。

答案

一、1. 元 角 分 元 2.2 10

3. 2 2 (答案不唯一) 4.7 6 4角

5. 1分 1角 5角 1元 1元 5元 20元 1角

6. 6 90 45 7 80 16

二、1. \times 2. $\sqrt{\quad}$ 3. \times 4. $\sqrt{\quad}$

三、1 4 9 4 6 1 4 8 2

四、 $>$ $>$ $=$ $>$ $>$ $<$ $<$ $<$

五、角 元 元 元 元 角 元

六、1. () ($\sqrt{\quad}$) () 2. ($\sqrt{\quad}$) ()

七、1. 略

2. 要付的钱数：5元8角 1元4角 7元2角

应找回的钱数：2角 6角 2元8角

3. ①③ ②⑥ ④⑤

4. (1) 1元2角 + 8角 = 2元

(2) 12元6角 - 2元 = 10元6角

(3) 略