
期末总复习 黄冈市名校期末测试卷

一、填一填。(每空 1 分,共 26 分)

1. 当你在野外迷路时,大树的枝叶可以帮你识别方向,枝叶茂盛的一面是()面,枝叶稀疏的一面是()面。

2. 晚上 7 时用 24 时计时法表示是(),13 时 20 分用普通计时法表示是()。

3. 要使 $\square 64 \div 5$ 的商是两位数,“ \square ”中最大能填();要使 $664 \div \square$ 的商是三位数,“ \square ”中最大能填()。

4. 有两个长方形,长都是 2 厘米,宽都是 1 厘米,如果把它们拼成一个正方形,这个正方形的面积是()平方厘米,周长是()厘米。如果把它们拼成一个大长方形,这个大长方形的面积是()平方厘米,周长是()厘米。

5. 星期天,爸爸从 19 时 30 分开始观看球赛,球赛进行了 105 分钟,这场球赛在()时()分结束。

6. 有四名小学生 50 m 赛跑的成绩分别是 1 号 7.03 秒,2 号 8.09 秒,3 号 8.1 秒,4 号 7.3 秒,成绩最好的是(),最差的是()。

).

7. 用 0、2、5、8 能组成()个没有重复数字的三位数。

8. 在()里填上合适的单位。

学校操场面积为 800()。 明的身高为 132(

).

课桌面的面积为 20()。 黑板的周长为 9(

).

9. 最大的两位数与最大的一位数的积是(), 商是()。

10. 今年是()年(填“平”或“闰”), 有()个星期零()天。

11. 在○里填上“>”“<”或“=”。

2 平方米○2000 平方分米

9 元 6 分○9.6 元

二、辨一辨。(对的画“√”, 错的画“×”)(每题 1 分, 共 5 分)

1. $8\boxed{\quad}6 \div 4$, 要使商的中间有 0, 且没有余数, $\boxed{\quad}$ 里最大可填 3。 (

)

2. 张明 9 月 31 日从上海回来了。 ()

3. $1 \text{ 平方分米} = \frac{1}{100} \text{ 平方米} = 0.01 \text{ 平方米}$ 。 ()

4. 一个长方形和一个正方形的周长相等, 它们的面积也一定相等。()

5. 9时15分就是21时15分。 ()

三、选一选。(把正确答案的序号填在括号里)(每题2分, 共10分)

1. 要使 $\square 4 \times 25$ 的积是三位数, \square 里最大填()。

A. 4 B. 2 C. 3

2. 王明面向西南站立, 他的背朝()方向。

A. 东北 B. 东南 C. 西北

3. 同在大月的节日是()。

A. 元旦节、教师节 B. 国庆节、儿童节

C. 劳动节、植树节

4. 李华7月14日至8月5日参加了夏令营活动, 一共去了()天。

A. 21 B. 22 C. 23

5. 下面的年份中是闰年的有()个。

1890年 1996年 2000年 1700年 2010年 2100年 1984年

A. 5 B. 3 C. 4

四、计算挑战。(共23分)

1. 直接写出得数。(每题 1 分, 共 8 分)

$230 \times 3 =$

$6 \times 600 =$

$0 \div 128 =$

$740 - 300 =$

$21 \times 40 =$

$87 + 23 =$

$1.3 - 0.8 =$

$7.8 + 0.5 =$

2. 列竖式计算, 带☆的要验算。(每题 2 分, 共 6 分)

$\star 39 \times 93 =$

$\star 618 \div 3 =$

$7.3 - 3.8 =$

3. 计算下面各题。(每题 3 分, 共 9 分)

$3.5 + 7.8 - 6.3$

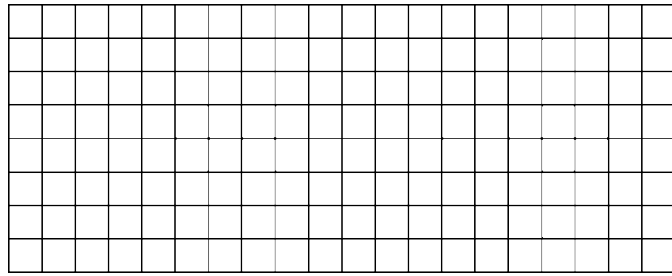
$(708 - 613) \times 23$

$58 \times (60 \div 4)$

五、动手操作, 智慧大脑。(6 分)

下面每个小方格代表 1 平方厘米, 在方格纸上, 画出周长是 12 厘米

的长方形或正方形, 你能画几个? 算出它们的面积, 填入表中。



长/厘米	宽/厘米	周长/厘米	面积/平方厘米


我的发现：_____

_____。

六、走进生活，解决问题。(每题 6 分，共 30 分)

1. 一个未关紧的水龙头 1 分钟滴水 50 克，照这样计算，1 小时滴水

多少千克？



2. 三年级有 90 名学生。每两人用一张课桌，如果把这些课桌平均

放在 3 间教室里，每间教室放多少张？

3. 一块正方形菜园的四周围了一圈篱笆，篱笆长 80 米。这个菜园的面积是多少？

4. 小新从家到学校要走 1.5 千米。他走了 0.4 千米后又回家取了一本书，这样他比平时上学要多走多少千米？

5. 男、女生喜欢课外书籍情况统计表

人数 性别	种类	故事书	科技书	文艺书	漫画书
	男生	18			6
女生		4	12		

(1)喜欢故事书的女生比男生少 7 人，喜欢故事书的女生有多少人？

(2)喜欢科技书的男生是女生的 3 倍，喜欢科技书的男生有多少人？

(3)喜欢文艺书的女生比男生多 5 人，喜欢文艺书的男生有多少人？

(4)喜欢故事书的男生人数是喜欢漫画书的女生人数的 2 倍，喜欢漫画书的女生有多少人？

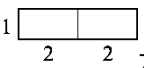
答案

一、1.南 北

2. 19:00 下午1时20分

3. 4 6

4. 4 8 4 10 [点拨]可以画简易图,如:是拼成的正

方形,是拼成的长方形。

5. 21 15

6. 1号 3号

7. 18

8. 平方米 厘米 平方分米 米

9. 891 11

10. 略。

11. < <

二、1.√ 2.× 3.√ 4.× 5.×

三、1.C 2.A 3.C 4.C 5.B

四、1.690 3600 0 440 840 110 0.5 8.3

2. ☆ $39 \times 93 = 3627$

$$\begin{array}{r} 39 \\ \times 93 \\ \hline 117 \\ 351 \\ \hline 3627 \end{array} \quad \text{验算:} \quad \begin{array}{r} 93 \\ \times 39 \\ \hline 837 \\ 279 \\ \hline 3627 \end{array}$$

☆ $618 \div 3 = 206$


$$\begin{array}{r} 206 \\ 3 \overline{)618} \\ \underline{6} \\ 18 \\ \underline{18} \\ 0 \end{array} \quad \text{验算:} \quad \begin{array}{r} 206 \\ \times 3 \\ \hline 618 \end{array}$$

$7.3 - 3.8 = 3.5$

$$\begin{array}{r} 7.3 \\ - 3.8 \\ \hline 3.5 \end{array}$$

3.

五、



长/厘米	宽/厘米	周长/厘米	面积/平方厘米
5	1	12	5
4	2	12	8
3	3	12	9

周长相等的长方形中，长与宽越接近，面积越大

六、1.1 小时 = 60 分

$$50 \times 60 = 3000(\text{克}) = 3 \text{ 千克}$$

答：1 小时滴水 3 千克。

$$2. 90 \div 2 \div 3 = 15(\text{张})$$

答：每间教室放 15 张。

$$3. 80 \div 4 = 20(\text{米})$$

$$20 \times 20 = 400(\text{平方米})$$

答：这个菜园的面积是 400 平方米。

$$4. 0.4 + 0.4 = 0.8(\text{千米})$$

答：这样他比平时上学要多走 0.8 千米。

[点拨]他走了 0.4 千米后又回家取了一本书，一共多走了两个

0.4 千米。

$$5. (1) 18 - 7 = 11(\text{人})$$

答：喜欢故事书的女生有 11 人。

(2) $4 \times 3 = 12$ (人)

答：喜欢科技书的男生有 12 人。

(3) $12 - 5 = 7$ (人)

答：喜欢文艺书的男生有 7 人。

(4) $18 \div 2 = 9$ (人)

答：喜欢漫画书的女生有 9 人。