

## 第5单元跟踪检测卷

一、填一填。(每空1分,共22分)

1. 人民币的单位有( )、( )、( )。

2. 一张  可以换( )张 , 还可以换(

)张 。

3. 写出下面的钱数。



( )元( )角



( )元( )角

4. 在( )里填上合适的单位“元”“角”或“分”。



12 ( ) 5 ( )



13 ( )



5 ( ) 5 ( )

5.



6. 我会买物品。




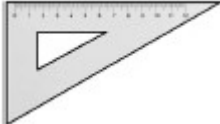
1元2角



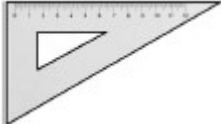

6角



30元

(1) 买一本  和一个  , 一共( )元( )角。

(2) 上面三种物品各买一个, 一共( )元( )角。

(3) 小华买了一个  和一个  , 付给售货员 40

元钱, 应找回( )元( )角。

## 二、我会按要求解题。(共 30 分)

1. 我会转化。(每题 1 分, 共 6 分)

3 元 = ( ) 角

1 元 6 角 = ( ) 角

29 角 = ( ) 元 ( ) 角

70 分 = ( ) 角

1 元 = ( ) 角 = ( ) 分

8 角 = ( ) 分

2. 我会比大小。在  $\bigcirc$  里填上“>”“<”或“=”。(每题 1 分, 共 6 分)

4 元  $\bigcirc$  50 角

38 角  $\bigcirc$  60 分

20 角  $\bigcirc$  2 元

6 元 4 角  $\bigcirc$  4 元 6 角

16 角  $\bigcirc$  16 分

54 角  $\bigcirc$  5 元 4 角

3. 我会圈出每件物品要付出的钱。(每题 3 分, 共 6 分)

(1)



15 元



(2)



11元7角



4. 给出的钱能买什么? 在能买的物品下面画“√”。(每题 6 分, 共 12 分)

(1)



2元5角

( )



3元

( )



4元5角

( )

(2)



9元

( )



7元5角

( )



8元5角

( )

三、算一算。(每题 2 分, 共 16 分)

4角 + 5角 = ( )角    4元3角 + 5元 = ( )元( )角

7元 + 12元 = ( )元    8角 + 7角 = ( )元( )角


9角 - 3角 = ( )角    5角 + 2元4角 = ( )元( )角

1元 - 7角 = ( )角    6元8角 - 1元4角 = ( )元( )角

四、走进生活, 解决问题。(1 题 4 分, 2、3 题每题 6 分, 4、5 题每题 8 分, 共 32 分)

1. 在合适的答案下面画“√”。



买这个布娃娃我付了4张 , 找回的钱比10元少。



布娃娃的价钱是多少？

53 元	63 元	73 元

2. 我会算应付的钱和应找的钱。



1元2角



12元









5元



8元



1元

买的物品			
应付的钱			
付的钱			
应找的钱			

3. 用16元钱正好能买下面哪两种物品？



7元



12元



9元



4元



3元

4. 超市购物。



3元7角



6元5角



8元



1元5角



2元

- (1)  比  贵多少钱？

- (2) 你还能提出其他数学问题并解答吗？


5.



6元





5角





1元5角



1元

- (1)  和  一共( )钱。

- (2) 李明用( )张5角钱正好买两把直尺。

(3) 用2张  买一个  , 应找回( )钱。

## 答案

一、1. 元 角 分 2. 10 5

3. 15 6 1 8

4. 元 角 元 角 分

5. 3元5角 4元5角

6. (1) 1 8 (2) 31 8 (3) 9 4

二、1. 30 16 2 9 7 10 100 80

2. < > = > > =

3. (1) 圈10元和5元

(2) 圈10元, 1元, 5角硬币, 1角和1角硬币

4. (1) (√) ( ) ( )

(2) ( ) (√) ( )

三、9 9 3 19 1 5 6 2 9 3 5 4

四、1.

53元	63元	73元
		√

[点拨] 一共付了80元, 又找回的钱比10元少, 说明了布娃娃的价格一定是70多元。

---



2. 13元 2元4角 13元 7元 1角 2元

3.  $12元 + 4元 = 16元$   $7元 + 9元 = 16元$

口答：用16元钱正好能买玩具企鹅和排球，也能买玩具车和帽子。

4. (1)  $3元7角 - 1元5角 = 2元2角$

口答：拼图比棒棒糖贵2元2角钱。

(2) 购买一把  和一把  要花多少钱？

$6元5角 + 8元 = 14元5角$

口答：购买一把梳子和一把剪刀要花14元5角钱。

[点拨] 答案不唯一。

5. (1) 7元5角

(2) 4

(3) 5角