

2023 年北师大版小学一年级数学下册总复习测试卷


一、选择题(10 题每题 2 分)

1. 王老师今年 46 岁, 小明比王老师小得多, 小明今年可能()岁.

- A . 12 B . 42 C . 38

2.  的价钱比 30 元多得多。 的价钱可能是()元。

- A . 25 B . 35 C . 65

3.  用左图这样两个完全相同的长方形, 可以拼成()。

- A . 一个长方形
B . 一个正方形
C . 一个长方形或一个正方形

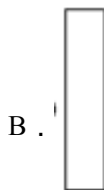
4. 小朋友们排队做操, 小红前面有 7 人, 后面有 4 人, 这一队共有()人。

- A . 11 B . 12 C . 10

5. 7 个小朋友站成一排, 从左往右数小华是第 5 个, 从右往左数小华是()。

- A . 第 5 个 B . 第 2 个 C . 第 3 个

6. 下面的图形折一次不能折出的图形是()。



7. 比 40 大, 比 45 小, 而且是双数, 这个数可能是()。



- A . 40 B . 41 C . 44

8. 小芳有 25 支铅笔, 小丽的铅笔比小芳的多一些, 小丽可能有()铅笔。

- ① 28 支 ② 100 支 ③ 21 支

- A . ① B . ② C . ③

9. 把  放在  里, 一个

 里放 2 个, 另一个  放 () 个.

A. 1 B. 2 C. 3

10. 一个两位数, 十位上是 6, 个位上的数比十位上的数小 3, 这个数是 ().

A. 30 B. 63 C. 69

二、填空题(10 题每题 2 分)

11.  ()

12. 从 3, 9, 1 这 3 个数中任选两个数, 组成的最大的两位数与最小的两位数的差是().

13. 1 个十和 3 个一合起来是(); 7 个一和 1 个十合起来是().

14. 从 8 数到 15, 你一共数了()个数.

15. 照这样排下去, 第 10 张卡片上的数是().

1	2	3	1	2	3
---	---	---	---	---	---	-------

16. 盒子里面有 9 颗珠子. 数一数, 一共有()颗珠子.



17. 

一共有()只小动物, 从左往右数,  排第(), 从右往左数,  排第().

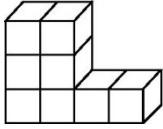
18. 先找规律再填数: 56、52、48、44、()、()、32.

19. 找规律填数.

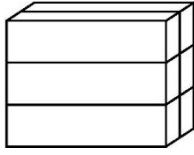
(1) 33, 36, (), 42, ().

(2) 70, 75, (), 85, ().

20. 数 shǔ yī yī 数 shǔ, 各 gè 有 yǒu 多 duō 少 shǎo 个 gè?



()个正方体



()个长方体

三、判断题(5题每题2分)

21. $70 + 0 > 70 - 0$ ()
22. 三根同样长的小棒可以拼成一个三角形。()
23. “44”中个位上的4和十位上的4表示的意义是不同的。()
24. 13和31中的“3”表示的意义相同。()
25. 买一个学生书包大约要20角。()

四、解答题(5题每题10分)

26.  38元  19元  27元



- 1) 带40元钱买一个书包，应找回多少元？
- 2) 油画棒比文具盒贵多少元？

27. 购物.

 2元5角  35元  13元  28元  13元8角

- (1) 买  和  一共花多少元？

$$\square \bigcirc \square = \square \text{ (元)}$$

(2) 一个  需要多少角？买一个  可以怎样付钱？




(3) 拿 15 元钱买一个  ，应该找回多少元？

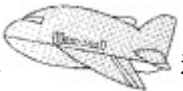

28. 他们选哪两辆车最合适？


乐器组有 32 人。
舞蹈组有 18 人。

		
4座	36座	42座
		
	14座	8座

29. 买玩具 .

		
45元	37元	28元

(1) 买一架  和一辆  ，一共要多少元？

(2) 笑笑买了一辆  ，售货员找回 22 元，她给了售货员多少元？

(3) 淘气有 30 元钱，买一艘  ，还差多少元？

30 . 一年级同学去旅游 . 第一辆车能坐 40 人 , 第二辆车能坐 55 人 . 一共可以坐多少人 ?

参考答案：

1 . A

2 . C

3 . C

4 . B

5 . C

6 . C

7 . C

8 . A

9 . B

10 . B

11 . 

12 . 80

13 . 13 17

14 . 8

15 . 1

16 . 26

17 . 9 3 8

18 . 40 36

19 . (1)39 45 (2)80 90

20 . 8 6

21 . ×

22 . √

23 . √

24 . ×

25 . ×

26 . (1) $40-38=2$ (元) (2) $27-19=8$ (元)

27 . (1) $28+35=63$ (元) (2) 2元5角=25角 可以付一张2元的和一张5角的

(3) $15\text{元}-13\text{元}8\text{角}=1\text{元}2\text{角}$

28 . $32 + 18 = 50$ (人) $36 + 14 = 50$ (座) $42 + 8 = 50$ (座)

答：选36座和14座的或选42座和8座的最合适。

29 . (1) $37 + 28 = 65$ (元)

(2) $28 + 22 = 50$ (元)

(3) $45 - 30 = 15$ (元)

30 . 一共可以坐95人。