









4.21 100 以内数的数的顺序

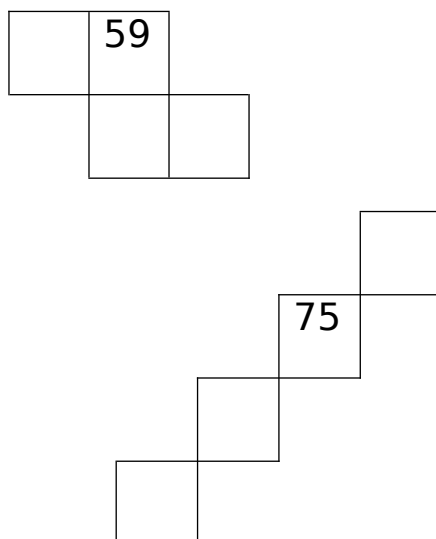
一、按顺序在空格里填数，并回答下列问题。

| | | | | | | | | | |
|---|---|----|----|----|--|---|---|----|--|
| 1 | | 3 | | 5 | | 7 | | 9 | |
| | | 13 | | | | 17 | | 19 | |
| | | | | | | | | | |
| | | | 34 | | |  | | | |
| |  | | | | | | | | |
| | | | | 55 | | | | | |
| | | 63 | | 65 | | |  | | |
| | | | | | | 77 | | | |
|  | | | | | | | | | |
| | 92 | | | | | | | | |

(1)  在第()号， 在第()号， 在第()号， 在第()号。

(2) 给表中个位上是 8 的数涂上绿色，十位上是 5 的数涂上黄色，个位上的数字比十位上的数字多 3 的数涂上蓝色。

(3) 按照上表的数的顺序表填空。



二、按规律填数。

(1) 90、80、()、()、50、()。

76

(2) 37、()、()、40、41、()。

(3) 11、()、()、44、()、()。

86

(4) 65、()、55、()、()、40。

三、想一想，填一填。

96

| | | |
|--|----|--|
| | | |
| | 67 | |
| | | |

答案：

一、(1) 42 37 68 81 (2)略 (3) 44 53 54 58 69 70 66 84

93

二、(1)70 60 40 (2)38 39 42 (3)22 33 55 66

(4)60 50 45

三、

| | | |
|-----------|-----------|----|
| 12 | 13 | 14 |
| 22 | 23 | 24 |
| 32 | 33 | 34 |

| | | |
|-----------|-----------|-----------|
| 58 | 59 | 60 |
| 68 | 69 | 70 |
| 78 | 79 | 80 |

| | | |
|-----------|-----------|-----------|
| 56 | 57 | 58 |
| 66 | 67 | 68 |
| 76 | 77 | 78 |