





第2单元跟踪检测卷

一、看谁算得又对又快。(每题1分,共15分)

	$12-3=$	$14-7=$	$9+4=$	$12-4-3=$	$13-7+9=$	
	$6+7=$	$11-9=$	$16-7=$	$12-5+4=$	$5+3+7=$	
	$15-9=$	$12-8=$	$15-7=$	$18-4+3=$	$16-2-5=$	

二、我会按要求解题。(共46分)

1. 在()里填上合适的数。(每题2分,共12分)

$(\quad) + 8 = 13$

$(\quad) - 6 = 12$

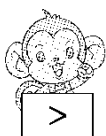
$(\quad) - 8 = 8$

$7 + (\quad) = 15$

$11 - (\quad) = 5$

$17 - (\quad) = 9$

2. 比一比。(每题1分,共9分)



$11 - 7 \bigcirc 5$

$14 - 6 \bigcirc 7$

$13 - 5 \bigcirc 8$

$14 - 5 \bigcirc 9$

$13 - 9 \bigcirc 4$

$14 - 7 \bigcirc 6$

$12 - 7 \bigcirc 15 - 9$

$16 - 7 \bigcirc 12 - 4$

$11 - 6 \bigcirc 13 - 8$

3. 排一排。(每空1分,共5分)

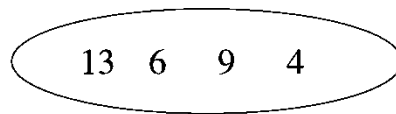
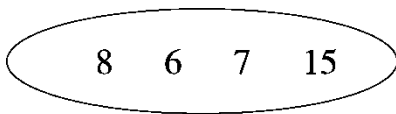
$\square < \square < \square < \square < \square$

4. 连一连。小猫钓的可能是哪两条鱼？(6分)




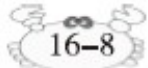
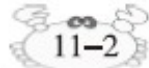
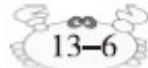
5. 选一选。从圈里选出三个数写出一道加法算式和两道减法算式。

(每空 1 分，共 6 分)




6. 填一填。(每题 1 分，共 8 分)

下面每组算式得数相同，请你在括号里填上合适的数。

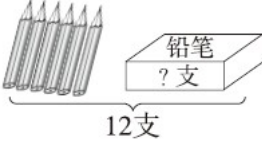
 $8+6$	 $16-8$	 $11-2$	 $13-6$
$(\quad) + 9$	$13 - (\quad)$	$15 - (\quad)$	$16 - (\quad)$
$(\quad) - 3$	$(\quad) - 4$	$(\quad) - 8$	$(\quad) - 7$

三、看图列式计算。(每题 2 分，共 4 分)

1. ? 个 = (个)




○

2.  = (支)

○ =

四、走进生活，解决问题。(1题5分，其余每题6分，共35分)

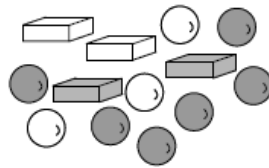
1.



还有几只没捉住？

○ = (只)

2. 一共有13块巧克力。



(1) 按形状分，长方体的有4块，其余的全是球形的，球形的有几块？

○ = (块)

(2) 按味道分，原味的有5块，其余的全是牛奶味的，牛奶味的有几块？

○ = (块)

3. 车上共坐了多少人？

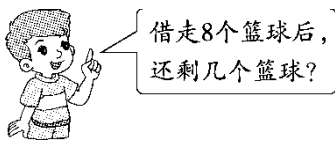


女生有6人，还有3个座位空着。



$$\square \bigcirc \square = \square (\quad)$$

4. 学校体育室有 15 个篮球，11 个足球。



$$\square \bigcirc \square = \square (\quad)$$

5. 包饺子。



(1) 爸爸和佳佳一共包了多少个饺子？

$$\square \bigcirc \square = \square (\quad)$$

(2) 佳佳还要包几个才能与爸爸包的同样多？

$$\square \bigcirc \square = \square (\quad)$$

6. 折星星。



(1) 小红比小方多折了几颗？

$$\square \bigcirc \square = \square (\quad)$$

(2) 小丽比小红少折了几颗？

$$\square \bigcirc \square = \square (\quad)$$

(3) 请你再提出一个问题，并解答。

答案

一、9 7 13 5 15

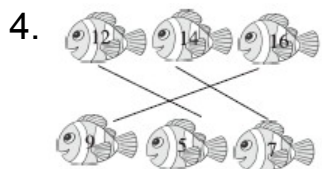
13 2 9 11 15

6 4 8 17 9

二、1.5 18 16 8 6 8

2. < > = = = > < > =

3. $12 - 8$ $13 - 7$ $15 - 8$ $11 - 3$ $11 - 2$



5. $7 + 8 = 15$ $15 - 7 = 8$ $15 - 8 = 7$

$4 + 9 = 13$ $13 - 4 = 9$ $13 - 9 = 4$

6. 5 17 5 12 6 17 9 14

三、1. $11 - 3 = 8$ 2. $12 - 6 = 6$

四、1. $17 - 9 = 8$ 2. (1) $13 - 4 = 9$ (2) $13 - 5 = 8$

3. $12 - 3 = 9$ (人) [点拨]“女生有6人”是多余条件。

4. $15 - 8 = 7$ (个) 5. (1) $12 + 3 = 15$ (个) (2) $12 - 3 = 9$ (个)

6. (1) $13 - 5 = 8$ (颗) (2) $13 - 9 = 4$ (颗)

(3)小丽、小方、小红一共折了多少颗星星? $13 + 5 + 9 = 27$ (颗)

口答：小丽、小方、小红一共折了27颗星星。

(答案不唯一)