

2024 年北师大版小学一年级数学下第一次月考测试卷

测试内容：第一~二单元

测试时间:60 分钟 满分:100 分

题号	一	二	三	四	五	六	七	八	总分
得分									

xià miàn de suàn shì suàn de duì ma duì de huà bù duì de gǎi zhēng

一、下面的算式算得对吗? 对的画“✓”, 不对的改正

guò lái

过来。(6分)

$$16 - 8 = 8$$

()

$$17 - 7 = 9$$

()

$$12 - 9 = 6$$

()

$$14 - 8 = 6$$

()

$$13 - 4 = 8$$

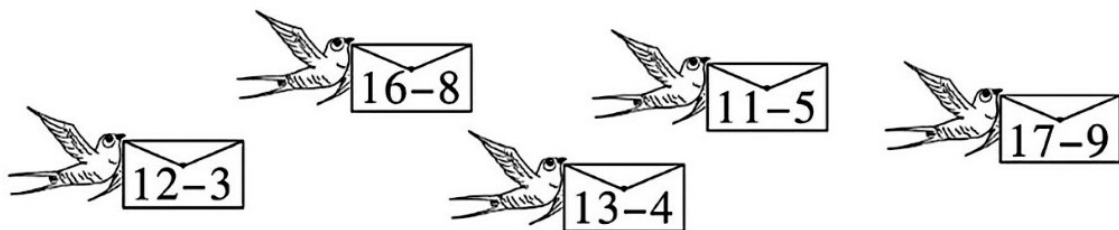
()

$$11 - 8 = 2$$

()

xiǎo yàn zi sòng xìn

二、小燕子送信。(连一连)(10分)



⑧ ⑨ ⑥



jì suàn

三、计算。(31分)

1.看谁都能算对。(10分)

$11-8=$ $17-9=$ $16-7=$ $3+8-9=$

$13-5=$ $13-9=$ $18-9=$ $12-5+8=$

$12-7=$ $12-8=$ $17-8=$ $13-8+6=$

$16-9=$ $12-3=$ $12-9=$ $4+9-7=$

$11-7=$ $16-8=$ $14-9=$ $7+7-8=$

2.在括号里填上合适的数。(9分)

$(\quad)-10=6$ $12-(\quad)=9$ $(\quad)+6=14$

$16-(\quad)=8$ $(\quad)+6=12$ $15-(\quad)=7$

$(\quad)-7=7$ $14-(\quad)=5$ $18-(\quad)=9$

3.在○里填上“>”“<”或“=”。(6分)

$17-9 \bigcirc 10-1$ $13-8 \bigcirc 15-9$ $7+4 \bigcirc 12-2$

$15-6 \bigcirc 3+5$ $12-5 \bigcirc 7+0$ $12-7 \bigcirc 15-6$



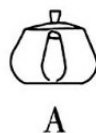
4.在○里填上“+”或“-”。(6分)

$19 \bigcirc 7 \bigcirc 2=10$ $16 \bigcirc 9=14 \bigcirc 7$ $6 \bigcirc 6=18 \bigcirc 6$

$20 \bigcirc 5 \bigcirc 5=10$ $15 \bigcirc 7=4 \bigcirc 4$ $20 \bigcirc 10=5 \bigcirc 5$

míng míng kàn dào de shì tú lín lín kàn dào de shì tú
四、明明看到的是图(),琳琳看到的是图()。

(6分)



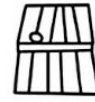
tā men kàn dào de gè shì nǎ yī fú tú lián yī lián
 五、它们看到的各是哪一幅图? 连一连。(6分)



小鸟

小猫

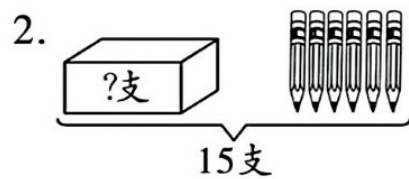
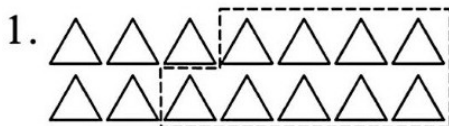
小狗



tián biǎo gé
 六、填表格。(8分)

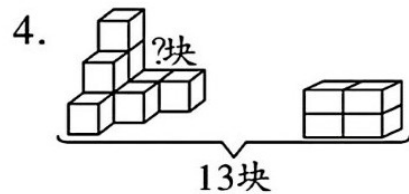
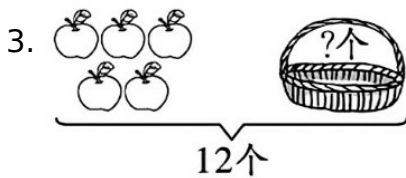
原有	12 块	13 支	14 把	15 根
卖出	8 块	7 支	6 把	9 根
还剩	() 块	() 支	() 把	() 根

kàn tú liè shì jì suàn
 七、看图列式计算。(12分)



$\square \circ \square = \square (\text{个})$

$\square \circ \square = \square (\text{支})$



$\square \circ \square = \square (\text{个})$

$\square \circ \square = \square (\text{块})$

...

jiě jué wèn tí

八、解决问题。

(21分)

1.踢毽子。(6分)

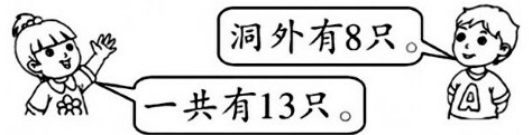


(1)小兰和小青一共踢了多少下? (2)小玲比小兰多踢了多少下?


2.每人一个座位，还空几个座位?(3分)



3.洞里还有多少只蚂蚁?(4分)



4.热闹的小河。(8分)



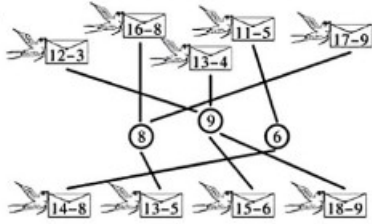
(1)鹅比鸭少多少只?

(2)鸡比鹅多多少只?

参考答案

一、 $\sqrt{17-7=10}$ $12-9=3$ \checkmark
 $13-4=9$ $11-8=3$

二、



三、1. 3 8 9 2 8 4 9 15 5 4 9

11 7 9 3 6 4 8 5 6

2. 16 3 8 8 6 8 14 9 9

3. < < > > = <

4. - - - - + - - -

- + - +

四、B A

五、小鸟 小猫 小狗



六、4 6 8 6

七、1. $14-9=5$ 2. $15-6=9$ 3. $12-5=7$

4. $13-4=9$

八、1. (1) $5+7=12$ (下)

(2) $13-5=8$ (下)

2. $13-7=6$ (个) 3. $13-8=5$ (只)

4. (1) $16-8=8$ (只)

(2) $14-8=6$ (只)